

一起变更好



金标尺教育

河北省考 500 题 题本

河北金标尺行测研究院

河北金标尺教育咨询有限公司

一起变更好

金标尺教育
职通编制 到金标尺

目录

金标尺教育
职通编制 到金标尺

数量关系	2
资料分析	15
言语理解	43
片段阅读	43
语句表达	59
逻辑填空	65
判断推理	74
图形推理	74
类比推理	79
定义判断	81
逻辑判断	90

金标尺教育
职通编制 到金标尺

金标尺教育
职通编制 到金标尺

金标尺教育
职通编制 到金标尺

金标尺教育
职通编制 到金标尺

金标尺教育
职通编制 到金标尺

金标尺教育
职通编制 到金标尺

金标尺教育
职通编制 到金标尺

金标尺教育
职通编制 到金标尺

金标尺教育
职通编制 到金标尺

金标尺教育
职通编制 到金标尺

金标尺教育
职通编制 到金标尺

金标尺教育
职通编制 到金标尺

金标尺教育
职通编制 到金标尺

金标尺教育
职通编制 到 报名热线: 13161685939

金标尺教育
职通编制 1 到金标尺

金标尺教育
金标尺学员专用资料 编制 到金标尺

数量关系

1.某幼儿园有三个学前班，每班孩子数相等。一班的女孩人数与二班的男孩人数相等，三班的女孩人数占三个班全部女孩人数的 $\frac{2}{5}$ ，那么三个班里的男孩数占全部孩子人数的几分之几？

A. $\frac{1}{4}$

B. $\frac{4}{9}$

C. $\frac{1}{2}$

D. $\frac{2}{3}$

2.有 49 个运动员，每人胸前有一个号码，号码从 1 到 49 各不同，请你挑出若干个运动员，排成圆圈，使任何相邻两个运动员号码数乘积小于 100，你最多能挑多少个运动员？

A.10

B.14

C.18

D.20

3.有 17 个完全一样的信封，其中 7 个分别装了 1 元钱，8 个分别装了 10 元钱，2 个是空的，问最少需要从中随机取出几个信封，才能保证支付一笔 12 元的款项而无需找零？

A.4

B.7

C.10

D.12

4.某地遭受重大自然灾害后，A 公司立即组织捐款救灾。已知该公司有 100 名员工捐款，捐款额有 300 元、500 元和 2000 元三种，捐款总额为 36000 元，则捐款 500 元的员工数量是：

A.11 人

B.12 人

C.13 人

D.14 人

5.甲、乙两人进行自行车比赛，甲每小时骑 12 千米，乙每小时骑 11 千米，乙比甲多骑了 20 分钟，结果乙比甲多骑了 2 千米。则乙总共骑了（ ）千米。

A.20

B.22

C.24

D.25

6.建筑公司安排 100 名工人去修某条路，工作 2 天后抽调走 30 名工人，又工作了 5 天后再次抽调走 20 名工人，总共用时 12 天修完。如希望整条路在 10 天内修完，且中途不得增减人手，则要安排多少名工人？

A.80

B.90

C.100

D.120

7.4 个不同的小球放入 4 个不同的盒子里，每个盒子有一个球，有（ ）种方法。

A.4

B.10

C.12

D.24

8.某单位的招聘考试有 1000 人报名，录取了 150 人，被录取者比未被录取者的平均成绩高出 38 分，两者总平均分是 55 分，录取分数线比录取者的平均分数少 6.3 分，则录取分数线是（ ）分。

A.79.5

B.81

C.83

D.87.3

9.一种鞋过去进价 150 元，卖掉后每双的毛利润 50 元，现在这种鞋的进价降低，为了速销，打八折出售，毛利润比过去增加了 20%，现在每双鞋进价（ ）元。

A.80

B.100

C.120

D.140

19.人工生产某种装饰用珠链，每条珠链需要珠子 25 颗，丝绒 3 条，搭扣一对，以及 10 分钟的个人工劳动。现有珠子 4880 颗，丝线 586 条，搭扣 200 对，4 个工人。则 8 小时最多可以生产珠链（ ）。

- A.200 条 B.195 条 C.193 条 D.192 条

20.农场有大型和小型两种联合收割机共 7 台，一台大型收割机每小时能收割 14 亩麦田，一台小型收割机每小时能收割 10 亩麦田。周一至周五所有收割机每天都工作 8 小时，周六和周日只有小型收割机每天工作 4 小时，正好一个星期将农场全部 3520 亩的麦田收割完毕。问该农场共有小型收割机多少台？

- A.3 B.4 C.5 D.6

21.bloom 字母写错位，出错的个数有（ ）种。

- A.57 B.58 C.59 D.60

22.小芳目前有 9 张纸币，其中有 1 角、5 角、1 元以及 5 元的纸币四种，且每种纸币至少有 1 张。若这 9 张纸币总值是 17.7 元，则 5 角的纸币必须有（ ）张。

- A.1 B.2 C.3 D.4

23.18 名游泳运动员中，有 8 名参加仰泳，有 10 名参加蛙泳，有 12 名参加自由泳，有 4 名既参加仰泳又参加蛙泳，有 6 名既参加蛙泳又参加自由泳，有 5 名既参加仰泳又参加自由泳，有 2 名这 3 个项目都参加。这 18 名游泳运动员中，只参加 1 个项目的有多少名？

- A.5 B.6 C.7 D.4

24.一个球体的半径增加 10%后，它的表面积增长百分之几？

- A.10% B.21 C.33.1 D.21%

25.一个边长为 1 的正方形木板，锯掉四个角使其变成正八边形，那么正八边形的边长是多少？

- A. $\frac{1}{2}$ B. $\frac{\sqrt{2}}{2}$ C. $2-\sqrt{2}$ D. $\sqrt{2}-1$

26.对分数 $\frac{11}{1000}$ 进行操作，每次分母加 15，分子加 7，问至少经过几次这样的操作能使得到的分数不小于 $\frac{1}{5}$ ？

- A.46 次 B.47 次 C.48 次 D.49 次

27.某班统计语文考试成绩，经过计算平均成绩为 85.16 分，事后复查，发现将王明的成绩 96 分误作 69 分计算了，经过重新计算，语文平均成绩为 85.7 分，那么这个班有多少名学生？

- A.45 B.50 C.55 D.60

28. 在一条公交线路上，有一行人、一骑自行车的人和一辆公共汽车同时出发，自行车的速度是行人速度的 3 倍。每隔 10 分钟有一辆公共汽车超过行人，每隔 20 分钟有一辆公共汽车超过自行车，那么，每隔几分钟开出一辆公共汽车？

- A.3 B.5 C.8 D.9

29. 山泉农场要完成 1500 公亩的播种任务，原计划用 4 部播种机，每部每天播种 25 公亩。为了加快速度，增加了 2 部同样的播种机，这样，能够比原计划提前（ ）天完成任务。

- A.2 B.3 C.4 D.5

30. 甲、乙两人若共同加工一批零件 6 天可以完成，若甲、乙两人单独加工，则完成任务所需天数之比为 2 : 3，则乙单独完成任务所需天数比甲多（ ）天。

- A.7 B.5 C.3 D.1

31. 10 个连续偶数的和是以 1 开始的 10 个连续奇数和的 2.5 倍，其中最大的偶数是多少？

- A.34 B.38 C.40 D.42

32. 甲、乙、丙都是某游泳馆的会员，甲每 5 天去一次游泳馆，乙每 9 天去一次游泳馆，丙每 12 天去一次游泳馆。某天三人在游泳馆相遇，那么下次相遇至少需要（ ）天。

- A.60 B.180 C.360 D.540

33. 一个等差数列共有七项，公差为 0，从大到小排列，前五项之和为 70，后五项之和为 50，求中间三项之和为多少？

- A.30 B.36 C.42 D.60

34. 定义 $x\Delta y = x^2 - y^2 + n$ ， n 为一定确定的数，已知 $5\Delta 3 = 20$ ，求 $(4\Delta 2) \Delta (3\Delta 1) = ?$

- A.112 B.116 C.124 D.100

35. 幼儿园老师买了 320 个苹果、240 个橘子、200 个鸭梨送给小朋友，老师将这些水果分成同样的礼物（每份礼物中苹果、橘子、鸭梨的个数分别相等），每份礼物中，苹果、橘子、鸭梨最少共有多少个？

- A.17 B.18 C.19 D.20

36. 从 360 到 630 的自然数中有奇数个约数的数有（ ）个。

- A.25 B.23 C.17 D.7

37. 小明到商店购买了一个光盘和一本书，付钱时他把书的定价中的个位上的数字和十位上的数字看反了，准备付 32 元取货。售货员说：“你应该付 50 元才对。”请问书比光盘贵多少元钱？

- A.12 B.42 C.19 D.31

38.同住一个小区的三位同事早上 7:30 分同时出门上班,甲自驾车,乙乘坐公交车,丙骑自行车。如果他们的路程相同,甲 8:00 到达单位,乙 8:30 到达单位,丙 8:15 到达单位,则他们的平均速度比是()。

- A.4:6:5 B.15:10:12 C.12:8:9 D.6:3:4

39.老张和老王两个人在周长为 400 米的圆形池塘边散步。老张每分钟走 9 米,老王每分钟走 16 米。现在两个人从同一点反方向行走,那么出发后多少分钟他们第二次相遇?

- A.16 B.32 C.25 D.20

40.某解放军队伍长 450 米,以每秒 1.5 米的速度前进,一战士以每秒 3 米的速度从队尾跑到队首并立即返回队尾,那么这需要多少时间?

- A.100 秒 B.300 秒 C.400 秒 D.450 秒

41.甲每分钟走 50 米,乙每分钟走 60 米,丙每分钟走 70 米,甲乙两人从 A 地,丙从 B 地同时相向出发,丙遇乙后 5 分钟遇到甲。问 A、B 两地相距多少米?

- A.3600 米 B.4800 米 C.6000 米 D.7800 米

42.两列火车中午十二点从甲乙两地同时出发,相向而行。下午 3 点时,两车相距 100 千米。两车相遇后,继续前行,下午 5 点时,两车相距 200 千米,则甲乙两地相距()千米。

- A.800 B.550 C.450 D.1000

43.某船往返于两个港口间,顺水需要 10 小时,逆水需要 15 小时。某日由于上游水库放水导致水流速度变快,顺水只花了 9 小时,这一条件下逆水需要()。

- A.16 小时 B.17 小时 C.18 小时 D.20 小时

44.一只野兔逃出 80 步后,狼才追它,野兔跑 8 步的路程,狼只需跑 3 步;而狼跑出 4 步的时间,兔子可跑 9 步。那么狼至少要跑多少步才能追上野兔?

- A.162 B.192 C.432 D.512

45.某商场在一楼和二楼间安装一自动扶梯,该扶梯以均匀的速度向上行驶,一男孩与一女孩同时从自动扶梯走到二楼(扶梯本身也在行驶),假设男孩与女孩都做匀速运动,且男孩每分钟走动的级数是女孩的两倍,已知男孩走了 27 级到达扶梯顶部,而女孩走了 18 级到达扶梯顶部(设男孩、女孩每次只跨一级),则扶梯露在外面的部分共有()级。

- A.54 B.64 C.81 D.108

46.光明村计划修一条公路,由甲、乙两个工程队共同承包,甲工程队先修完公路的 $\frac{1}{2}$ 后,乙工程队再接着修完余下的公路,共用 40 天完成。已知乙工程队每天比甲工程队多修 8 千米,后 20 天比前 20 天多修了 120 千米。则乙工程队共修路的天数是:

- A.12 天 B.14 天 C.15 天 D.16 天

47. 一项工程, 在原有工人的基础上, 若再加 8 人, 则 10 天能完成; 若再加 3 人, 则 20 天能完成, 现只能增加 2 人, 则完成这项工程需要的天数是 ()。

- A. 20 天 B. 25 天 C. 30 天 D. 32 天

48. 一袋大米, 假设给一只鸭子吃, 可以吃 20 天 (假设鸭子每天的喂养量相同, 鸡也是如此), 给一只鸡吃, 可以吃 30 天。现在同时给一只鸭子和一只鸡吃, 但因为生病, 鸭子中间有 4 天没有喂, 鸡也有若干天没有喂, 最后这袋大米一共吃了 16 天, 则这期间鸡有 () 天没有喂。

- A. 4 B. 5 C. 6 D. 7

49. 某项工程计划 300 天完成, 开工 100 天后, 由于施工人员减少, 工作效率下降 20%, 问完成该工程比原计划推迟多少天?

- A. 40 B. 50 C. 60 D. 70

50. 有 100 人加工一批零件, 计划 5 天完成。动工 2 天后抽出 20 人休息, 留下的人继续加工。如果每人工作效率不变, 那么加工完这些零件实际用了多少天?

- A. 5 天 B. 5.75 天 C. 6 天 D. 6.75 天

51. 某班有 50 位同学参加期末考试, 结果英文不及格的有 15 人, 数学不及格的有 19 人, 英文和数学都及格的有 21 人。那么英文和数学都不及格的有 () 人。

- A. 4 B. 5 C. 13 D. 17

52. 某校对 100 名学生进行课余兴趣调查。其中, 喜欢书法的有 49 人, 喜欢象棋的有 60 人, 喜欢跆拳道的有 58 人, 同时喜欢书法和象棋的有 30 人, 同时喜欢书法和跆拳道的有 28 人, 三者都喜欢的有 22 人, 没有三者都不喜欢的学生。求同时喜欢象棋和跆拳道的有多少人?

- A. 20 B. 31 C. 35 D. 43

53. 某班 30 人, 数学 22 人优秀, 语文 25 人优秀, 英语 20 人优秀, 这三科全部优秀的学生至少有多少人?

- A. 7 B. 6 C. 5 D. 4

54. 某公司为 60 名员工预定报刊。其中, 预定人文类的人数为科技类人数的一半, 人文类与科技类都预订的人数为只预订科技类人数的三分之一, 则只预定科技类的人数为多少人?

- A. 12 B. 14 C. 36 D. 42

55. 图书馆有一批借阅者需要在图书上签名。这些图书上只有一个签名的书共有 55 本, 同时有甲、乙签名的有 29 本, 同时有甲丙签名的有 23 本, 同时有乙丙签名的有 35 本, 同时有甲、乙、丙签名的有 11 本, 一个签名都没有的有 10 本, 求图书馆这批书有多少本书?

- A. 90 B. 100 C. 130 D. 141

56.某高校对 125 名学生进行问卷调查,在接受调查的学生中,有 57 人准备参加注册会计师考试,有 72 人准备参加教师资格证考试,有 66 人准备参加精算师考试,三者都参加的有 14 人,则只参加两种考试的人数多少人?

- A.24 B.28 C.42 D.56

57.某班级共有 50 人,其中,只参加美术小组的人数与只参加音乐小组的人数的比为 2:3,两个小组都参加的有 15 人,都没参加的有 5 人,则只参加美术小组的人数占参加兴趣小组的人数的比例为 ()。

- A. $\frac{1}{5}$ B. $\frac{4}{15}$ C. $\frac{2}{5}$ D. $\frac{9}{50}$

58.某班级有 60 名足球迷,其中有 26 名同学喜欢德国队,39 名同学喜欢巴西队,28 名同学喜欢西班牙队,喜欢不止一个球队的共有 27 人,没有三个球队都不喜欢的人,则三个球队都喜欢的有多少人?

- A.2 B.3 C.6 D.7

59.青州中学每位校长都是任职一届,一届任期三年,问在 8 年期间青州中学最多可能有几位校长?

- A.2 位 B.3 位 C.4 位 D.5 位

60.在一个口袋中有 10 个黑球、6 个白球、4 个红球,至少从中取出多少个球才能保证其中有白球?

- A.14 B.15 C.17 D.18

61.三个正数之和为 15,则这三个数的乘积不可能是下列哪个数?

- A.44 B.81 C.24 D.126

62.为增强职工的锻炼意识,某单位举行了踢毽子比赛,比赛时长为 1 分钟,参加比赛的职工平均每人踢了 76 个。已知每人至少踢了 70 个,并且其中有一人踢了 88 个,如果不把该职工计算在内,那么平均每人踢了 74 个。则踢得最快的职工最多踢了多少个?

- A.88 B.90 C.92 D.94

63.在一个口袋里有黑球、白球、红球、蓝球分别有 6, 7, 8, 9 个,则至少取出几个球才能保证有 8 个相同颜色的球?

- A.27 B.28 C.29 D.30

64.抽屉里有黑白灰袜子各 10 只,如果你在黑暗中伸手到抽屉里,最少要取出几只,才一定会有两双颜色相同?

- A.7 B.8 C.9 D.10

65.80 人参加六项活动,已知每个人只参加一项活动,而且每项活动参加的人数都不一样,那么,参加人数第三多的活动最多有几人参加?

- A.21 B.22 C.23 D.24

66.商店出售一种商品，进货时 120 元 5 件，卖出时 180 元 4 件，那么商店要盈利 4200 元必须卖出（ ）件该商品。

- A.180 B.190 C.200 D.210

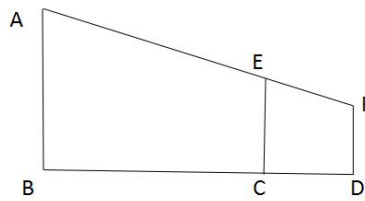
67.若按每件 8 元利润售出某种商品 5 件的毛收入与按每件 5 元利润售出该种商品 6 件的毛收入相同，问该商品每件的成本价是多少？

- A.5 元 B.8 元 C.10 元 D.12 元

68.小李存入银行 1200 元人民币，月利率 0.8%，到期后连本带利共取出 1488 元，那么存款期是（ ）。

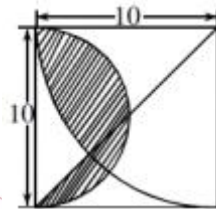
- A.一年 B.一年半 C.二年 D.二年半

69.在一次课外实践活动中，老师让同学们到操场上测量旗杆的高度。小芳的测量方法是：拿一根高 3.5 米的竹竿直立在离旗杆 27 米的 C 处（如图所示），然后沿 BC 方向走到 D 点，这时目测旗杆顶部 A 与竹竿 E 恰好在同一直线上，又测得 C、D 两点的距离为 3 米，小芳的身高是 1.5 米，求旗杆的高度？



- A.21.5 米 B.23.5 米 C.25 米 D.27 米

70.求下面图形阴影部分的面积是多少？（单位：米）



- A.12.5 π 平方米 B.25 平方米
C.(50-12.5 π) 平方米 D.(25 π -50) 平方米

71.一只小鸟离开在树枝上的鸟巢，向北飞了 20 米，之后又向东飞了 20 米，然后又向上飞了 20 米。最后，它沿着到鸟巢的直线飞回了家。请问小鸟飞行的总长度与下列哪个最接近？

- A.34 米 B.80 米 C.94 米 D.100 米

72.今年小明 9 岁，妈妈 33 岁，再过多少年小明的岁数是妈妈岁数的一半？

- A.10 B.12 C.15 D.17

73.甲、乙两人是好朋友，8年前甲的年龄是今年两人年龄之和的 $\frac{1}{5}$ ，5年后两人的岁数

之差正好是甲今年岁数的 $\frac{1}{3}$ ，甲今年（ ）岁。

- A.9 B.10 C.11 D.12

74.哥哥5年前的年龄等于7年后弟弟的年龄，哥哥4年后的年龄与弟弟3年前的年龄和是35岁，哥哥今年的年龄是：

- A.11 B.21 C.23 D.25

75.甲每工作5天休息周六周日2天，法定节假日如非周六周日也要加班。已知甲某年休息了106天，那么他下一年12月的第一个休息日是：

- A.12月1日 B.12月2日
C.12月3日 D.12月4日

76.王老师有一盒铅笔，如平均分给2名同学余1支，平均分给3名同学余2支，平均分给4名同学余3支，平均分给5名同学余4支，则这盒铅笔最少有：

- A.42支 B.48支 C.54支 D.59支

77.甲、乙、丙共有100本课外书。甲的本数除以乙的本数，丙的本数除以甲的本数，商都是5，而且余数也都是1，则丙有（ ）本书。

- A.16 B.38 C.60 D.81

78.一组工人要完成相邻2列火车的卸货任务。其中卸完A列火车的货物所需的时间是B列火车的2倍。他们从上午10点开始工作，全组人先一起卸载A列火车的货物。到12:30时，分出一半人去卸载B列火车的货物，下午14点时，A列火车的货已卸载完，B列车剩下的货物需要14人共同工作1小时才能卸载完。如该组工人每人的工作效率相同，则该组工人一共有多少人？

- A.28 B.24 C.20 D.16

79.现在有八个箩筐排成一排，已知每个箩筐里都有不同个数的苹果（大于等于1），从第三个箩筐开始，每个箩筐里面的苹果个数是前边两个箩筐苹果个数之和，已知第5个箩筐里面的苹果个数为7，那么第7个箩筐的苹果个数为（ ）个。

- A.47 B.29 C.18 D.11

80.一个志愿者小组每天到超市打工半小时，每人每天可挣3元钱，到11月11日，他们一共挣了1764元，这个小组计划到12月9日挣足3000元，捐给“希望工程”，因此小组必须在几天后增加一个人。那么增加的这个人应该从11月几日起每天到超市打工，到12月9日才能恰好挣足3000元？

- A.20 B.21 C.23 D.25

91.一次数学考试共有 20 道题，规定：答对一题得 2 分，答错一题扣 1 分，未答的题不计分。考试结束后，小明共得 23 分，他想知道自己做错了几道题，但只记得未答的题的数目是个偶数。请你帮助小明计算一下，他答错了多少道题？

- A.3 B.4 C.5 D.6

92.一项测验由 20 道单选题组成，每道题有 A、B、C、D 四个选项。回答正确 1 道题，得 2 分；回答错误 1 道题不得分，倒扣 1 分。若 20 道题全部选择 A，得分将为-5 分；若全部选 B，得分为 4 分；若全部选 C，得分为 1 分。那么该项测验中正确答案为 D 的题目有多少道？

- A.0 B.2 C.3 D.4

93.甲乙两人分别从 AB 两地同时出发相向而行，不断往返于 A、B 两地之间，第一次相遇距离 A 地 5 千米，第二次相遇距离 B 地 4 千米，则 A、B 两地距离多少千米？

- A.9 B.10 C.11 D.12

94.有一个灌溉用的中转水池，一直开着进水管往里灌水，一段时间后，用 2 台抽水机排水，则用 40 分钟能排完；如果用 4 台同样的抽水机排水，那么用 16 分钟排完。问如果计划用 10 分钟将水排完，需要多少台抽水机？

- A.5 台 B.6 台 C.7 台 D.8 台

95.刘师傅和张师傅比赛加工机器零件，每人加工 300 个，刘师傅每分钟加工 2 个，张师傅每加工 10 个零件比刘师傅少用 20 秒。问张师傅加工完 300 个零件时，刘师傅还有多少个零件没有加工？

- A.20 个 B.25 个 C.30 个 D.40 个

96.一只小船，第一次顺流航行 48 千米，逆流航行 8 千米，共用 10 小时；第二次用同样的时间顺流航行 24 千米，逆流航行 14 千米。这只小船在静水中的速度是多少千米每小时？

- A.2 B.4 C.5 D.8

97.某年级共有 100 名学生参加竞赛，竞赛科目为语文、数学和外语。现有 61 个人参加语文竞赛，35 个人参加数学竞赛，有 37 个人参加外语竞赛，参加语文、数学竞赛的有 17 人，参加数学、外语竞赛的有 14 人，三个竞赛都参加的有 10 人。问只参加一种竞赛人数之和为多少？

- A.53 B.60 C.77 D.105

98.往浓度为 8% 的溶液中加入一些蒸馏水，其浓度为 6%，再加入同样多的蒸馏水，其浓度是多少？

- A.4% B.4.5% C.4.8% D.5%

99.某班举行 1 分钟跳绳比赛，已知男生的平均成绩是 160 个，女生的平均成绩是 120 个，且男生跳的总个数刚好与女生相同，问该班全体同学平均成绩最接近以下哪个选项？

A.136个 B.137个 C.138个 D.139个

100.如果某商品按定价的八折出售,仍能获得20%的利润,问定价时期望的利润率是多少?

A.50% B.40% C.30% D.20%

101.有两盏4米高的路灯相距10米。一个身高1.5米的路人走在这两盏路灯之间,则他的两个影子的总长度为()米。

A.4 B.6 C.8 D.10

102.一个长方体,长与宽的比是4:3,宽与高的比是5:4,体积是450立方米,那么这个长方体的长是:

A.6米 B.7.5米 C.9米 D.10米

103.某工程50人进行施工。如连续施工20天,每天工作10小时,正好按期完成。但施工过程中遭遇原料短缺,有5天时间无法施工。工期还剩8天时,工程队增派15人并加班施工。若工程队想按期完成,则平均每天需工作()小时。

A.12.5 B.11 C.13.5 D.11.5

104.现有浓度为12%和24%的盐水各若干克,将其混合后加入50克水,配制成了浓度为18%的盐水600克,则原浓度为12%和24%的盐水质量之比是:

A.6:5 B.1:1 C.5:6 D.4:7

105.10个箱子总重100公斤,且重量排在前三位的箱子总重不超过重量排在后三位的箱子总重的1.5倍。问最重的箱子重量最多是多少公斤?

A. $\frac{200}{11}$ B. $\frac{500}{23}$ C.20 D.25

106.某试验室通过测评I和II来核定产品的等级:两项测评都不合格的为次品,仅一项测评合格的为中品,两项测评都合格的产品为优品。某批产品只有测评I合格的产品数是优品数的2倍,测评I合格和测评II合格的产品数之比为6:5。若该批产品次品率为10%,则该批产品的优品率为:

A.10% B.15% C.20% D.25%

107.一个班有50名同学,至少点多少个名同学的名字才能保证点到小花?

A.1 B.11 C.49 D.50

108.有100名学生,他们都订阅甲、乙、丙三种杂志中的一种、两种或三种。至少有多少名学生订阅的杂志种类相同?

A.13 B.14 C.15 D.16

109.有因数2,又是3和5的倍数的最大三位数是

A.960 B.980 C.990 D.930

110. 六位数 2014□□ 能同时被 3、4、7 整除，那么这个六位数是多少？

- A. 201412 B. 201422 C. 201432 D. 201442

111. 下列哪项能被 11 整除？

- A. 937845678 B. 235789453 C. 436728839 D. 867392267

112. 有一支参加阅兵的队伍正在进行训练，这支队伍的人数是 5 的倍数且不少于 1000 人，如果按每横排 4 人编队，最后少 3 人；如果按每横排 3 人编队，最后少 2 人；如果按每横排 2 人编队，最后少 1 人。请问这支队伍最少有多少人？

- A. 1045 B. 1125 C. 1235 D. 1345

113. 超市将 99 个苹果装进两种包装盒，大包装盒每个装 12 个苹果，小包装盒每个装 5 个苹果，共用了十个盒子刚好装完。问两种包装盒相差多少个？

- A. 3 B. 4 C. 5 D. 7

114. 小明、小刚、小红三个小朋友进行踢毽子比赛。1 分钟之内，小明和小刚一共踢了 15 个，小刚和小红一共踢了 24 个，已知三个人踢毽子数均为质数，问 1 分钟之内，踢毽子踢得最多的小朋友踢了多少个。

- A. 11 B. 13 C. 15 D. 17

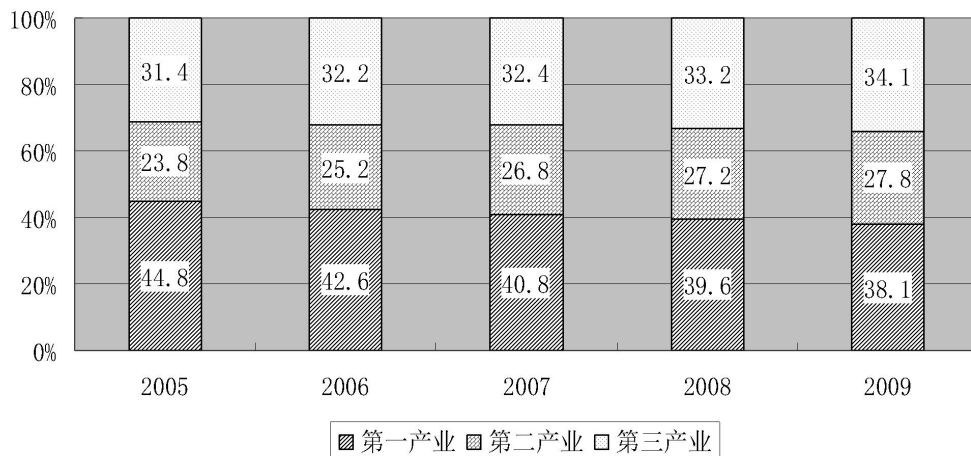
115. 某公司举办年终晚宴，每桌安排 7 名普通员工与 3 名管理人员，到最后 2 桌时，由于管理人员已经安排完毕，便全部安排了普通员工，结果还是差 2 人才刚坐满，已知该公司普通员工数是管理人员的 3 倍，则该公司有管理人员多少名？

- A. 24 B. 27 C. 33 D. 36

资料分析

一、

“十一五”期间，我国第一产业就业人员由2005年的33970万人，减少到2009年的29708万人；第二产业就业人员从2005年的18084万人，增加到2009年的21684万人。我国三次产业就业人员的比例由2005年的44.8:23.8:31.4转变为2009年的38.1:27.8:34.1，第一产业年均下降约1.7个百分点，比“十五”时期多降约0.7个百分点；第二产业年均上升1个百分点，比“十五”时期多升近0.8个百分点；第三产业年均上升0.7个百分点，略低于“十五”时期0.8的升幅。



图“十一五”期间我国就业人员三次产业结构变化情况

- 2005年至2009年，第一产业就业人员年均减少多少万人？
A.106.6 B.85.2 C.1066 D.852
- 2005年，第三产业就业人员数量是（ ）。
A.20186万人 B.23809万人
C.26839万人 D.30244万人
- 2009年，我国三次产业就业人员总量是多少万人？
A.62008 B.71223 C.74280 D.77974
- 2005年至2009年，三次产业就业人员中，第一产业与第二产业比值居第二位的是（ ）。
A.2005年 B.2006年 C.2007年 D.2008年
- 能够从上述材料中推出的是（ ）。
A.2009年与2005年相比，第二产业增加人数比第三产业增加人数多

- B.2009 年与 2005 年相比，只有第三产业占就业人员比重有所上升
- C.“十五”时期，第二产业占的比重年均上升 0.8 个百分点
- D.2009 年与 2005 年相比，第三产业占的比重上升了 3.7 个百分点

二、

表 2012 年某市居民人均日常时间利用情况

	时间(分钟/天)		
	全市	城镇	农村
工作时间	455	457	452
其中:工作活动		362	293
家庭经营活动		4	89
交通活动		91	70
个人生活必需时间	670	664	679
其中:睡眠休息		506	536
吃饭		98	89
个人卫生		56	51
交通时间		4	3
家务劳动时间	106	104	109
其中:准备事务和清理		51	73
购买商品和服务		15	8
照顾家人		13	9
环境清洁整理		10	11
交通时间		15	8
可以自由支配时间	209	215	200
其中:娱乐休闲		203	193
学习培训		4	3
交通活动		8	4

6.该市居民各项活动占用时间最多的是:

- A.工作时间
- B.个人生活必需时间
- C.家务劳动时间
- D.可以自由支配时间

7.在下列时间的分配上，城镇居民和农村居民差异最大的一项是:

- A.工作活动
- B.家庭经营活动
- C.交通活动
- D.个人生活必需时间

8.在个人生活必需时间的分配上，城镇居民比农村居民耗用时间多的活动项目共（ ）项。

- A.1
- B.2
- C.3
- D.4

9.根据上表，可以推断该市城镇居民与农村居民的人数比是:

- A.2 : 1 B.3 : 2 C.4 : 3 D.无法判断

10.根据上表，以下说法正确的一项是：

- A.居民平均每天约 40%的时间用于工作
 B.农村居民人均每天比城市居民节约交通时间 21 分钟
 C.农村居民家庭经营活动平均耗时约占工作时间的 $\frac{1}{5}$
 D.农村居民人均每天比城镇居民睡眠多一个小时

三、

某年，我国乡镇企业职工达到 9545.46 万人，分别占农村劳动力总数的 23.8%和全国劳动力总数的 17.6%；乡镇企业总产值达到 6495.66 亿元，分别占农村社会总产值的 53.8%和全国社会总产值的 24%。其中，乡镇工业产值达到 4592.38 亿元，占全国工业总产值的 7.6%；乡镇企业直接和间接出口创汇 80.2 亿美元，占全国出口创汇总额的 16.9%。该年乡镇企业税金为 310.29 亿元，仅占国家财政总收入的 12%。但是在国家财政新增长的部分中所占比重却明显地增大。从 10 年前至该年，10 年间乡镇企业税金增加 288.29 亿元，占国家财政收入增加额的 19.7%。同期乡镇企业税金平均每月增长 30.3%，相当于国家财政总收入平均每年增长 8.7%的 3.48 倍。

11.该年我国乡镇企业职工占全国劳动力总数的比重比占农村劳动力总数的比重低：

- A.23.8 个百分点 B.17.6 个百分点
 C.6.2 个百分点 D.6.3 个百分点

12.该年我国乡镇企业总产值占农村社会总产值的：

- A.1/2 弱 B.1/2 强 C.1/4 弱 D.1/4 强

13. 10 年前我国乡镇企业税金为：

- A.310.29 亿元 B.288.29 亿元 C.32 亿元 D.22 亿元

14.从 10 年前至该年，我国财政总收入平均每年增长：

- A.12% B.19.7% C.30.3% D.8.7%

15.该年，我国乡镇工业产值为：

- A.9545.46 亿元 B.6495.66 亿元
 C.4592.38 亿元 D.310.29 亿元

四、

21 世纪头 10 年，金砖国家整体经济平均增长率超过 8%，远高于发达国家 2.6%的平均的增长率及 4.1%的全球平均增长率，金砖国家在全球 GDP 中所占份额从 2000 年的 17.0%提升到 2010 年的 25.7%，且将继续提升。

表 2010-2011 年金砖国家 GDP 与人口数概况

	2010年GDP (亿美元)	2011年GDP (亿美元)	2010年人口数 (万人)	2011年人口数 (万人)
巴西	21430	24808	19070	19200
俄罗斯	14870	18500	14191	14287
印度	16030	18392	118211	121000
中国	59310	73010	133787	134413
南非	3640	3750	4999	5000

表 2010-2011 年金砖国家三次产业的 GDP 比重 (%)

	2010年			2011年		
	第一产业	第二产业	第三产业	第一产业	第二产业	第三产业
巴西	5.30	28.10	66.60	5.50	27.50	67.00
俄罗斯	4.00	35.40	60.60	4.30	37.20	38.50
印度	21.60	23.70	54.70	19.10	26.30	54.60
中国	10.10	46.70	43.20	10.10	46.80	43.10
南非	11.80	21.00	67.10	12.10	20.80	67.10

16. 2000~2010 年金砖国家的 GDP 总量占全球份额提升了:

- A. 8.7 个百分点
- B. 17.0 个百分点
- C. 25.7 个百分点
- D. 42.7 个百分点

17. 2010 年全球 GDP 总量约为:

- A. 30.50 万亿美元
- B. 44.86 万亿美元
- C. 53.88 万亿美元
- D. 67.80 万亿美元

18. 2010 年金砖国家中人均 GDP 超过 1 万美元的国家有 ()。

- A. 1 个
- B. 2 个
- C. 3 个
- D. 4 个

19. 2011 年, 金砖国家中第三产业 GDP 规模最大的是:

- A. 巴西
- B. 俄罗斯
- C. 南非
- D. 中国

20. 能够从上述资料中推出的是:

- A. 2011 年世界人口增速最快的是印度
- B. 2020 年金砖国家 GDP 将占到全球的 50%
- C. 2011 年中国 GDP 超过金砖国家总量的 50%
- D. 金砖国家中第三产业占比高, 人均 GDP 也相应高

五、

表 某大专院校教师情况

类别 年度	老年		中年		青年	
	男	女	男	女	男	女
1996	120	60	240	120	100	40
1997	210	40	320	200	200	120
1998	300	150	400	270	320	280

21.该校教师最多的是哪一年?

- A.1996 B.1997 C.1998 D.不清楚

22.哪一年青年男教师的增长幅度最大?

- A.1996 B.1997 C.1998 D.不清楚

23. 1996年到1998年,该校哪一个年龄段的男教师人数增加最多?其增长率为多少?

- A.老年 200% B.中年 167%
C.青年 220% D.中年 233%

24.该校1997年男女教师的比例为多少?

- A.2:1 B.2.1:1 C.1.5:1 D.不清楚

25.下面说法正确的是:

- A.1997年男教师最多
B.1998年女教师最少
C.1997年中年男教师比1996年多80人
D.1998年青年男女教师的比例为1.5:1

六、

2009 年全年北京市完成全社会固定资产投资 4858.4 亿元，比上年增长 26.2%。其中，基础设施投资 1462 亿元，增长 26%，主要投向交通运输和公共服务业，交通运输投资 698.6 亿元，增长 15.6%，公共服务业投资 434.5 亿元，增长 49%。

分登记注册类型看，国有内资单位完成投资 2316.8 亿元，比上年增长 66.8%；非国有内资单位完成投资 2096.4 亿元，增长 2.8%；外商及港澳台完成投资 445.2 亿元，增长 5.9%。

分产业看，第一产业投资 57.4 亿元，增长 1 倍；第二产业投资 411.4 亿元，增长 6.6%，其中工业投资 406.2 亿元，增长 6.7%；第三产业投资 4389.5 亿元，增长 27.8%。

分城乡看，城镇投资完成 4378.2 亿元，增长 23.2%；农村投资完成 480.2 亿元，增长 63.5%。

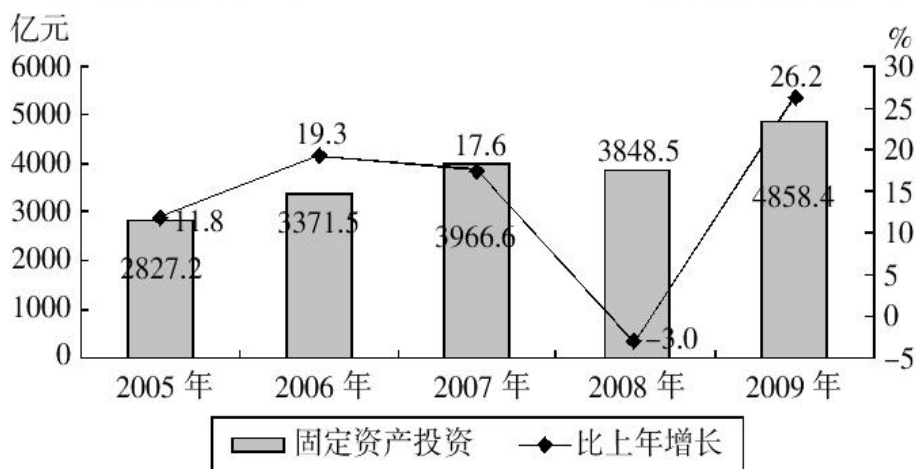


图 2005~2009 年全社会固定资产投资及增长速度

26. 2004 年全年北京市完成全社会固定资产投资：

- A. 2164.3 亿元
- B. 2393.9 亿元
- C. 2528.8 亿元
- D. 2827.2 亿元

27. 2009 年国有内资单位完成投资在北京市全社会固定资产投资总额中所占比重比 2008 年：

- A. 上升 11.6 个百分点
- B. 下降 11.6 个百分点
- C. 上升 7.5 个百分点
- D. 下降 7.5 个百分点

28. 2008 年北京市交通运输投资额是公共服务投资额的：

- A. 1.4 倍
- B. 1.6 倍
- C. 2.1 倍
- D. 2.4 倍

29. 2009 年农村投资中，第二、三产业投资占比为：

- A. 低于 12.0%
- B. 低于 15.4%
- C. 超过 84.6%
- D. 超过 88.0%

30. 以下说法中，与资料相符的是：

- A.2005-2009年北京全社会固定资产投资年均完成投资额超过4000亿元
 B.2008年北京市外商及港澳台投资额超过固定资产投资的一成
 C.2009年第一产业投资同比增长额最大
 D.2009年第三产业投资额所占比重低于2008年

七、

表1 2010年江苏省进出口分企业性质完成情况(单位:亿美元)

企业性质	出口				进口			
	12月份当月		1-12月份累计		12月份当月		1-12月份累计	
	金额	同比±%	金额	同比±%	金额	同比±%	金额	同比±%
总值	278	9.3	3126	15.6	214	12.7	2271	16.3
内资企业	90	22.0	984	24.6	60	20.3	579	41.1
国有企业	21	0.3	268	9.6	21	-5.3	228	37.3
民营企业	69	30.9	716	31.3	39	40.5	352	43.6
外资企业	188	4.0	2142	11.9	154	10.1	1692	9.7

表2 2010年江苏省进出口分贸易方式完成情况(单位:亿美元)

贸易方式	出口				进口			
	12月份当月		1-12月份累计		12月份当月		1-12月份累计	
	金额	同比±%	金额	同比±%	金额	同比±%	金额	同比±%
总值	278	9.3	3126	15.6	214	12.7	2271	16.3
一般贸易	112	17.6	1262	27.6	80	7.8	880	32.1
加工贸易	139	-6.8	1722	7.8	78	-0.6	944	1.6
其他贸易	27	166.8	142	20.2	55	51.5	447	25.2

31. 2010年12月份,江苏省出口额占全年出口额比重最高的是:

- A.总值 B.一般贸易 C.加工贸易 D.其他贸易

32. 2010年江苏省进出口总额最高的贸易方式的进出口总额和占全省进出口总值的比重分别是:

- A.2666亿美元, 49.4% B.2666亿美元, 50.3%
 C.2142亿美元, 49.4% D.2142亿美元, 50.3%

33. 以下关于江苏省的说法不正确的是:

- A.2010年民营企业出口额超过内资企业出口额的70%
 B.2010年外资企业进出口总额增长率低于内资企业
 C.分贸易方式看,2010年12月份一般贸易进出口总额增长率最高
 D.2010年12月份,内资企业出口额占出口总额比重超过30%

34. 2010年12月份, 民营企业进口额占进口总额的比重比去年同期:
- A.下降了 B.上升了 C.没有变化 D.无法判断
35. 2010年内资企业进出口总额占全省进出口总额的比重与外资企业所占比重相差:
- A.71个百分点 B.29个百分点
C.42个百分点 D.24个百分点

八、

表 2012年6月份海关进出口关别总值 (部分关别)

单位: 百万美元, %

关别	出口		进口	
	金额	同比	金额	同比
总值	954,376	9.2	885,464	6.7
上海海关	238,318	2.6	153,408	2.0
深圳海关	198,325	20.8	131,186	11.0
南京海关	72,711	3.2	92,390	2.7
青岛海关	65,428	1.8	86,660	11.8
宁波海关	60,221	4.7	36,930	-1.4
黄埔海关	49,678	5.3	52,478	5.6
天津海关	48,271	7.3	53,026	13.4
广州海关	32,398	8.5	25,929	-4.9
厦门海关	31,549	4.4	19,615	7.9
大连海关	27,918	5.6	33,793	13.9
拱北海关	20,067	-4.8	11,857	-14.6
杭州海关	16,324	25.7	27,622	6.8
北京海关	13,147	8.5	24,451	-6.0
重庆海关	9,371	150.9	6,186	77.5
成都海关	8,131	110.6	7,593	10.4
乌鲁木齐海关	7,444	4.5	9,568	4.3
郑州海关	6,848	916.1	6,606	131.9
福州海关	6,678	7.0	5,334	2.8
南宁海关	6,050	-0.3	12,654	50.8
江门海关	5,360	4.7	3,511	33.3

36. 2011年6月份杭州海关出口额为 () 亿美元。

一起变更好

金标尺教育

A.138.52 B.129.86 C.113.79 D.100.34
职通编制 到金标尺

37. 2011年6月份黄埔海关进口额占海关总进口总额的比重是:

A.4.1% B.5.2% C.6.0% D.8.3%

38. 2012年6月份青岛海关的进口额同比增长约()亿美元。

A.59.61 B.72.39 C.80.43 D.91.47

39. 2012年6月份江门海关进出口顺差为()亿美元。

A.18.49 B.18.94 C.15.32 D.23.51

40. 能够从上述资料中推出的是:

A. 2012年上半年, 上海海关进出口总额大于深圳海关进出口总额

B. 2012年6月份北京海关逆差与上年同期相比, 有所减小

C. 2012年6月份海关进出口总额的同比增长率小于7.95%

D. 2012年6月份乌鲁木齐海关进出口总额占海关进出口总额的比重同比上升

金标尺教育
职通编制 到金标尺

金标尺教育
职通编制 到金标尺

金标尺教育
职通编制 到金标尺

金标尺教育
职通编制 到金标尺

金标尺教育
职通编制 到金标尺

金标尺教育
职通编制 到金标尺

金标尺教育
职通编制 到金标尺

金标尺教育
职通编制 到金标尺

金标尺教育
职通编制 到金标尺

金标尺教育
职通编制 到金标尺

金标尺教育
职通编制 到 报名热线: 13161685939

金标尺教育
职通编制 23 到金标尺

金标尺教育
金标尺学员专用资料 编制 到金标尺

九、

表 我国城乡居民收入差距 (单位: 元)

年份	城市居民人均可支配收入	农村居民人均纯收入	城乡比率
1978	343.4	133.6	2.57:1
1984	477.6	191.3	2.50:1
1985	739.1	397.6	1.86:1
1990	1510.2	686.3	2.20:1
1991	1700.6	708.6	2.40:1
1992	2026.6	784.0	2.58:1
1993	2577.4	921.6	2.80:1
1994	3496.2	1221.0	2.86:1
1995	4283.0	1577.7	2.72:1
1996	4838.9	1926.1	2.51:1
1997	5160.3	2090.1	2.47:1
1998	5425.1	2162.0	2.51:1
1999	5854.0	2210.3	2.65:1
2000	6280.0	2253.4	2.79:1
2001	6859.6	2366.4	2.90:1
2002	7703.0	2476.0	3.11:1
2003	8472.0	2622.0	3.23:1

41. 上表中, 农村居民人均纯收入增加最多的年份为:

- A. 1995 年 B. 1993 年 C. 1996 年 D. 2003 年

42. 上表中, 城乡居民收入差额最大的年份为:

- A. 2002 年 B. 1999 年 C. 2000 年 D. 2003 年

43. 2001 年城乡居民收入年增额之比为:

- A. 2.9 B. 2.79 C. 0.11 D. 5.1

44. 上表中, 城市居民人均收入增长率最低的年份为:

- A. 1998 年 B. 1999 年 C. 2003 年 D. 1991 年

45. 根据上表, 下列叙述正确的是:

- A. 1978-2003 年, 城市居民人均可支配收入各年增长率呈递增趋势
 B. 1990-2003 年, 农村居民人均纯收入呈递增趋势
 C. 城市居民人均可支配收入年增长率始终高于农村居民人均纯收入年增长率
 D. 1978-2003 年, 城乡居民收入比率呈递增趋势

十、

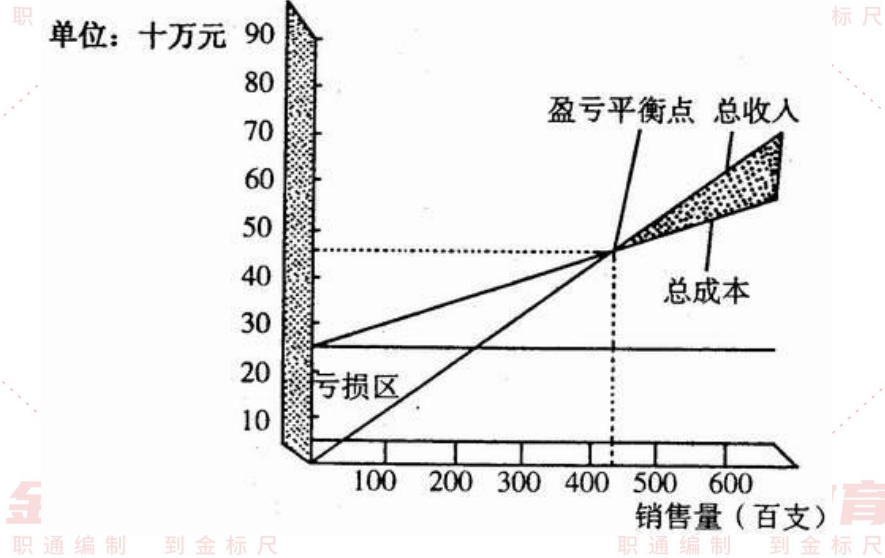


图 某塑料制品厂塑料桶月生产盈亏分析图

46.这个 11 月份塑料桶销售量为 4 万个，请判断本月盈亏情况：

- A.盈利
- B.亏损
- C.不盈不亏
- D.无法确定

47.假若月计划月盈利达 10 万元，每月塑料桶的销量不得少于：

- A.4 万个
- B.5 万个
- C.6 万个
- D.7 万个

48.该厂盈亏平衡点为：

- A.2 万个
- B.3.5 万个
- C.4.5 万个
- D.5.5 万个

49.该厂每月的基本维持费为多少万元？

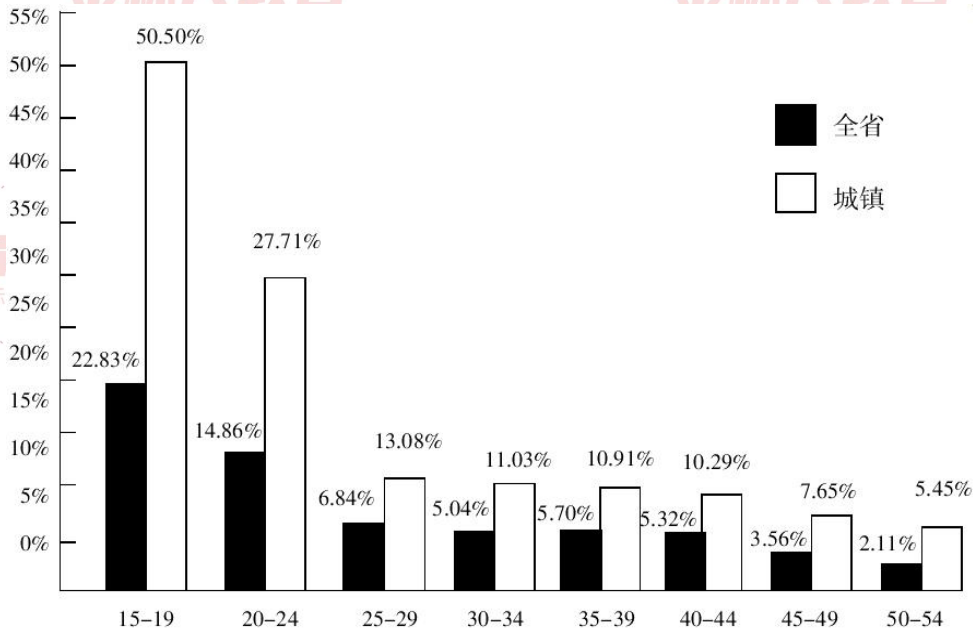
- A.270
- B.300
- C.350
- D.400

50.估计每个塑料桶的售价为多少元？

- A.400
- B.300
- C.200
- D.100

十一、

以下为某省的人口失业率图表。其中，黑色部分表示该省全省人口各个年龄段的失业率，白色部分表示该省城镇人口各个年龄段的失业率。



51.某省 40 岁以上劳动力人口为 400 万，则该省 40 岁以上的失业人员约为：

- A.8.4 万 B.36.5 万 C.44 万 D.无法计算

52.假设该省城镇人口占全省人口的五分之二，两者各年龄段人口分布比例相同，则城镇 19 岁以下失业人口数量与全省 19 岁以下失业人口数量的比值约为：

- A.2.2 B.0.9 C.0.4 D.无法计算

53.假设该省城镇人口占全省总人口的五分之二，且二者各年龄段人口平均分配，则城镇哪个年龄段的失业人员人数最接近全省 30—34 岁年龄段失业人数？

- A.20-24 B.25-29 C.30-34 D.35-39

54.下列选项中，说法正确的一项是：

- A.该省失业人口人数随着年龄的增长持续下降
 B.城镇各年龄段失业人数均低于全省相应年龄段失业人数
 C.该省失业人员特点之一为失业人口年龄构成较轻
 D.该省非城镇人员失业情况比城镇人员更严重

55.假设该省城镇人口占全省总人口的五分之二，且二者各年龄段人口平均分配，则城镇与全省哪个年龄段的失业人员人数相差最大？

- A.15-19 B.20-24 C.35-39 D.45-49

十二、

2011年全国各级民办学校（机构）共8.62万所，学历和非学历教育在校学生3057.56万人。其中学历教育学生2044.84万人，非学历教育学生1012.72万人。民办普通、成人高校252所，在校生212.63万人（含独立学院学生）；民办其他高等教育机构1077所，各类注册学生128.66万人，其中学历文凭考试学生20.35万人，其他学生108.31万人；民办普通高中3175所，在校生226.78万人；民办中等职业学校2017所，学历教育学生154.14万人，非学历教育学生904.41万人；民办普通初中4608所，在校生372.42万人；民办职业初中25所，在校生1.49万人；民办普通小学6242所，在校生388.94万人；民办幼儿园68835所，在园儿童688.09万人。

56.各级民办学校（机构）的在校学生中，学历教育学生所占的比例为：

- A.33.12% B.45.65% C.58.64% D.66.88%

57.民办高等教育机构在校（注册）学生共有多少万人？

- A.341.29 B.212.63 C.128.66 D.107.5

58.民办中等职业学校中，非学历教育学生所占的比例为：

- A.14.56% B.85.44% C.76.25% D.37.52%

59.各级民办学校（机构）中，数量最多的是：

- A.民办其他高等教育机构 B.民办中等职业学校
C.民办普通初中 D.民办幼儿园

60.民办初中共有多少所？

- A.4068 B.4633 C.6625 D.6650

十三、

2012年上半年，石油和化工行业规模以上企业累计总产值5.89万亿元，同比增长12.5%；利润总额3535.4亿元，同比下降15.9%；主营业务收入5.60万亿元，同比增长10.4%；资产总计8.10万亿元，同比增长12.8%；从业人员648.9万人，同比增长2.8%；固定资产投资7341.72亿元，同比增长30.7%；进出口总额3320.69亿美元，同比增长10.4%。

2012年1-6月，全国原油产量1.01亿吨，同比增长1.6%；天然气产量536.2亿立方米，同比增长6.3%；原油加工量2.29亿吨，同比增长1.7%；成品油产量1.38亿吨，同比增长4.4%；化肥总产量（折纯）3705.1万吨，同比增长11.9%；农药原药产量（折100%）172.4万吨，同比增长21.7%；乙烯产量758.4万吨，同比下降3.3%；甲醇产量1311.3万吨，同比增长17.3%；硫酸产量3737.8万吨，同比增长6.1%；烧碱产量1304.1万吨，同比增长3.2%；纯碱产量1203.1万吨，同比增长7.5%；合成树脂2605.2万吨，同比增长9.4%；轮胎外胎产量4.20亿条，同比增长8.2%。

6月份，石油和化工行业规模以上企业进出口总额518.3亿美元，同比增长2.4%，增速较5月显著回落，环比下降11.4%。其中，进口总额同比增长3.6%，创年内新低；出口同比降幅0.4%，延续出口低迷态势。1-6月全行业规模以上企业进出口总额，增幅比1-5月回落1.6个百分点，占全国进出口贸易总额的17.5%，累计逆差1543.38亿美元，同比扩大19.3%。

61. 2011 年上半年石油和化工行业规模以上企业的产值利润率（利润/产值）约为：
A.5% B.8% C.12% D.18%

62. 在第 2 段提到的各类产品中，2012 年 1-6 月产品产量同比增长率超过全行业规模以上企业累计总产值的同比增长率的产品类别有几个？

A.2 B.3 C.4 D.5

63. 2012 年 6 月石油和化工行业规模以上企业进出口总额比同年 1-5 月间的平均值约：

A.高 42 亿美元 B.低 42 亿美元
C.高 51 亿美元 D.低 51 亿美元

64. 2012 年上半年全国进出口贸易总额约为多少万亿美元？

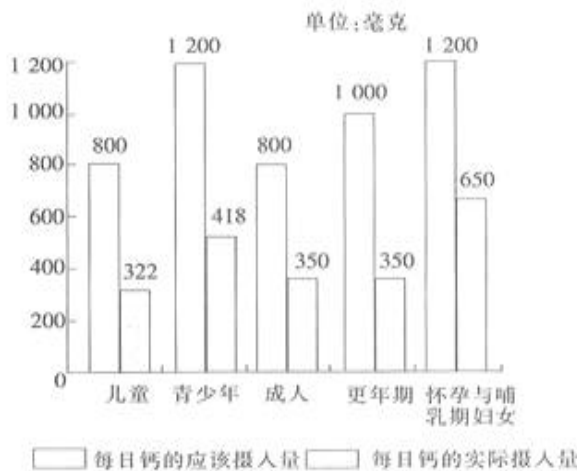
A.1.3 B.1.5 C.1.7 D.1.9

65. 以下关于石油和化工行业规模以上企业的状况描述，与资料相符的是：

- A.2012 年上半年固定资产投资同比增加 2000 多亿元
- B.2012 年上半年我国原油产量超过同期原油加工量的一半
- C.2011 年上半年我国平均每月生产 7000 余万条轮胎外胎
- D.2012 年上半年平均每名从业人员实现主营业务收入超过 50 万元

十四、

根据卫生部门的全国规模的营养调查表明，中国人普遍钙摄入量仅为人体所需 40%-50%。



66. 除了怀孕与哺乳期妇女，个体在哪个年龄段对钙的需要量最大：

A.青少年 B.成人 C.更年期 D.儿童

67. 成人对钙的实际摄入量是应该摄入量的：

A.20.28% B.45.13% C.61.59% D.43.75%

68. 哪个年龄段的人实际摄入量钙的量最低：

A.儿童 B.成人

C.更年期 D.青少年

69.青少年与哺乳期妇女相比:

A.前者比后者的钙营养状况好
C.两者的钙营养状况良好B.后者比前者钙营养状况好
D.前者和后者的钙营养状况一样好

70.比较各年龄段的钙营养状况:

A.儿童优于成人
C.青少年优于哺乳期妇女B.儿童优于哺乳期妇女
D.以上均不正确

十五、

新中国成立后,经过60年特别是改革开放以来的建设,我国公共卫生体系初步建立,卫生服务能力明显增强。2008年全国共有卫生机构27.8万个,比1949年增加约75倍;卫生技术人员为503万人,比1949年增加9.0倍;医院和卫生院床位数为374.8万张,比1949年增加45.9倍;每千人口医院、卫生院床位数为2.8张,远高于1949年0.15张的水平。

表 1949~2008年公共卫生体系发展状况统计表

年份	卫生机构数(个)	床位数(万张)	卫生技术人员数(万人)
1949	3670	8	51
1957	122954	30	104
1962	217985	69	141
1965	224266	77	153
1978	169732	185	246
1985	200866	223	341
1990	208734	259	390
2000	324771	291	449
2005	298997	314	446
2008	278337	375	503

71. 1949~2008年,我国卫生机构平均每年约增加:

A.4397个

B.4578个

C.4655个

D.4736个

72.建国以来,我国医院和卫生院床位数年平均增长率最高的时期为:

A.1957~1962年

B.1962~1965年

C.1965~1978年

D.1978~1985年

73.与1978年相比,2008年平均每个卫生机构的卫生技术人员数约增加了:

A.5%

B.15%

C.25%

D.35%

74.2008年,每万人口拥有的卫生机构数量约是1949年的多少倍?

A.3

B.8

C.15

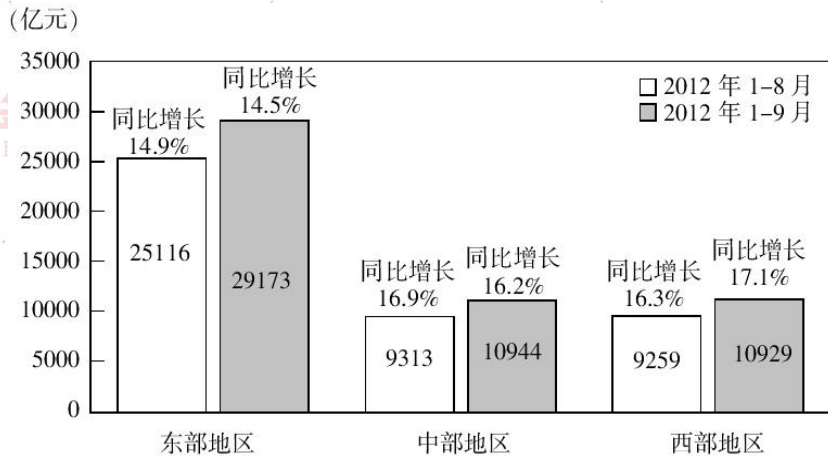
D.30

75.能够从上述资料中推出的是:

- A.1957年,我国卫生技术人员总数首次超过百万
- B.1949年,我国每千人口拥有的卫生技术人员数不足1人
- C.2005~2008年,医院和卫生院床位数年均增长率超过10%
- D.20世纪80年代后期,我国卫生机构的数量呈现负增长态势

十六、

表 东中西部地区房地产开发投资总量及增速



76.1~9月份,东部地区房地产开发投资增速比1-8月份:

- A.提高0.4个百分点
- B.回落0.4个百分点
- C.提高0.7个百分点
- D.回落0.7个百分点

77.9月份,西部地区房地产开发投资()亿元。

- A.1670
- B.1631
- C.1680
- D.1731

78.1~8月份,东部地区房地产开发投资额,与中部地区和西部地区房地产投资额的和相比:

- A.多7300亿元
- B.少7300亿元
- C.多6544亿元
- D.少6544亿元

79.1~9月份,中部地区平均每月房地产投资额达到()亿元。

- A.1126
- B.1206
- C.1216
- D.1316

80.我们能够从上题资料中看出的是:

- A.东部地区房地产投资总量及增速都高于中西部地区
- B.中西部地区是未来我国房地产投资的主战场
- C.东部地区房地产投资已经接近饱和,应加大宏观调控力度
- D.9月份,三个地区房地产投资额平均为2453亿元

十七、

表 某年各地区卫生机构数 (单位: 个)

地区	卫生机构数			其中医院小计
	总计	城市	农村	
北京	4344	3596	748	445
天津	3363	2987	376	285
河北	10579	4487	6092	3374
山西	6053	2360	3693	2551
上海	7471	5155	2316	444
吉林	7792	5685	2107	1918

81. 上述几个地区中, 卫生机构总数最多的地区是:

- A. 北京 B. 河北 C. 山西 D. 上海

82. 下列几个地区中, 城市卫生机构比农村卫生机构少的是:

- A. 北京 B. 天津 C. 上海 D. 河北

83. 下面哪个判断是正确的:

- A. 上述几个地区医院个数最多是山西
 B. 上述几个地区总的卫生机构最少的是天津
 C. 上述几个地区城市卫生机构都比农村卫生机构多
 D. 以上三个结论都不对

84. 下列几个地区中, 城市卫生机构与农村卫生机构相差最多的是:

- A. 北京 B. 天津 C. 上海 D. 吉林

85. 下列几个地区中医院占总计卫生机构比例最大的是:

- A. 北京 B. 天津 C. 山西 D. 吉林

十八、

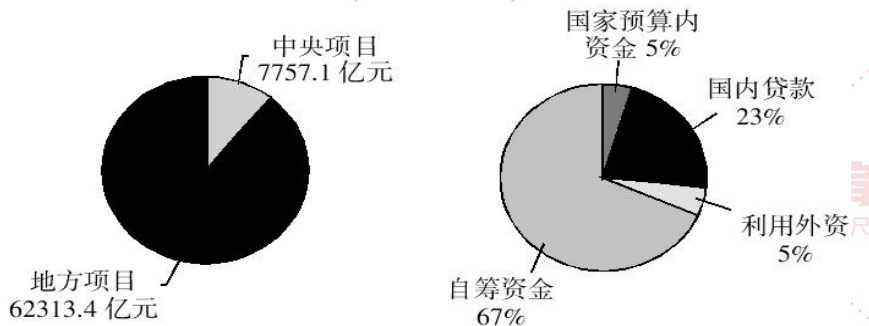


图 2006 年 1-10 月份中国固定资产投资情况统计图

86. 2006年1-10月国内贷款占固定资产投资的比重为:

- A.5% B.23% C.67% D.95%

87. 2006年1-10月中央项目与地方项目固定资产投资的比例为:

- A.11:89 B.15:85 C.14:86 D.12:88

88.如果2006年1-10月份中国固定资产投资中利用外资共2995.2亿元,则该时期中国固定资产投资总资金约为:

- A.58332.0亿元 B.59904.0亿元
C.65412.0亿元 D.66334.0亿元

89.如果2006年1-10月份中国固定资产投资中利用外资共2995.2亿元,国家预算内资金比2005年同期增长了33.1%,则2005年1-10月份国家预算内资金为:

- A.2250.3亿元 B.4504.3亿元
C.5471.5亿元 D.5781.4亿元

90.从统计图中我们可以得出:

- I.2006年1-10月份中国固定资产投资中国内资金处于支配地位;
II.2006年1-10月份中国固定资产投资主要由地方项目完成;
III.2006年1-10月份中国固定资产投资中民间资本占主导地位;
IV.2006年1-10月份中国固定资产投资中外资起补充作用。

- A. I和IV B. II和IV
C. I、II和IV D. I、II、III和IV

十九、

表 2013 年 9 月 15 个大中城市新建商品住宅价格指数

城市	新建商品住宅价格指数		
	环比	同比	定基
北京	101.2	120.6	124.5
天津	100.6	107.6	112.0
石家庄	100.9	108.2	118.0
太原	101.2	111.3	113.5
呼和浩特	100.6	108.2	112.3
沈阳	101.1	112.7	119.6
长春	100.7	107.9	112.1
哈尔滨	100.6	108.2	112.7
上海	101.6	120.4	121.7
温州	99.7	98.3	82.8
南京	101.0	114.5	114.4
杭州	101.3	109.8	101.0
宁波	100.9	105.9	98.4
桂林	99.9	108.5	115.1
福州	101.0	112.3	116.9

注：环比以上月价格为 100，同比以去年同月价格为 100，定基以 2010 年价格为 100。

91. 相比于 2010 年，新建商品住宅价格定基指数增长最快的两个非直辖城市其指数差为：

- A.1.6 B.2.8 C.3.3 D.3.7

92. 15 个城市中，新建商品住宅价格环比指数最高的城市的环比增长率为：

- A.1.2% B.1.3% C.1.6% D.1.9%

93. 15 个城市中，新建商品住宅价格环比、同比、定基均上涨的城市有：

- A.11 个 B.12 个 C.13 个 D.14 个

94. 15 个城市中，新建商品住宅价格同比指数差额最大为：

- A.14.7 B.19.2 C.22.1 D.22.3

95. 15 个城市中，新建商品住宅价格环比、同比、定基三个指数数据最均衡（差值最小）的城市是：

- A.呼和浩特 B.长春 C.杭州 D.宁波

二十、

2013年10月27日国家统计局发布的工业企业财务数据显示,1-9月份,全国规模以上工业企业实现利润总额40452.8亿元,比去年同期增长13.5%,增速比1-8月份提高0.7个百分点。其中,主营业务利润41215.2亿元,增长5.3%,增速提高0.4个百分点。9月份,规模以上工业企业实现利润总额5588.9亿元,比去年同期增长18.4%,增速比8月份回落5.8个百分点,其中,主营业务利润5414.5亿元,比去年同期增长7.5%,增速比8月份提高3.5个百分点。

销售增长加快、出厂价格回升、单位成本下降,是9月份利润较快增长的主要原因。9月份,规模以上工业企业主营业务收入增长11.9%,增速比8月份加快1.6个百分点;工业品出厂价格同比降幅比8月份收窄0.3个百分点;工业企业每百元主营业务收入中的成本为85.65元,比8月份减少0.63元。

9月份大部分行业利润总额比去年同期增加。新增利润最多的5个行业是:黑色金属冶炼和压延加工业利润总额比去年同期增加111亿元,非金属矿物制品业增加60.7亿元,汽车制造业增加58.1亿元,石油加工炼焦和核燃料加工业增加48.9亿元,农副食品加工业增加47.7亿元。这5个行业新增利润总额合计占全部规模以上工业企业新增利润总额的37.6%,比8月份前5个行业新增利润份额52.8%下降15.2个百分点。

96. 2013年9月份全国规模以上工业企业实现利润总额占该年前九个月总额的:

- A.12.16% B.13.82% C.14.71% D.15.56%

97. 2013年8月,工业企业每百元主营业务收入中的成本为:

- A.85.02元 B.85.65元 C.86.28元 D.86.91元

98. 2013年,相比8月份,有关数据在9月份出现降低的是:

- A.规模以上工业企业实现利润总额 B.工业品出厂价格
C.工业企业每百元主营业务收入中的成本 D.非金属矿物制品业利润总额

99. 2012年9月份全国规模以上工业企业主营业务利润约为:

- A.5414.5亿元 B.5820.59亿元
C.5231.4亿元 D.5036.74亿元

100. 新增利润最多的5个行业的平均增加值为:

- A.65.28亿元 B.69.33亿元
C.70.06亿元 D.79.21亿元

二十一、

2014年1-7月，G省规模以上工业企业实现利润总额3236.35亿元，同比增长26.1%，增幅比上半年（前6个月）提高0.6个百分点，比去年同期提高3.4个百分点。其中主营业利润3003.48亿元，同比增长26.6%，增幅比上半年提高1.3个百分点。

分经济类型看，民营企业利润增长最快。1-7月，民营企业实现利润1413.77亿元，增长41.3%，增幅比上半年回落0.8个百分点，高于全省15.2个百分点；外商及港澳台投资企业实现利润1483.62亿元，增长18.8%，增幅比上半年提高2.2个百分点；国有控股企业实现利润624.00亿元，增长13.2%，增幅比上半年回落1.9个百分点；股份制企业实现利润1606.48亿元，增长33.1%，增速比上半年回落3.2个百分点。

分企业类型看，小微型企业利润增长强劲。1-7月，微型企业实现利润223.19亿元，增长69.9%；小型企业实现利润655.13亿元，增长38.2%；中型企业实现利润835.57亿元，增长24.3%；大型企业实现利润1522.46亿元，增长18.1%。

分行业大类看，大部分行业实现利润增长，主要行业贡献大部分利润。1-7月，41个工业大类中，有37个行业利润增长，增长面为90.2%，比上年同期提高2.4个百分点。其中9个行业实现利润超过100亿元，占全省规模以上工业企业利润的69.0%，分别为石油和天然气开采业145.00亿元，食品制造业135.68亿元，化学原料和化学制品制造业188.88亿元，非金属矿物制品业138.98亿元，金属制品业111.50亿元，汽车制造业266.54亿元，电气机械和器材制造业321.97亿元，计算机、通信和其他电子设备制造业613.84亿元，电力、热力生产和供应业309.13亿元。

101. 2012年1-7月，G省规模以上工业企业实现利润总额约为多少亿元？

- A.2566.50 B.2091.68 C.1551.15 D.1055.56

102.分经济类型看，2013年1-7月，该省下列哪种类型的企业实现的利润最多？

- A.民营企业 B.外商及港澳台投资企业
C.国有控股企业 D.股份制企业

103. 2014年1-7月，该省中小型企业实现利润约占规模以上工业企业实现利润总额的：

- A.39.55% B.46.06% C.50.17% D.55.51%

104. 2014年1-7月，该省实现利润增长的行业比2013年同期多：

- A.1个 B.2个 C.3个 D.4个

105. 2014年1-7月，该省实现利润超过100亿元的行业中，其实现利润超过规模以上工业企业利润总额十分之一的行业一共有：

- A.1个 B.2个 C.3个 D.4个

表 2014 年 11 月 A 省金融机构存贷款余额情况统计表

金融机构存贷款余额（亿元）	10 月	同比±%	11 月	同比±%
金融机构存款余额（本外币）	77964	7.0	78447	7.3
金融机构存款余额（人民币）	75668	6.4	76323	7.0
其中：个人储蓄存款	30171	6.2	30092	5.8
单位存款	38529	4.4	39293	6.2
金融机构贷款余额（本外币）	70061	8.3	70826	9.0
金融机构贷款余额（人民币）	67185	8.5	68034	9.3
其中：短期贷款	38417	3.4	38436	3.1
中长期贷款	26525	13.9	26806	15.6
票据融资	1588	66.4	1849	87.6

106. 2014 年 11 月，A 省金融机构存款余额（本外币）环比增长约：
 A.0.62% B.1.60% C.1.54% D.2.05%
107. 2013 年 11 月，A 省金融机构存款余额（人民币）环比增长约：
 A.0.9% B.0.5% C.0.3% D.0.2%
108. 2014 年 11 月，A 省金融机构中长期贷款与短期贷款相比：
 A.多 11630 亿元 B.少 11630 亿元 C.相同 D.不确定
109. 2014 年 10 月，A 省下列余额（人民币）中同比增长量最少的是：
 A.个人储蓄存款 B.单位存款
 C.短期贷款 D.中长期贷款
110. 以下说法正确的是：
 A.2014 年 11 月，A 省表中的各类存贷款余额均环比正增长
 B.2014 年 11 月，A 省表中的各类存贷款余额同比增速均高于 10 月
 C.2014 年 11 月，A 省金融机构存贷款余额总额高于 10 月
 D.2014 年 10 月，A 省金融机构存款余额（人民币）仅包含个人储蓄存款和单位存款

二十三、

2005年某省海洋产业总产值达2144.6亿元；比上年增长了302.4亿元。海洋三大产业结构由2000年的31.0：16.7：52.3调整为2005年的21.0：13.2：65.8。

以海洋经济为依托的沿海县（市）国民经济稳步增长，呈现良好发展势头。海洋渔业、海洋交通运输业快速发展，2005年总产值分别为334.0亿元、747.3亿元，“十五”期间年均分别增长7.1%、24.7%，大大超过“十五”预期目标。滨海旅游、海水产品加工业、船舶修造等产业日益壮大，2005年总产值分别达470.3亿元、180.0亿元、40.9亿元，“十五”期间年均分别增长14.9%、9.0%、13.2%。

2005年海洋产业中“五大产业”（海洋渔业、海洋交通运输、滨海旅游、海水产品加工、船舶修造）的总产值占全省海洋产业总产值的82.6%，海洋支柱产业已经形成。

111. 2004年该省海洋产业总产值约为：

- A.1785.2亿元
- B.1842.2亿元
- C.1905.7亿元
- D.2001.4亿元

112. 2005年海洋第三产业所占比值相对于2000年：

- A.提高了10个百分点
- B.提高了25.8个百分点
- C.提高了4.5个百分点
- D.提高了13.5个百分点

113. 2005年海洋渔业总产值占全省海洋产业总产值的比重为：

- A.9.8%
- B.15.6%
- C.8.7%
- D.17.5%

114. 下列四个选项中，数值最大的是：

- A.“十五”期间滨海旅游产业总产值的年均增长速度
- B.“十五”期间船舶修造产业总产值的年均增长速度
- C.2005年海洋渔业总产值占全省海洋产业总产值的比重
- D.2005年海洋第二产业所占比率

115. 下列说法错误的是：

- ①2005年该省海洋产业中“五大产业”的总产值已经超过2000亿元
 - ②2005年海洋渔业、海洋交通运输业的总产值已经超过全省海洋产业总产值的一半
 - ③2005年海洋交通运输业的总产值比上年增长了24.7%
- A.仅①③
 - B.仅②③
 - C.仅①②
 - D.①②和③

表 1 2011 年 8 月江西国税税收收入情况表 (金额: 亿元)

项目	本月收入		1-8 月累计收入	
	收入数	同比增长%	收入数	同比增长%
国税税收收入合计	39.35	60.8	290.53	8.4
1.国内增值税	36.12	33.1	177.25	4.6
2.国内消费税	7.59	146.6	48.92	77.2
3.企业所得税	1.15	730.9	34.32	-23.3
其中:内资	1	910.3	21.58	-26.9
外资	0.15	283.5	12.74	-16.2
4.个人所得税	0.07	-66.1	2.1	-53.4
5.车辆购置税	1.47	70.9	12.53	14.7
6.海关代征税收	2.84	473.6	15.4	43.4

表 2 2011 年 8 月江西国税收入分设区市情况 (金额: 亿元)

地区	本月收入		1-8 月累计收入	
	收入数	同比增长%	收入数	同比增长%
南昌市	9.08	46.8	72.99	-4.5
景德镇市	0.9	16.7	7.57	-3
萍乡市	1.67	15.9	18.56	1.2
九江市	6.5	242.8	41.67	89
新余市	2.62	23	21.25	-3.2
鹰潭市	3.99	162.6	23.45	0.1
赣州市	3.52	7.5	28.11	-16.6
宜春市	2.42	34.7	23.29	13.3
上饶市	3.67	34.3	26.93	11.4
吉安市	2.61	35.1	18.04	15
抚州市	2.29	204.2	13.66	51.5

116. 2011 年 8 月江西省各大税种中收入未达到 1~8 月平均水平的有 () 个。

- A.1 B.2 C.4 D.3

117. 2011 年 8 月份, 江西省国税收入同比增长最慢的区市的收入数是最快的区市的:

- A.9.9% B.50% C.54.2% D.153.7%

118. 2010 年 8 月份江西省国税收入最少的区市是:

- A.抚州市 B.萍乡市 C.景德镇市 D.鹰潭市

119. 相比 2010 年前 8 个月, 各大税种中 2011 年 1~8 月的累计收入数增长量最大的是:

- A.国内增值税 B.国内消费税
C.海关代征税收 D.车辆购置税

120. 根据资料, 下列选项中表述错误的是:

- A.2011 年 8 月江西省国税税收收入超过了前 8 个月的平均水平
B.2010、2011 两年 1~8 月的累计税收收入排名江西省各市区中有三个没有变化
C.2010 年 8 月至 2011 年 8 月, 江西省个人所得税一直是各大税种中收入最少的
D.2011 年前 8 个月江西省部分区市累计税收收入呈现负增长主要是因为所得税

二十五、

2008 年全年我国货物进出口总额 25616 亿美元，比上年增长 17.8%。对外贸易顺差比上年增加 328 亿美元。

表 1 2008 年货物出口总额及其增长速度

指标	绝对数 (亿美元)	比上年增长 (%)
货物出口额	14285	17.2
其中：一般贸易	6626	22.9
加工贸易	6752	9.3
其中：机电产品	8229	17.3
高新技术产品	4156	13.1
其中：国有企业	2572	14.4
外商投资企业	7906	13.6
其他企业	3807	27.9

表 2 2008 年货物进口总额及其增长速度

指标	绝对值 (亿美元)	比上年增长 (%)
货物进口额	11331	18.5
其中：一般贸易	5727	33.6
加工贸易	3784	2.7
其中：机电产品	5387	7.9
高新技术产品	3419	4.3
其中：国有企业	3538	31.1
外商投资企业	6200	10.8
其他企业	1593	25.7

121. 2007 年全年，我国对外贸易：

- A. 顺差 3828 亿美元
- B. 逆差 3828 亿美元
- C. 顺差 2626 亿美元
- D. 逆差 2626 亿美元

122. 2007 年，机电产品货物出口额占货物出口额的比重是：

- A. 36.2%
- B. 43.7%
- C. 50.2%
- D. 57.6%

123. 2008 年，加工贸易货物进口额比一般贸易货物进口额少：

- A. 31.7%
- B. 33.2%
- C. 33.9%
- D. 35%

124. 2008 年国有企业货物进出口总额增长了:

- A.23.5%
- B.20.7%
- C.31.1%
- D.14.4%

125. 下列说法正确的是:

- A.2008 年机电产品货物进出口总额增长率不足 10%
- B.2008 年一般贸易货物进口额约比上年增加了 1440 亿美元
- C.2008 年, 国有企业和外商投资企业货物进出口总额比 2007 年增长了 20%
- D.2008 年, 高新技术产品在我国出口货物中占据着最重要的位置

二十六、

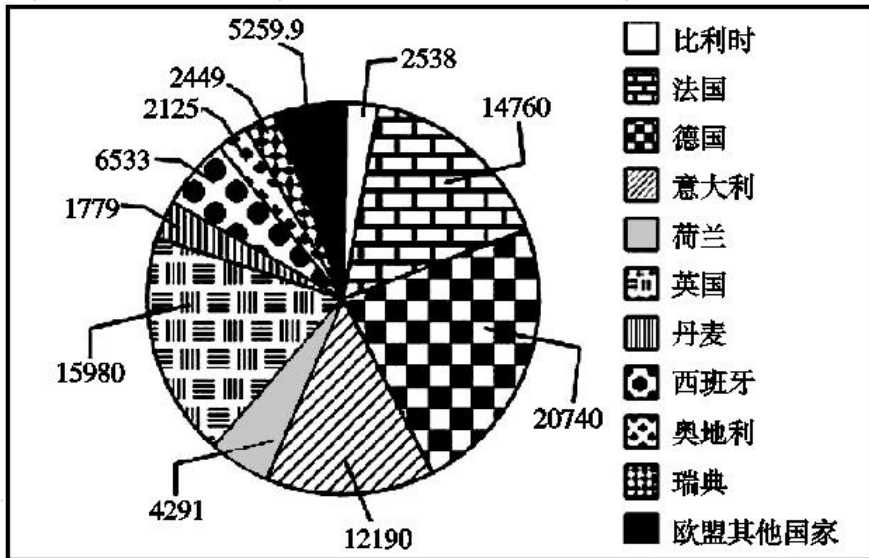


图 2002 年欧盟各国 GDP 值比例图 (单位: 亿欧元)

126. 根据 2002 年欧盟各国 GDP 值比例图, 西班牙的排名为:

- A. 第 5
- B. 第 6
- C. 第 7
- D. 第 8

127. 荷兰的 GDP 总量占欧盟 GDP 总量的:

- A. 2.0%
- B. 4.8%
- C. 7.3%
- D. 13.8%

128. 德、法、英三国 GDP 总量占欧盟 GDP 总量的:

- A. 48.4%
- B. 53.8%
- C. 55.2%
- D. 58.1%

129. 奥地利的 GDP 总量比利时的 GDP 总量少:

- A. 5%
- B. 16.3%
- C. 19.4%
- D. 22.5%

130. 从上图可以推出的结论是:

- I. 瑞典与比利时的 GDP 总量相差最少
- II. 前五名之外的其他国家的 GDP 总量小于德、法两国 GDP 总量之和
- III. 英国 GDP 总量比德国 GDP 总量少的比例小于丹麦 GDP 总量比瑞典 GDP 总量少的比例

比例

- A. 只有 I
B. 只有 II
C. 只有 III
D. I、II、III 均正确

二十七、

据某市统计，截止到 2004 年底，全市 16 岁以下的少年儿童总数是 2272194 人，其中，学龄前期儿童为 739616 人，占其总数的 33.55%。另据有关资料显示，在我国目前抚养一个婴儿到 16 岁，农村平均需要 1600 元，城市平均需要 6900 元，全国平均 2200 元。2004 年该市儿童消费主要体现在吃、穿、玩具等方面，不同年龄消费费用不同：在婴儿期内食品支出占总支出的 81.5%，在幼儿期内占 81.2%，在学龄前期占 77.9%，在学龄期内占 71.4%；在服装方面，学龄前儿童支出大体维持在总消费金额的 13% 左右，但进入学龄期后，占总体的 21.8%。

131. 在我国，城市抚养一个婴儿的费用相当于农村抚养一个婴儿的：
A. 3 倍左右 B. 4 倍左右 C. 5 倍左右 D. 2 倍左右
132. 该市儿童在食品消费比例支出最大的是：
A. 婴儿期 B. 幼儿期 C. 学龄前期 D. 学龄期
133. 该市儿童在服装消费比例支出最大的是：
A. 婴儿期 B. 幼儿期 C. 学龄前期 D. 学龄期
134. 该市当年 16 岁以下、学龄期以上的儿童比例是：
A. 四分之一左右 B. 四倍左右 C. 33.55% D. 66.45%
135. 该市学龄期儿童的服装消费金额所占比例比学龄前儿童高出约：
A. 3.8% B. 6.5% C. 40.4% D. 67.7%

言语理解

片段阅读

主旨观点题

1.瑞士心理学家荣格说：“一切文化都沉淀为**人格**。不是歌德创造了浮士德，而是浮士德创造了歌德。”他在这里所说的“浮士德”，已经不是一个具体的人名，而是指他所属的民族**的集体人格**，也就是一种文化的象征。这种集体人格早就存在，歌德只是把它表现出来罢了。

这段文字意在说明：

- A.文学作品承载着表现文化特质的使命
- B.作家与作品之间具有复杂的文化联系
- C.文化的积累形成了特定的集体人格
- D.浮士德的文化象征意义远高于其文学价值

2.实际上，实地调研、田野考察，应该成为一切社会科学普遍运用的最基本的研究方法之一。遗憾的是，有些学科在迅速发展它的逻辑分析工具和数学描述语言的同时，在很大程度上抛弃了这个优秀的传统，研究者仅仅依赖那些来自统计年鉴的数据，进行逻辑推理和计量建模，而忽视了直接从真实世界获得鲜活的理论灵感和真实数据。

这段文字主要讨论“社会科学”的：

- A.分析工具
- B.数据处理
- C.优秀传统
- D.研究方法

3.全球化的时代里，语言的规范性要求越来越高，可以预见，许多小方言区将逐渐消失，“五里不同音、十里不同调”的格局将逐步改变，直到形成若干稳定的大方言区。然而，语言并非只有交际属性，它还有文化属性。每一种方言或语言，都承载了一段历史、一种文化。这种历史和文化，与特定的语言或方言形成共生关系，换成别的语言或方言表达就变了味，失去了许多内涵。假如歌曲《十送红军》没有了乡音，莫言的小说没有了高密话，赵本山的小品没有了东北腔调，恐怕许多意蕴和趣味就消失了。

这段文字意在强调：

- A.全球化时代语言的统一和规范是大势所趋
- B.保护方言在全球化背景下具有特殊的意义
- C.方言相对于普通话而言具有更强的表现力
- D.历史文化与特定语言的共生关系正在消失

4.学习是神经系统接受外界信息后产生行为变化的过程，信息在神经系统里编码、维持和提取的过程叫作记忆。对于知识、信息的记忆称为陈述性记忆，这种记忆最关键的部位是海马脑区和新皮层脑区。海马脑区对短期记忆转化为长期记忆非常关键，新皮层脑区则掌管长时记忆的储存。截至目前，科学上尚未证明某种食物或药物可以明确提升普通人的学习记

记忆力。但海马脑区的神经可塑性非常高，想要保持很好的记忆和认知功能状态而不退化，就要多锻炼海马脑区。运动、社交等都是有效的锻炼方式，它们可以通过调节内分泌等多种机制促进神经可塑性，改善记忆力。

这段文字意在说明：

- A. 海马脑区的神经系统非常复杂
- B. 加强海马脑区的锻炼可改善记忆力
- C. 海马脑区和新皮层脑区与记忆密切相关
- D. 希望通过药物提升记忆力没有科学依据

5. 从文化史上我们不难发现：古希腊人曾遭遇强大而优越的东方文化，他们一度似乎要被这些外来文化压垮了，他们的宗教几乎就是各种东方宗教的一场混战。但是，希腊文化最终并没有成为“机械混合的文化”或“装饰性的文化”，那是因为希腊人牢记着德尔斐神庙的箴言——“认识你自己”，他们开始弄清楚自己的真实需要，没有长久地做东方的追随者。

这段文字给我们的启示是：

- A. 文化冲突中应坚持自身的文化主体性
- B. 坚持文化自信是实现文化繁荣的根本原因
- C. 东西方文化的差异在文化结合过程中尤为凸显
- D. 本国文化应顺势而为避免成为外来文化的附庸

6. 语言从来不是固化的，而是随着社会的发展而变化的。任何一种语言的形成和发展，都是使用这种语言的人们在生活中的约定俗成，可以说，语言本身就是一种社会现象，是一个社会中人们的精神状态和社会心态投射而成的具象。因此，网络语言粗鄙化的现象不应当被视作孤立的语言问题来看待，粗鄙化折射出的浮躁心态、社会发展中积累的戾气等问题，恐怕比语言粗鄙化本身更值得关注。

这段文字意在强调：

- A. 语言是人类精神状态和社会心态的反映
- B. 网络语言的粗鄙化应成为社会关注的问题
- C. 语言研究应以语言随着时代发生的变化为重点
- D. 应重视网络语言粗鄙化折射出的社会问题

7. 来自不同的语言群体和文化的人需要彼此交流，就必须寻找交流工具。在一个层面上，他们可以依赖受过特殊训练的专业人员，这些人可以熟练使用两种以上的语言来作口译和笔译。但这是不方便的，花费的时间和代价是昂贵的。因此，在整个历史上，不断出现通用语言，在古代世界和中世纪世界是拉丁语，在西方几个世纪中是法语，在非洲的许多地区是斯瓦希里语，20世纪后半叶，在全世界的大部分地区是英语。

这段文字意在说明：

- A. 翻译作为交流工具的局限性显而易见
- B. 通用语言是处理语言差异的有效手段
- C. 交流工具会因时代和层次需求而变化
- D. 人类为寻找通用语言进行过长期探索

8.歌剧在当代成为“品位高，有文化”的人的专利，这其中的原因很多。最重要和最本质的是，歌剧是作者主导的，这点其实与歌剧的“严肃性”更相关，而且对于近代和现当代歌剧尤其适用。而通俗艺术，比如二人转，是市场和观众主导的。严肃艺术的创作不需要去迎合观众和市场的口味，反而是去教育和提升观众的品位，引发观众思考或者是给观众带来全新的艺术感受。

这段文字主要论述的是：

- A.如何使歌剧成为雅俗共赏的艺术和娱乐表演
- B.歌剧虽然是严肃艺术但本质仍然离不开娱乐
- C.歌剧演唱需要比通俗艺术更高的音量与共鸣要求
- D.歌剧有着“高大上”和“高雅艺术”标签的原因

9.当前，人们往往简单地将“积极老龄化”理解为“老有所为”，但其真正含义远超过后者。通常，我国“老有所为”的主体主要是老干部、老专业科技人才、老知识分子等，但他们只是老年人中的一部分。“积极老龄化”是面向全体老年人群体的，不仅老干部、老知识分子要“积极老龄化”，普通老人也要“积极老龄化”。“老有所为”着重强调老人“参与”的一面，“积极老龄化”还强调“健康”和“保障”以及三者之间有机统一和结合，参与社会仅是“积极老龄化”的一个方面。

这段文字意在阐明：

- A.“积极老龄化”比“老有所为”内涵更丰富
- B.“老有所为”和“积极老龄化”的主体不同
- C.“老有所为”比“积极老龄化”更重视参与
- D.“积极老龄化”概念长期被误读的根本原因

10.如果一个国家没有在其人口中形成对某种主要文明的认同，没有相通的种族构成，其内部凝聚力就不会强大，那么即使产生人口增长，具有众多人口，也难以形成数量优势和国家可用的有利战略资源。奥匈帝国在这方面就很典型。在与普鲁士争夺德意志控制权时，哈布斯堡王朝虽然已有 3700 万人口，却还是因为人口结构过于驳杂，难以形成统一的凝聚力，在 19 世纪下半叶败给了普鲁士。

这段文字意在说明：

- A.人口未必是国家的有利战略资源
- B.民族的凝聚力是国家强盛的基础
- C.国民的文化认同对国家至关重要
- D.人口结构与国家凝聚力息息相关

11.火箭是人类进入太空的最主要方式，为了探索和利用更深远的宇宙，世界航天强国纷纷启动重型运载火箭研制计划，中国航天人也加紧研制自己的重型运载火箭，重型火箭的运载能力将在现有长征五号大型运载火箭的基础上大幅提升，主要瞄准深空探测，其月球转移轨道运载能力可达 50 吨。这样就可以满足未来建立月球基地、载人登月等方面的需求，并为我国火星探测和其他深空探测提供强大的运载平台。

这段文字主要介绍的是：

- A.火箭运输系统将迎来技术革新

- B.国际航天技术研究进入新阶段
- C.我国重型运载火箭的研制将为深空探测提供支撑
- D.各国大力研制重型运载火箭旨在搭建深空探测平台

12.内容产业包括三个层次：信息、知识和智慧。报业更多是生产信息，出版业主要集中在生产知识和智慧，生产信息的必然先于生产知识和智慧的受到互联网冲击。其实原先不少报纸有在知识层面生产的传统，但近年来，报纸的这一特色日益褪色。如果报纸不能从知识层面生产信息，只是在海量信息层面做文章，竞争不过新媒体是自然而然的。

这段文字重在说明：

- A.报业竞争不过新媒体是毋庸置疑的事情
- B.报业相比出版业更早受到互联网的冲击
- C.互联网的海量信息是其取胜的关键武器
- D.今天报业欲生存应多在知识层面生产信息

13.进入网络化时代，虽然无纸化办公呼声不绝于耳，但在不少机关事业单位，公共耗材经费仍居高不下，讲话材料人手一册、电话通知打印成纸……相比于公款旅游、公车消费、公务接待，公共耗材的高消费更容易被人忽视。不妨多考虑微信等新媒体办公手段，防止陷入纸质化办公习惯掉不了头。一些现代企业已经实现远程办公、“云办公”，轻装上阵，带来了巨大的效益。

这段文字意在强调：

- A.互联网时代无纸化办公是大势所趋
- B.现代企业的办公模式更符合时代要求
- C.机关事业单位应让无纸化办公落到实处
- D.机关事业单位公共耗材预算需做出调整

14.近年来聚合型平台的兴起，给媒体数字化转型带来了明显挑战。各类社交媒体平台、搜索平台正越来越多地掌控着媒体消费的出口，成为数字广告业务的最大赢家。这些聚合型平台掌握用户习惯，收割流量，但无需为内容制作负担成本，只靠轻松的“内容搬运”，就能坐拥广播收入的大头，被认为是媒体历史上最大的套利行为。在这种情况下，媒体数字化转型不能只靠“凑热闹”，而是要回归质量。面对聚合型平台带来的压力，转型中的媒体只有避免提供同质化的内容，树立多出力作的精品意识，才能在同免费内容的竞争中保持优势。

这段文字意在说明：

- A.媒体数字化转型要立足于质量
- B.聚合型平台改变了传媒格局
- C.聚合型平台的成功模式难以复制
- D.媒体消费出口是互联网时代的竞争热点

15.我们除了做事，还需多读书，但人生苦短，经典都读不完，何必读其他？何谓经典？经过时间淘洗的著作才是经典。放宽点来说，知识界公认的大家著作也可称为经典。但并非大家的所有著作都是经典。一个人，一生能写出一部经典已属不易，能写两三部者可称奇才。故一般而论，读一个人的代表作即已足够，只有少数里程碑式人物的著作需要全读。

这段文字的主要议题是：

- A. 如何理解经典
- B. 怎样坚持读书
- C. 应该读什么书
- D. 如何阅读经典

16. 中国最早的文学作品《诗经》就有不少有关乡愁的篇章，唐诗宋词中表现乡愁的更是不在少数。20世纪中国现代早期作家，如鲁迅、沈从文等，多有书写乡村记忆的作品，那里流宕着他们对乡村陷入现代困境的深切关怀。乡愁当然也是世界文学传统中的主题，荷马史诗《奥德赛》写的就是奥德修斯历经千辛万苦，最终回到故土与家人团聚。德国浪漫主义文学兴起，怀乡是其重要的组成部分，并且具有了现代意义。

这段文字意在说明：

- A. 中外作家通过怀乡或乡愁作品表现他们对乡村困境的深切关怀
- B. 中外的作家都把怀乡或乡愁作为漫长传统中的重要主题来看待
- C. 怀乡或乡愁是中外作家通过文学作品铭记历史的最好精神蕴藉
- D. 中外作家通过怀乡或乡愁的作品表现人类最基本、最普遍情感

17. 在语言文字的规范问题上，早期的规范观是“匡正”，认为语言使用必须遵循一定的标准，凡是与标准不符的就是错误的，是需要消灭的不正确的语言现象。此后，“匡正观”逐渐发展为“追认观”，既注意语言的变动性，不轻言“不规范”；又注意语言的稳定性，不轻易地把一些尚未定型、尚未被社会公认以及一些显然不健康的东西采纳进来。如今，“动态”规范观越来越趋于普遍认同，这要求我们在“规范”和“规则”、“硬规范”和“软规范”、“显性规范”和“隐性规范”等诸多二元对立因素上有区别地、有针对性地对待语言现象。

这段文字主要介绍了：

- A. 对待语言文字的正确态度
- B. 语言文字规范观的发展过程
- C. 语言规范工作应注意的问题
- D. 辩证看待语言现象的必要性

18. 目前，各城市的城管机构设置不尽相同，一般分为城建监察大队、城市管理局、城市管理行政执法局、城市管理委员会四种。由于城管工作实际是各自为政，没有一部专门的全国性法律来指导，各地方政府根据立法权限制定了一些地方性条例，但差异很大，难以系统化，并由此导致近年来各地不断出现一些“城管暴力执法”事件，影响到社会安定。

这段文字意在说明：

- A. 当前我国城市多头管理之“乱”
- B. 城市执法问题是社会关注的焦点
- C. 城管纳入法制轨道是当务之急
- D. 有必要制定全国性的城管法规

19. 高校设立家政本科专业受到舆论的质疑，因为在传统观念中，大学生是“天之骄子”，保姆似乎“低人一等”，二者难以划上等号。正是这样的错误观念，导致家政行业从业人员良莠不齐，整体素质不高。其实，家政行业是考验从业者综合素质的行业，高校设立家政专

业，符合市场需求。当然，目前来看，家政专业培养出来的学生很少从事家政实务，不少都是从事家政企业管理和家政教育。要想真正吸引更多优秀人才进入家政行业，就要破除职业偏见，让家政服务从业人员能够获得应有的尊严，让他们的工作能够体现应有的劳动价值，让他们有良好的发展前景。

从这段文字可以看出，作者认为家政行业吸引优秀人才的关键在于：

- A.增强家政专业“含金量”
- B.提高从业者的综合素质
- C.尊重从业人员劳动价值
- D.破除家政专业职业偏见

20.这是中国式的隐忍，中国人像野草一样，即使遭遇地火焚烧的大灾难，他们仍然熬得住，挺得牢，来年春天，又会满山遍野绽放新绿。一个人可以有許多品德，但基本的品德，我认为是“熬”这个字。一个人懂得了“熬”，就说明他有信念，他有坚持，他有原则，咬紧牙关能熬下来，他就是一个个性英雄，虽败犹荣。

这段文字意在强调：

- A.中国人的忍耐和坚强
- B.中国人的信念和原则
- C.中国人能够战胜任何灾难
- D.中国人的英雄气概

21.城市治理活动中海量数据的背后，隐藏着人们对公共治理需求的偏好，也隐藏着公共治理需求的优先顺序和变化趋势。数字化治理致力于运用大数据、云计算、区块链、人工智能等技术，优化甚至重塑治理流程、组织结构、运行机制。通过数字化改革，治理主体能够更加精确地掌握不同区域、不同群体甚至不同个体的治理需求及其动态变化，进而优化公共资源配置和服务流程，实现城市治理的智能化。

这段文字意在强调：

- A.精准化与智能化是数字化治理终极目标
- B.数字化治理将会引发公共治理性质的革命性变革
- C.数字化治理的基础是公共治理的数据化
- D.数字化治理将有效提升公共治理主体的治理水平

22.对于中国的独生子女，“父母的就是我的”这种观念也许很难改变，或许本来就是事实，但问题可能出在“富二代”和“贫二代”这两个词本身，人们按先天不同被贴上了标签，就不容易看清楚一些内在的东西。其实可以靠继承得来的不只是一个光荣的姓氏，更有父辈走过荆棘之路的坚韧和勇气，这一点对于穷人和富人的孩子都是一样的。

这段文字表述的观点是：

- A.对坚韧和勇气的继承比财富更有价值
- B.中国人更关注家庭出身和背景
- C.穷人和富人的孩子其实是平等的
- D.“富二代”和“贫二代”有本质的差别

23.当下，众创空间正朝着差异化、专业化、品牌化的趋势迭代发展。全国有超过 400 家由投资机构建立的“投资+孵化”类众创空间；以创业咖啡、创业茶馆等为代表的各类主题式开放众创空间，有效降低了大众创业的门槛；采用共享经济理念发展的联合办公形式众创空间，帮助大众创业者共享信息、知识、技能、想法和拓宽社交圈子；由大企业或高校、科研院所建立的专业化众创空间，促进了大中小企业融通发展；另外还有将创业培训、创业投资等专业服务与互联网平台相结合的平台型众创空间等。这些众创空间各具特色，发展势头十分迅猛。

这段文字主要介绍众创空间：

- A.未来的发展趋势
- B.不同类型及特色
- C.对经济发展的影响
- D.最主要的资金来源

24.月球是地球唯一的自然卫星，也是人类目前唯一能够抵达的地外星球。在人造卫星之外，利用这颗自然卫星开展对地球的遥感观测，有着诸多的优势和不可替代性。月球表面积远远大于任何的人造卫星，因而在月球上布设遥感器，不用考虑载荷多少、大小、重量等，可同时置放很多不同类型的遥感器，形成主被动、全波段同步观测的能力，对于观测大尺度地球科学现象——全球环境变化、陆海气相互作用、板块构造及固体潮、三极对比研究等会有深入的认识，并有可能观测到先前未知的科学现象。

对上述文字概括最准确的是：

- A.月球比人造卫星更加适合布设遥感器
- B.月球对地观测有着天然的综合优势
- C.月球有望能给空间对地观测带来革命
- D.月球开辟对地观测科学与技术新方向

25.近年来，我国推行了一系列改革，为双创营造制度环境。大学生、海归、大企业高管和连续创业者、科技人员这支“新四军”的崛起，可以看作是创业主体从精英走向大众的一个强有力的信号。不过，因为机制体制不健全，一些法律、法规、政策存在矛盾，人的价值的最终实现还存在着不少障碍。倘若人的价值迟迟不能得到充分保障，创新创业者才能的释放势必会受到影响，诸多科技成果就可能烂在抽屉里，诸多科技企业就可能因为缺乏创新而死去。

这段文字意在强调：

- A.改革要为双创营造制度环境
- B.创业主体将从精英走向大众
- C.机制体制阻碍人的价值实现
- D.保障人的价值是双创的前提

26.每个年轻人都要经历社会化过程。正道直行固然有一种简约之美，但在参差多态的社会里，仅有这一招是远远不够的。灵动如蛇固然是聪明而富有效率的，但如果没有内心的方圆和规矩，纯粹的机会主义者行而不远。因而，社会这位无处不在的严师总是教化人们，要在坚持原则和事急从权之间找到一个平衡点，在无伤大雅和誓不低头之间找准分寸感。

最能体现这段话主旨的是：

- A.歧路纷纷，直道而行
- B.处世之道的选择
- C.过于锋芒毕露不利于年轻人的成长
- D.参差多态方为世界之美

27.传统文化中生态伦理思想有助于人们树立节约资源、保护环境意识，选择适度的消费方式。儒家的“取之有度，用之有节”思想和道家的“知足去奢”思想，告诫人类应当克制自身欲望，珍惜、节约资源，既考虑到当前，也应该考虑到未来；引导人们树立正确合理的消费理念，更加注重环境、资源在代际之间的公正分配，给自然留下更多的修复空间，给子孙留下地绿、天蓝、水净的生存环境。这一思想与当今社会存在的享乐主义、消费主义思潮是针锋相对的。

这段文字主要谈论的是：

- A.生态伦理思想的传统文化渊源
- B.生态伦理思想对消费理念的影响
- C.传统文化中生态伦理思想的当代价值
- D.儒家与道家在生态伦理方面的相同之处

28.教育与产业毕竟有不同的利益诉求，双方是否能够采取产教融合的共同行动？有学者认为，德国的传统中小企业中存在大量的非研发创新或低技术创新的需求，正是这类创新，而不是大企业的技术研发，确保了德国制造业的长盛不衰。中国的中小企业数量远远多于德国，其技术能力远远落后于大企业，有大量的非研发创新或低技术创新的需求。这正是职业教育可以发挥作用的空间。

这段文字意在强调：

- A.职业教育实施产教融合是可能与可行的
- B.中小企业要注重学习德国既有的成功经验
- C.职业教育需要强化服务中小企业的意识
- D.中小企业要关注非研发创新与低技术创新

29.为了进一步探索乌龙茶香气的酶促形成，团队成员系统研究了乌龙茶香气的酶促形成与胁迫的关联性。通过筛选各类胁迫因子，发现在乌龙茶加工过程中，损伤和低温胁迫是诱导茶叶香气酶促形成的关键胁迫因子。乌龙茶加工过程中做青阶段的连续损伤可诱导来自不同生物合成路径的香气物质合成关键基因的表达水平升高，进而促使这些香气物质的蓄积。此外，低温和损伤双胁迫对这些香气物质的合成具有显著协同效应。

这段文字意在说明：

- A.乌龙茶香气的酶促形成主要与胁迫相关
- B.做青阶段连续损伤可诱导香气物质的蓄积
- C.胁迫使香气物质合成关键基因表达水平升高
- D.损伤和低温是香气酶促形成的关键胁迫因子

30.我国各地的雾霾，从总的方面来说是各种来源污染排放物经过一系列的化学和物理过程的产物，这里既有一次排放，还有二次化学转化和物理过程。从南到北情况十分复杂，当下的普遍情况既不同于当年伦敦的情况，也不同于洛杉矶的情况。曾有学者讲北京的情况属于“伦敦型”和“洛杉矶型”的复合型，实际上事情绝非是一个“复合型”可以概括。还让人担心的是：眼下从上到下，各省各地都认为燃煤是问题的根子，似乎实现城市燃气化以后，问题就可以大大解决了，其实我们的一次排放物或者说二次过程的产生物质决不只是一个二氧化硫，或者说再加上一个氮氧化物那么简单。

对这段文字概括最恰当的是：

- A.雾霾形成的主要特点
- B.雾霾形成的原因复杂
- C.雾霾类型具有多样性
- D.雾霾危害具有普遍性

31.如今，传统的社会就业观的坚冰在一层层融化，科学的事业发展的阳光在一点点升温，学子们终于豁然开朗，体面和尊严不是外在的虚荣，而在于自己辛勤劳动的成就，事业腾挪的空间。如果乡村同样能够圆梦，有实现人生价值的机会，有事业发展的天地，为什么还要株守于城市的蜗居甘为“蚁族”？

这段文字意在强调：

- A.乡村也是学子们大展宏图的天地
- B.学子们的社会就业观已经在发生改变
- C.不是所有人都适合于在城市发展
- D.体面尊严并非只在城市才能获得

32.家电企业的“内忧外患”积蓄已久，随着我国人口红利的消失，用工成本的上升，家电企业的竞争力逐步减弱。已经有迹象表明，国内的家电巨头已经开始大幅缩减广告投入，并向研发倾斜。更有传言称，国内一家面板企业开出了3年1000万人民币的高薪吸引人才。人才竞争、技术竞争已经成为家电企业占领制高点的必备武器。

这段文字主要谈论的是：

- A.国内的家电企业用工要求很高
- B.企业采用高薪吸引人才必不可少
- C.家电企业必须转型以增强竞争力
- D.人口红利的积极影响正在逐渐减退

33.在所有电脑标志中，“@”是唯一入选纽约现代艺术博物馆建筑与设计收藏的标志。它也是网络世界最常用的符号。每个电子邮件都要用到它，在微博里通知他人，也要用到它。“@”在数字世界的使用最早是在1971年。美国技术研究公司BBN的一位程序员雷蒙德·汤姆林森当时正负责开发一个程序让计算机用户能够连接到阿帕网。他决定在电脑网络的地址中间插入这个符号，来区分“用户”和“终端”，这个做法后来被广泛采用，成了今天电子邮件地址的标准写法。因此，雷蒙德·汤姆林森也被称为“电子邮件之父”。

这段文字旨在说明：

- A.“@”被作为电脑符号的由来
- B.“@”在网络中是最常用的符号

- C. “@”入选现代艺术标志的原因
D.将“@”作为电脑符号的第一人

34.近来,某省对“中国式过马路”现象实行了严管重罚,虽取得一定成效,但也出现多起被罚者抵触甚至打骂交警的事件。不仅如此,由于路权分配、法治素养等根本问题没有解决,加上没有足够的警力,当“运动式”执法过后,“中国式过马路”现象便卷土重来。

这段文字意在说明:

- A. “中国式过马路”现象成因复杂,一时难以根治
B.光靠严管重罚不可能从根本上解决“中国式过马路”问题
C.只有变“运动式”的执法为常规执法,才能杜绝“中国式过马路”现象
D.要根治“中国式过马路”现象,取得良好的执法效果,应进行综合治理

35.如今一些人对幸福的迷惘和困惑,很大程度上缘于我们对传统美德的放逐和糟践。事实上,现代文化中诸多负面元素需要传统文化中的积极元素去引领和超拔,乡土中国延续下来的温情友善、古道热肠、重情守义以及温良恭俭让等传统美德,对当今时代的幸福焦虑症和饥渴症无疑是味良药。

这段文字意在说明:

- A. 医治时代病要依靠传统文化
B.传统美德是医治时代病的良药
C.放弃传统美德导致幸福的迷惑
D.传统美德可医治幸福焦虑症和饥渴症

细节判断题

1.天然气(主要成分是甲烷)和水混合时产生的晶体物,外貌极似冰雪,点火即可燃烧,故称之为“气冰”或“固体瓦斯”。它在自然界的分布十分广泛,已探明的储量是化石能源(包括煤、石油、天然气等)的两倍。“气冰”可视为被高度压缩的天然气资源,每立方米能分解释放出160~180标准立方米的天然气。

根据文意,以下表述不正确的是:

- A. “气冰”的得名主要基于其外形
B. “气冰”是水和天然气的混合物
C. “气冰”分解释放以后才可以燃烧
D. “气冰”探明储量多于化石能源

2.所谓压力测试,是指将整个金融机构或资产组合置于某一特定的(或假设的)极端市场情况下(如利率骤升100个基本点、某一货币突然贬值30%、股价暴跌20%等),测试其表现状况,看能否经受这些市场变量突变所带来的压力。银行压力测试就是通过测算银行在遇到假定的小概率事件情况下可能发生的损失,分析这些损失对银行盈利能力和资本金带来的负面影响。

根据这段文字,下列表述正确的是:

- A.压力测试主要关注极端情况下所发生的风险
B.压力测试是一种以定量分析为主的风险分析方法

- C.压力测试有助于考察银行的抗风险能力和稳健性状况
- D.压力测试能有效避免或降低极端风险对银行带来的冲击

3.有了社会契约，人们失去的是其自然的自由，以及他们愿意拿什么就拿什么的绝对的权利；通过社会契约，他们得到的是文明的自由以及对自己所拥有的财物的法定权。在权衡利弊的时候，如果要避免出现错误，我们必须清楚地辨明什么是自然的自由以及什么是文明的自由——自然的自由只受到个人实际力量的控制，而文明的自由却受到公众意志的限制。步入文明社会，人类获得了道德自由，仅这一点就使人类成了自身的主宰。

根据上述文字，下列说法正确的是：

- A.社会契约规定了自然的自由和文明的自由各自的界限
- B.社会契约强调的是有约束而非完全的自由
- C.人们只有服从社会契约才能获得文明的自由
- D.社会契约赋予人们文明的自由，限制自然的自由

4.人类社会的教育现象，除了教学之外，还存在着无教授的学习，以及未能引发学习的教授等活动。即便是教学，也不仅仅存在于学校里，而是发生在人的社会生活各个领域之中。远在近现代学校产生之前，人类就已经在从事各种各样的教育活动；近现代学校产生之后，人类的教育活动依然在学校以外的社会生活领域中广泛发生着。教育学将自身的研究视野限定在学校时空框架内，实际上是给自己确定了一个错误的学科边界，因而只能将大量的教育现象含糊地当作所谓“广义的教育”而暧昧地排斥于自己的主要研究视域之外。

下列说法与文意不符的是：

- A.教育活动广泛存在于人类生活的各个领域中
- B.无人教授的学习行为也可以归入教育活动
- C.当前的教育学研究对于学科边界存在误判
- D.近现代学校的出现限制了教育学的研究视野

5.膳食指南本身不是科学研究，它是政府组织专家，对过去几年中公开发表的涉及饮食与健康的科学文献进行的汇总与梳理。不同的文献研究的对象、方式和考察的健康指标不同，就可能得出不同的结论。指南的制定是把这些不同的研究进行统一的考察，然后根据证据的强弱作出“推荐”，这些推荐只是根据目前的证据所能作出的合理“判断”，而不是对该问题的“盖棺定论”。

下列说法与文段不符的是：

- A.膳食指南受到当下研究成果的制约
- B.膳食指南根据科学研究的发展往往会产生变动
- C.膳食指南所作的推荐其实不具有参考价值
- D.不同的研究者有时对同一问题得出不同的结论

6.除了品种，温度和光照也会影响到茶氨酸的分解。在关于茶的各种诗文中，优质的茶总是生长在深山幽谷。除了水源土壤的清洁，更重要的原因在于深山幽谷中光照不足，而在春天茶叶发育期间温度较低，所以茶氨酸的分解以及儿茶素的合成受到抑制。这样制得的春茶茶氨酸含量高而茶多酚含量低，也就更好喝。

根据文意，下列说法不正确的一项是：

- A. 受到较多光照的茶叶会使茶氨酸含量降低
- B. 一般产自深山幽谷的茶叶比平地上的好喝
- C. 抑制茶氨酸的分解后制成的茶叶味道不佳
- D. 秋茶一般不如春茶好喝与茶树光照多有关

7. 研究显示，2015 年中国快速消费品市场的销售额增速为近 5 年来最低，其中方便面销售更是大幅下降 12.5%。有研究者认为，低收入退休人员数量上升，是快消品消费下滑的一个重要原因，不过，同一资料还显示，与健康、旅游和娱乐等相关的行业，增速都达到了两位数，其中酸奶销售额增长了 20.6%。有四分之三的受访者表示愿意支付更高的价格购买被认为“健康”的食品。消费者对品质、个性化商品与服务的需求正在迅速增加，不再仅仅满足于追求物质方面的享受，而是更为追求精神方面的满足。

根据这段文字可以推断：

- A. 快消品消费下滑主要是因为低收入人数量上升
- B. 酸奶替代了方便面成为中国消费市场的宠儿
- C. 方便面在人们心中“不健康”印象逐渐被接受
- D. 部分消费者的消费重心开始转移

8. 堵车会延长人们的预期出行时间，造成心理上的不满和体能上的疲乏。但在美国以及欧洲等发达国家，堵车已经连带产生了一系列“堵车经济”，比如汽车餐厅、车内方便食品、车内有声读物、车内免提电话、车载视频等。濒临式微的广播业也因汽车业的发展和堵车现象的增加，得以在交通广播领域施展拳脚。

由上述文字可以得出：

- A. 堵车可以催生新的经济增长点
- B. 广播业因堵车而重新焕发生机
- C. 发达国家的人们并不在意堵车
- D. 堵车经济可以减轻出行的疲乏

9. 一张照片中的场景是这样的：夜幕降临，各种灯光开始勾勒出城市的轮廓，高低错落的楼宇林立，道路上车流的灯光划出流光溢彩的轨迹。如果时空真的能够穿越，让古人穿越到这里，他们一定不会对眼前的景色陌生。因为古人喜欢将楼阁依水依河而建，喜欢登楼观水。这道路不就是高楼峡谷中蜿蜒流淌的河流吗？

根据文意，这张照片拍摄的角度是：

- A. 仰视
- B. 俯视
- C. 平视
- D. 侧视

10. 随着权健、无限极等一个个保健品神话的破灭，很多使用保健品的人陷入了恐慌和焦虑中，他们从昔日对保健品的盲目“迷信、依赖”，一下子反转到“怀疑、一棍子打死”，保健品在某些地区甚至成了“骗局”的代名词，成为过街老鼠。但是，一些有识之士在保健品市场冰与火的两极之间，保持了难得的冷静，他们认为，封杀保健品不是目的，管理才是王道。

关于“很多使用保健品的人”对待保健品的表现，以下概括最准确的是：

- A. 不置可否
- B. 矫枉过正
- C. 草木皆兵
- D. 心有余悸

11.接种疫苗是预防和控制传染病最经济、最有效的方法之一，每个人出生后都会接种多种疫苗。接种疫苗能够增强机体的抵抗力，提高自身的免疫能力，抵御病菌侵袭。疫苗是一种毒性较低的病原体，接种后人体会产生相应的抗体与之对抗。当疫苗的免疫反应平息后，这种疫苗的对应抗体会较长时间留在人体内，而另一类具有记忆功能的免疫细胞则会将这种致病原的信息记录下来。当人体再次遭遇同一种致病原时，记忆免疫细胞便会迅速调集已经存在的相应抗体组织起有效的防御反应。

下列关于疫苗的说法不符合文意的是：

- A.本质上是一种低毒的病原体
- B.是应用广泛的生物医药制品
- C.具有记忆功能可以复制免疫细胞
- D.通过提升机体抵抗力预防传染病

12.顶端优势是指植物的顶芽优先生长，对侧芽萌发、侧枝生长的抑制作用，也包括对侧枝、叶子生长角度的影响。顶端优势强的植物，几乎不生分枝，如长日照植物向日葵，棉花等。番茄等植物顶端优势弱，能长出许多分枝。灌木顶端优势极弱，几乎没有主茎与分枝的区别。多数植物属中间类型，如稻、麦、泡桐等。顶端优势的强弱随植株年龄而变化，同时受营养和环境条件的影响，幼龄植物顶端优势强，老龄时减弱。顶端对侧芽的抑制程度，随距离增加而减弱，因此对下部侧芽的抑制比对上部侧芽的轻。许多树木因此形成宝塔形树冠。

由此我们可以推出：

- A.距离根系越近，则顶端对侧芽的抑制程度会越高
- B.宝塔形树冠是顶端优势弱的植株的典型外部形态
- C.顶端优势现象的表现形式和程度因植物种类而异
- D.生存在恶劣环境下的植物，其顶端优势较为明显

13.随着学科的不断延伸、细分、侧生和增多，现在全新的独立学科创生越来越少，以至于更多的新学科是由多个已有学科交融孕育而成的。这些新学科被称为交叉学科。研究学科学的人，为了表征新学科的创生规律，就归纳出一些交叉学科的创生模式，并经常用简单直观的集合或几何图交叉加以示意表达。这类表达方式被外行人或寻求简单化的管理者误解和误用，让很多人认为交叉学科就是现有多学科的几何交集，学科交叉的形式是有限的，是可以图示化的，等等。

下列说法与文意不符的是：

- A.交叉学科的创生模式并非简单的多学科交集
- B.用几何图交叉表达交叉学科的模式是错误的
- C.交叉学科的形式实际上具有非常多的可能性
- D.当下产生全新的独立学科的可能性越来越小

14.生态审美以人与自然的和谐关系为基础，这种关系是审美性的，是自由性的，是以保护我们赖以生存的环境为目的的。生态审美观更加注重人与自然的和谐共生，不侧重于以某一方面作为主宰，而是强调人与自然的平等。二者的生态审美关系是内在互动的而不是单

方面的独奏。人们融入自然、顺应自然，保持人与自然的和谐共生，从而使得自己的生活充满诗意。

下列说法与原文表达意思不相符的是：

- A. 应把自然万物当作与人平等的主体看待
- B. 人与自然应该自由互动、和谐共生
- C. 人与自然之间具有审美性关系
- D. 自然万物与人有相关性、典通性

15. 痛风是由单钠尿酸盐结晶沉积引起的开始于滑膜的剧烈炎症反应，发作时，局部关节可红、肿、热、痛，这就是炎症最典型的表现。炎症持续时间越长，痛风反复发作次数越多，越容易出现局部关节的破坏，导致慢性痛风性关节炎。因此，在急性期足量、足疗程地应用抗炎药物如糖皮质激素等，是非常必要的，可以止痛。等关节不疼不肿了，开始降尿酸治疗，才是杜绝痛风复发的最根本做法。

关于痛风，这段文字没有提及：

- A. 发病原因
- B. 急性期的典型症状
- C. 治疗方法和步骤
- D. 患者日常生活管理

其他题型

1. 爱的价值，由被爱的方式决定。爱不是给予而是被接受；被爱不是接受，被爱才是给予。没有被接受，就不是爱，不管你付出多少。许多人都单纯地、片面地认为，爱就是给予，只要真心付出，毫无保留地付出，就证明了爱——其实这是错的。真正的爱，必须被接受，否则只能算是示好，想获得青睐的举动。如果给予就是爱，岂不天下大乱，岂不人人假爱之名，妄行强迫威逼之实。

最适合做本段文字标题的是：

- A. 爱是被爱
- B. 爱的价值
- C. 爱是被接受
- D. 爱是接受

2. 翻看中外思想经典，一些宗教文化中不乏“无我”“无私”“奉献”“牺牲”的提法，都有导人向善的美好意图。与此不同，习近平主席讲的“无我”是忘我，是随时牺牲一切为了人民、全心全意为人民服务的宝贵精神，表达了对人民的深厚情怀。从人民性的角度说，共产党人所讲的“无我”是远远高于宗教文化当中“牺牲”意义的，是对“无我”一词的新解、新用。

最适合做这段文字标题的是：

- A. “无我”与“忘我”
- B. “忘我”的境界
- C. “无我”的新诠释
- D. 共产党人的情怀

3. 最新研究显示，所谓“好胆固醇”也许并非真的那么好。研究引用大量基因资料，发现俗称“好胆固醇”的高密度蛋白胆固醇（HDL）水平即使升高，对降低心脏病风险也不一定有帮助；与此同时，因遗传因素而有较高 HDL 水平的人士患心脏病的风险并不低于天生

HDL 水平较低的人士。如果 HDL 真的有助于降低心脏病风险，前者患心脏病的机会应该较低。没有参与研究的学者对相关结果感到不安。

下列哪项最适合做这段文字的标题？

- A.遗传因素与心脏病
- B.心脏病研究的新发现
- C.胆固醇对心脏病的影响
- D.“好胆固醇”或并不存在

4.在传统单位制社区中，社区居民彼此熟悉，整个社区类似于社会学家所言的“熟人社区”。但伴随改革开放尤其是工业化、城市化的快速推进，社区尤其是商品房社区成为人们日常生活的重要社会空间，其业主多是因产权而成为邻居。与过去的单位制熟人社区相比，陌生人社区在成员构成、空间结构以及社会秩序维系机制等方面呈现出诸多不同。

这段文字接下来最可能讨论的问题是：

- A.传统单位制社区的新发展
- B.陌生人社区的建设治理
- C.商品房社区的社会空间拓展
- D.熟人社区的改造与优化

5.大家都知道中国文化需要“走出去”，但是很少有人清楚地知道文化方面什么东西要走出去。正如商家做营销，你要推销产品，首先必须有产品。营销只是包装和策略问题，营销得当就能够逐步确立人们对产品的认同感。但无论如何，首先必须有高质量的产品。如果产品质量低下，营销做得再好也无济于事。

这段文字接下来最有可能讲述的是：

- A.营销与产品的相互关系
- B.如何建立文化产品的质量水准
- C.目前中国文化“走出去”所面临的困境
- D.中国文化“走出去”应确立的主要产品

6.留住文化遗产中的“匠”与“技”，找回守护民族历史传家宝的那些技艺、绝活、高人，培养一支“带不走”的工匠队伍，是文化遗产传承保护工作中亟待解决的重要问题。人在则技在，技在则艺传。为此，高校的职业教育和专业设置都应关注这一点，抢救那些尚在的老工匠们的技艺，抢救文化遗产的实物本体，将中华传家宝完整地交给下一代。

这段文字中“这一点”指代的是：

- A.发扬文化遗产中体现的工匠精神
- B.对于文化遗产实物本体的抢救和传承
- C.重新恢复已经绝迹的文化遗产
- D.文化遗产传承保护工作中的工匠和技艺

7.毋庸置疑，晚清以降中国遭逢千百年未遇之大变局，被强行纳入世界资本主义体系当中，从世界中心沦为所谓边缘的“远东”，在世界历史和文化上一再缺席，遭遇了深刻的文

化身身份危机，不断被误读、曲解和妖魔化。正是在这一历史语境中，发现东方与文化输出就显得越发重要和紧迫。

这段文字中的“历史语境”是指：

- A. 中国被西方列强边缘化
- B. 晚清中国所遭遇的历史大变局
- C. 中国融入资本主义体系的时机
- D. 对中国文化的误读、曲解和妖魔化

8. 几年前，美国一位参议员指责国家科学基金会把奖励颁给一项关于恋爱缘由的研究。他认为，恋爱缘由是无法科学判断的，不论发现什么缘由都不足为信，而且，他更愿意相信爱情是神秘的。作家赖斯顿也同意这位参议员的看法，但是补充说：“如果社会学家和心理学家能够得出某种结论，用来回答我们在爱情、婚姻中所遇到的问题，这笔奖金可能是联邦资金最佳的一笔投资了。”

赖斯顿的这段话意在强调：

- A. 研究恋爱的缘由难以得出明确结论
- B. 对恋爱缘由的研究或许能促进婚姻的稳固
- C. 美国国家科学基金会应该把奖励颁给其他研究项目
- D. 关于爱情和婚姻中现实问题的研究更有意义

9. 在北京人头盖骨失踪 63 年后，周口店再次成为世界关注的焦点。目前，这里正在进行大规模勘探，希望北京人头盖骨能够“再现”。与“挖新”工程几乎同一时刻，“搜旧”工作也被提上了有关部门的议事日程。日籍沉船“阿波丸”号被许多人认为是北京人头盖骨最有可能的藏身之处。据报道，国家博物馆水下考古研究中心主任、中国水下考古队队长表示，水下考古队正在集训，等待明年选择适当时机出发——打捞“阿波丸”号。

最适合做这段文字标题的是：

- A. 北京人头盖骨失踪之谜
- B. 寻觅沉船——北京人头盖骨在哪里
- C. 周口店有望“再现”北京猿人遗址
- D. 考古队明年下水搜寻北京人头盖骨

10. 我磕磕绊绊地走在村庄里，似乎仅仅听到了自己的脚步声和喘息声。两堵泥墙的夹缝偶尔闪出一条窄窄的小巷，光滑的石板路笔直地伸入纵深之后一折绕走了。巷子尽头的泥墙有一扇小小的石窗，窗内乌黑一片。沿途遇见了若干倒塌的院落，阳光之下芳草萋萋，几堵孤立的残墙缄默不语，两扇开始朽烂的门板黯然歪倒在地。随行的朋友从路上捡起一根竹条，说下一个路口的几条狗十分凶悍。话音未落，一群大大小小的黄狗雄赳赳地冲出来，拥挤在路口伸长脖子狂吠，仿佛它们才是这些房子的真正主人。

这段文字最合适的标题是：

- A. 宁静的村庄
- B. 落寞的村庄
- C. 孤独的村庄
- D. 原始的村庄

语句衔接

1.面对某一个具备文化符号属性的事物，不需要特别的文字和言语解释，以一般人的生活经验就可以判断出这是什么文化属性的东西，就叫识别度。以建筑为例，建筑是城市的文化名片，无论是烟雨江南的徽派建筑还是哥特式教堂，它们都具有文化识别度。文字承载着知识的传递与族群间沟通的任务。相较于其他文明的文字系统，_____，超越了时空、地域与方言。一块两千年前的石碑在中国出土，中学生都看得懂，全世界几乎只有汉字有这种可能。

填入画横线部分最恰当的一项是：

- A.汉字具有独具一格的文化识别度
- B.汉字是记录中华古老文明的工具
- C.汉字传承了中国悠久的历史传统
- D.汉字拥有十分独特的形音义结构

2.在时空关系上，摄影和舞蹈是两种截然不同的艺术表现形式，舞蹈中的舞者并非如摄影作品中所呈现的那样，在空间中摆出某个单一、特定的造型，_____。舞者根据舞蹈情节及个人情绪从空间中的一个位置运动到另一个位置，而摄影能够记录的只是舞者舞动的精彩瞬间，但这个瞬间只是舞蹈在时空中的一个切片。舞蹈如同音乐一般，本身是一个绵延的过程；欣赏舞蹈如同欣赏交响乐，欣赏者面对的是完整的旋律，而非其中的某个音符。

填入画横线部分最恰当的一项是：

- A.而是全情投入对舞蹈情感的诠释之中
- B.而是处于一种不断运动的舞蹈过程之中
- C.而是伴随音乐的律动做出特定舞蹈动作
- D.而是在动与静的交替中传达舞蹈的神韵

3.将不能量化的诗歌以及纯文学评价标准和人工智能的算法标准拼接在一起，本来就是一件不伦不类的事。人工智能在科学研究、生产劳动等方面的贡献，足以证明其本领之强，_____，人类也完全没必要拿自己的优势去跟人工智能的缺点比较，即使科技再发达，想必在未来很长的一段时间内，诗歌与文学的世界依然是人类情感和灵魂最佳的栖息地，守卫好我们的心灵家园，依然要靠人类自身的智慧与创造力。

填入画横线部分最恰当的一项是：

- A.毫无疑问将能够实现诗歌评价标准的量化
- B.完全可以取代人类智慧自主开展诗歌创作
- C.没必要和人类智慧在诗歌创作上一决高下
- D.却不能弥补人类智慧在诗歌创作上的缺陷

4.以人工智能、3D 打印和泛在网等为代表的新技术，正在使人类迎来第四次工业革命。新的技术创新提高了劳动生产率，却会减少劳动力的使用。欧美国家近些年来失业率一直保

持在高位，尤其是青年人的失业率很高，已经成为严重的社会问题。与此同时，社会的贫富差距也在不断拉大，很多研究表明，技术进步是加剧这方面问题的一个重要原因。因此，_____是政府必须考虑的问题。

填入划横线部分最恰当的一项是：

- A.如何应对第四次工业革命的冲击
- B.如何促进技术进步、减少劳动力的使用
- C.如何解决高失业率为与贫富差距过大的社会问题
- D.如何在加快科技创新的同时增加就业、减少贫富差距

5.文化自信是更深厚的自信。“_____。”中华文化扎实之根脉、醇厚之积淀，恰如有源之水，滋养着中华民族在新的历史条件下的新创造、新发展，给我们的文化自信打下了最深厚的历史根基。

下列句子填入画横线处，最恰当的是：

- A.海纳百川，有容乃大
- B.积土而为山，积水而为海
- C.源浚者流长，根深者叶茂
- D.泰山不让土壤，故能成其大

6.大数据时代，正是通过挖掘个人选择偏好、生活轨迹、金融信用等数据，把握社会整体的需求、供给和趋势，进而更好地造福社会。有了大数据，企业可以据此实现颠覆式创新，创造个性化、定制化的产品。政府部门可以据此提高治理效能，相关政策可以更好辨证施治。对于个人而言，大数据带来的是更方便、更精准、更有效率。可以说，_____，正在成为现代社会最重要的进步动力之一。

填入画横线部分最恰当的一项是：

- A.大数据使得统计上显著的相关关系越来越多
- B.大数据日益改变着人类日益普及的网络行为
- C.大数据利用信息技术创造持久有力的竞争优势
- D.大数据将信息从知识的载体进化为智慧的源泉

7.国有企业作为中国特色社会主义经济制度重要载体，是我国经济社会发展的中坚力量。当前，国有企业改革和发展面临新问题和新的挑战，特别是在全面建成小康社会，开启建设社会主义现代化国家新征程的重要历史交汇时刻，国有企业以“_____”的顽强意志，把企业党建建在实处，应对好每一场重大风险挑战，提高企业效益、增强企业竞争实力，实现又好又快发展，成为改革的主力军和先行者。

下列句子填入画横线处，最恰当的是（ ）。

- A.踏平坎坷成大道，斗罢艰险又出发
- B.山重水复疑无路，柳暗花明又一村
- C.没有比人更高的山，没有比脚更长的路
- D.世上无难事，只要肯登攀

8.这些年西汉纸不断出土,从材料上看,西汉纸大多夹带许多未被捣碎的纤维团,这种纸制作粗糙,组织松散,纸浆分布不匀,透眼较多,不太适于落笔着墨,书写起来也不顺畅。西汉纸大多不平整,像被揉搓过一样。出土的很多纸上都没有字,即便有字,也是写在纸的右下角,常见的字有“付子”“细辛”等。经考证它们基本都是汉代的药名。于是有学者推论,如果这类纸用于包装药材,那些写在纸角的字,恰好就会露在药包的表面。这样看来,

填入画横线部分最恰当的一项是:

- A.原来早在蔡伦之前纸就已经被发明出来了
- B.纸张成为主要书写工具经历了漫长过程
- C.西汉的古纸极有可能主要用来包装东西
- D.我国古代造纸起源与中药学发展不无关系

9.戴口罩等遮挡条件下的人脸识别其实是一项“老”技术,此前研究人员在解决军事刑侦和视频监控问题时就曾长期研究过该技术,并发展出诸多成熟应用。因此,_____。但是以往的技术基础并没有完全打消人们对戴口罩人脸识别“先天不足”的顾虑。相较于以往,口罩遮挡住面部,使得人脸识别系统收集到的面部信息大量减少。不过研究表明,人脸识别的关键信息集中于眉毛和眼睛,只要模型训练得当,戴口罩人脸识别的准确率并不会大幅下降。

填入画横线部分最恰当的一项是:

- A.提高识别精度才是这一技术的难点所在
- B.该技术的稳定性和准确率是有一定基础的
- C.人脸识别技术已经被广泛应用于各个领域
- D.人脸识别并不需要对全脸进行整体识别

10.社会发展史表明,和对食物的追求一样,人类对美、对艺术的追求始终未变。如果我们将这种追求称为“艺欲”的话,“艺欲”不会像“食欲”那样在满足后减弱,反而会不断增强,这种增强_____。我们都有这样的体验,即便是独自阅读一部文学作品、欣赏一部影视剧或听一场音乐会,也会产生与人交流的内在要求,这种内在要求反过来又会刺激和增强新的文艺需求,此种新需求主要不是重复欣赏某部作品,而是希望欣赏到更加精良的作品。

填入画横线部分最恰当的一项是:

- A.推动着文艺需求更多元丰富
- B.强化了对人们文艺需求的敏锐感知
- C.使文艺更加深刻而广泛地嵌入人们的生活
- D.主要表现为希望获得质量更优的文艺作品

语句衔接

- 1.①人文关怀,是一所大学最可爱的地方
- ②正直的情操、完满的人格,勇于担当责任,敢于坚守真理……到底该成为什么样的人,是远比学习具体知识更为重要的大学课程
- ③大学不仅要教书,更要育人,最高远的渴求除却知识,更应有智慧

④于细微处滴露的真情与责任背后，是一所大学所秉持的价值观和所追求的精神气象

⑤虽然无形，却充盈各处，虽然柔软，却无比坚韧

⑥舆论场里热议的“清华温度”恰恰说明了今天人们对于“大学之道在明明德”的向往与共识

将以上 6 个句子重新排列，语序正确的是：

A.②⑤⑥③①④

B.①⑤④⑥③②

C.③②⑥④⑤①

D.⑥②①③⑤④

2.①所以各种不同的文化、社会制度都是人类为适应各种不同的客观世界和环境所创造的

②有了这样的理论，我们就可以比较广泛地认识各种各样人类社会的不同现象

③既然如此，我们就认为在相同的环境里，人类会有相同或类似的表现

④社会科学有个基本的认识，人类虽然分为各种各样的人群、民族，但人类的本性和对生活的追求是相近的

⑤我们把各种不同环境中人类相应的表现总结出来，就是人类社会普遍性的规律和理论

⑥如婚姻家庭、社会分层等，都是把人在不同场景、地位下的表现做规律性总结，这种总结就是相关问题的理论

将以上 6 个句子重新排列，语序正确的是：

A.④①③⑤②⑥

B.④②⑥①⑤③

C.⑤②④③⑥①

D.⑤⑥②④①③

3.①然而，今天的许多口述史确实出现了一些问题

②在今天的历史学中，口述史已经是一个不可或缺的部分，它对于正史的补充作用是别的史学无法替代的

③因为许多口述史失去了真实的面目，而口述史最大的价值就在于真实

④最大的问题是科学性差，可信度差，这当然就导致科研性很差

⑤口述史为什么有许多变成了演义、猎奇、故事呢

⑥第一个原因可能是为吸引眼球，另一个原因，则和许多从事口述史记录的人缺少专业的训练和素养有关

将以上 6 个句子重新排列，语序正确的是：

A.②⑤⑥①④③

B.⑤⑥③④②①

C.⑤③⑥②①④

D.②①④③⑤⑥

4.近日，由中国、意大利、美国学者组成的研究团队，最新研发出一种三维石墨烯—碳纳米管复合网络支架。这种生物支架能很好地模拟大脑神经网络结构，未来，将可用于药物筛选或植入大脑帮助治疗脑部疾病，该碳神经支架由我国率先提出并完成材料制备。科学家_____。科研人员发现，相比在二维的培养皿中观察、培养神经细胞，三维支架更接近脑部实际环境。

将下列四个句子重新排列，填入划横线处，语序正确的是：

①把体内正常的神经干细胞移植到细小的碳纳米管中

②用石墨烯模拟大脑内部四通八达的三维框架

③从而构建出一个“互联互通”的人造神经网络

④增殖和定向分化神经元细胞

A.①②③④

B.②④①③

C.①③②④

D.②①④③

5.①在一定程度上设置付费按摩座椅取代普通座椅有助于改善候车条件,丰富出行体验

②车站是交通出行的公共场所,候车大厅的座椅是满足旅客候车休息的需要

③但设置付费按摩座椅不应与为旅客候车提供基本的休息服务相冲突

④并且座椅数量、位置设计等都要满足车站客流量和便于旅客通行的要求

⑤因此在设置付费按摩座椅替代普通座椅的过程中,不应减少座椅的数量

⑥任何时候,商业利益都不能凌驾于公共利益之上

将以上6个句子重新排列,语序正确的是:

A.②④①③⑤⑥

B.①⑥②③④⑤

C.②①③⑤④⑥

D.①③②④⑤⑥

6.①从民间采撷并传承来的这些经典,口口相传,齿颊生香。

②承天而来的节气与地结合,是一部民间的《诗经》。

③“清明高粱谷雨花,立夏谷子小满薯”“立秋荞麦白露花,寒露荞麦收到家”……

④大地上劳作的农人,感恩节气,节气就像一粒粒珍珠,被风串起,被时光串起,照亮在农人的心头,温暖在农人的心窝。

⑤从民谣、谚语到诗词文赋,文人们被节气的风吹出万千感慨,饱蘸时令的墨迹,采撷节气的珍珠,描摹丹青,赋诗成诵。

将以上句子重新排列,语序正确的是:

A.⑤③②④①

B.②⑤③①④

C.④①③⑤②

D.③⑤①②④

7.①种种乱象对青少年心理、观念、行为和健康成长容易产生消极影响。

②青少年是人生“起步”阶段,他们的思想意识、价值观念和人格正处于养成过程中。

③另一方面也一定要身体力行,引导孩子形成勤俭奋斗的生活习惯,要狠下心来与包办孩子的一切说“再见”。

④为此,身为家庭教育的主角,家长一方面要注重孩子的知识教育。

⑤只有这样,才能把孩子培养成人格健全、自信自尊自强的大写的“人”。

⑥但目前对青少年的养成教育上,家庭、学校、社会和网络舆论之间,却不同程度地存在悖谬现象,言行背离、理论与实践脱节。

将以上6个句子重新排列,最恰当的是()。

A.②④③⑥①⑤

B.②⑥①④③⑤

C.①⑥④③②⑤

D.①②④⑤③⑥

8.①更令人震惊的是，这些土著们在语言和文化上表现出超乎想象的统一性

②他们没有航海设备，只有原始的舟筏，却在占据了将近地球三分之一面积的大洋中，找到了一个个孤悬海上的小岛

③他们有着相似的风俗习惯，在相隔极远、完全陌生的岛上，竟然可以用同一种语言进行简单交流

④原始的南岛语族，创造了航海奇迹

⑤这使得许多世纪后，“地理大发现”浪潮中驶入太平洋的西方航海家们惊异地发现，几乎他们每找到一处新的岛屿，都已有了土著们居住过的痕迹

⑥然后定居其上，传承和发展着自己的文化

将上述 6 个句子重新排列，语序正确的是：

A.④⑤②①③⑥

B.④②⑥⑤①③

C.②⑥⑤④③①

D.③①②⑥④⑤

9.①海绵是一种最原始的多细胞动物，化石记录最早可追溯到寒武纪时期，至今已发展到一万多种

②阿糖腺苷成为首个从海洋天然产物衍生并成功上市的抗病毒药物

③目前，从海绵提取物中分离得到的天然产物往往具有独特的结构骨架或显著的生理功能，可用于开发药物和作为有机合成或半合成化学中间体，具有作为药物先导物的巨大潜力

④日本化学家从日本黑海绵中提取了软海绵素，将其衍生成抗肿瘤药物，用于治疗转移性乳腺癌等癌症

⑤作为一种营固着生长的生物体，海绵极易被其它生物猎食，却能在残酷的海洋环境中生存，可能依赖于独特的化学防御策略

⑥美国化学家从海绵中分离得到抗病毒药阿糖腺苷和抗癌药物阿糖胞苷的先导化合物

将以上 6 个句子重新排列，语序正确的一项是：

A.①⑤③⑥②④

B.①③④②⑥⑤

C.⑤①④⑥②③

D.⑤③①④②⑥

10.①随着中国发展进入新时代，我们不应再以高速公路的运营里程长短等数量指标为标杆，而应更注重高速公路的管理服务水平、运营效率和智能化程度等质量指标

②可以预见，如果实现这一目标，并善用由此产生的海量汽车与公路流量大数据，必将产生巨大的新产业机遇与发展动能

③取消高速公路省界收费站，不仅需要“大破”，还需要“大立”

④放眼世界，高速公路无人化、智能化是发展趋势

⑤让高速公路人工收费转变为无人收费的便利化措施,成为中国汽车物联网和下一代智能高速公路走入应用场景的突破口

⑥应以取消省际收费站为突破口,加快 ETC 乃至汽车智能感应系统普及化,加快对所有已建高速公路和新建高速公路的信息化和智能化升级

将以上 6 个句子重新排列,语序正确的是:

- A.④①③②⑤⑥
B.③④①⑥⑤②
C.①⑥③④②⑤
D.⑤⑥③②①④

逻辑填空

1.大众娱乐最需要的是—种浪漫化或庸俗浪漫化的激情,作者和读者都有强烈的自我代入欲望,所以这些作品中的主人公总是容貌出众,本领超群,所向无敌,极其多情,不停地拯救弱者,敌人的女人是最有戏剧性和冲击力的欲望对象。当这类娱乐英雄承担宣教任务的时候,总能让乏味的意识形态宣传变得_____。

填入划横线部分最恰当的一项是:

- A.脍炙人口 B.惹人耳目 C.引人入胜 D.出神入化

2.与欧洲建筑相比,中国庭院式的组群布局有其独特的艺术魅力。一般来说,一座欧洲建筑是较为_____的,中国的古建筑却像一幅长卷,必须一段段逐渐_____,而不可能同时看到全景。从一个庭院到另一个庭院,每走一步,景色似乎都在_____,给人留下深切的感受。

填入画横线部分最恰当的一项是:

- A.一脉相承 呈现 更替
B.一气呵成 欣赏 延伸
C.一目了然 展开 变换
D.一览无余 领悟 升华

3.世界建筑文化源远流长。自古以来,人们在建筑房屋的过程中,创造着自己的建筑文化。因此,建筑汇聚了文化的精华,也体现了建筑师的人文修养。纵观历史上优秀的建筑师,除了学识渊博外,大都有着丰富的阅历,而不是_____的理论家,正因此,他们才能_____,迁想妙得,将自己意匠独造的想象力渗入建筑之中,丰富人类的建筑文化。

填入画横线部分最恰当的一项是:

- A.循规蹈矩 融会贯通 B.纸上谈兵 博采众长
C.闭门造车 才华横溢 D.墨守成规 推陈出新

4.我们的生活不断“提速”,凡事追求_____,生活不自觉地迈入“加急时代”。“时间就是金钱,效率就是生命”演变成为一种普世的价值观。出差是飞机高铁,上网是极速体验,吃饭要争分夺秒,就连蹒跚学步的孩子,都不能输在起跑线上。这份急,夹杂着对结果的狂热、对过程的忽视,进而衍生出对规则的_____,同时催生出各种问题。

填入画横线部分最恰当的一项是:

- A.立竿见影 漠视
C.风风火火 褻瀆

- B.当机立断 解构
D.一步到位 歪曲

5.最初版本的个税 App 启用以后,人们对租户必须填写房东信息产生怀疑,担心此举会导致房东多缴一笔出租税,因而房东通过涨房租来对冲损失,客观上造成了房东和租户的零和博弈,这显然不是减税政策的本义。新版个税 App,正是意在回应舆论关于国家减税降负诚意的质疑。就实际效果来说,新版个税 App 一经公布,公众就掀起一片力挺之声,安抚效应可谓_____。

填入画横线部分最恰当的一项是:

- A.显而易见 B.一蹴而就 C.立竿见影 D.卓有成效

6.对一个领导而言,要想使事业获得成功,必须学会_____,就是要敏锐、全面地观察和分析,正确估计发展方向和力度,这样才会在具体的管理行为中_____,选择恰当的时机与人员来完成任务。

依次填入划横线部分最恰当的一项是:

- A.因势利导 如鱼得水 B.统筹兼顾 轻车熟路
C.举重若轻 得心应手 D.审时度势 有的放矢

7.投资也好,理财也好,并不只有股票一个品种。期货、债券、基金、钱币、古玩、艺术品,多花一点时间去关注一下,总会有收获。但一定要“_____”,根据本人的资金实力和风险承受情况来决定投资的品种和方式。

填入画横线部分最恰当的一项是:

- A.削足适履 B.量体裁衣 C.披沙拣金 D.慧眼识珠

8.技术的工具价值只有在正确的人文理性、目标价值引导下,才能发挥最佳功效。否则,技术也可能_____,成为负能量的滋生场。

填入画横线部分最恰当的一项是:

- A.南辕北辙 B.变本加厉 C.为虎作伥 D.小题大做

9.互联网发展初期,传统媒体出于新闻传播和培育新渠道的目的_____网络媒体进行转载,“拿来主义”成为各大平台的“潜规则”。但过去一年来,这个定律似乎正在被打破。网络媒体迎来内容创业的风潮,付费社区、音频问答、在线课程等知识付费产品表现抢眼,互联网内容付费_____。

填入画横线部分最恰当的一项是:

- A.支持 蔚然成风 B.允许 方兴未艾
C.默许 悄然兴起 D.同意 深入人心

10.面对异质文化间的交流,特别是走出国门的艺术展示,我们常会想当然地选择_____受众,在艺术观念与表现样式上有意融合甚至直接“迎合”,而这样做的结果往往得不到理想的效果。艺术风格的坚持、纯化与适度包容,更有利于我们向世界更好地展现中国艺术的精华,同时接收当地受众的文化_____。

填入画横线部分最恰当的一项是：

- A.尊重 评论
B.迁就 反馈
C.考虑 主张
D.顾及 观念

11.随着改革的深入，军工企业逐步建立起适应市场经济的现代企业制度。但军工集团改制并不_____。一方面，从事生产经营的军工企业基本完成了公司制改造，成立了股份制公司；另一方面，多数军工院所依然在事业单位体制内，独立于市场经济之外。产研_____一定程度导致了科研成果市场化程度低、技术成果社会转换利用率不高的问题。

填入画横线部分最恰当的一项是：

- A.彻底 分离
B.系统 互促
C.完善 共建
D.全面 脱节

12.传统电视巨头以硬件见长，近年来他们仍_____地升级显示技术，而互联网电视品牌自知硬件技术难以取胜，就采取另一套打法，以内容取胜，_____消费者的体验和感受。但现实情况是，后者更有_____，近两年互联网电视在迅速蚕食电视市场份额。

填入画横线部分最恰当的一项是：

- A.信心十足 兼顾 动力
B.一如既往 贴近 魅力
C.费尽心机 分析 效率
D.不遗余力 追求 优势

13.在经济全球化时代，面对多元文化思潮的交流与交锋，人们常常有精神迷失的困惑。如何_____西方文化思潮的渗透，始终保持本民族的文化特色？如何实现精神富有，_____起源源不断的精神力量？这些都是当代文化发展需要深入思考的命题。

填入画横线部分最恰当的一项是：

- A.抵挡 集聚
B.抵触 汇集
C.抵御 汇聚
D.抵制 积累

14.早期的智能手环厂商抛出了健康管理的概念，却并未进行数据的深度挖掘，智能手环的概念由热转冷，其在销量上的_____便在意料之中。相应地，市场上涌入了大量的廉价产品，在市场不成熟状态下大打价格战，直接导致整个产业维持在“婴儿”时期以及外界对于可穿戴行业的_____。

填入画横线部分最恰当的一项是：

- A.式微 质疑
B.滑坡 否定
C.衰退 低估
D.颓势 唱衰

15.中华民族在漫长的历史发展进程中，形成了_____的民族文化，其中就包括丰富多彩的民族节日。这些节日久经沧桑传延至今，不仅有着群众_____的娱乐形式、丰富多彩的民俗文化，而且蕴藏着历代民众共同理想和精神追求、_____着中华民族的民族精神和思想精华。

填入画横线部分最恰当的一项是：

- A.丰富多彩 脍炙人口 凝集
- B.博大精深 喜闻乐见 凝结
- C.包罗万象 喜闻乐道 凝固
- D.绚丽多姿 津津乐道 凝聚

16.直觉是人类思维的一种特殊存在形态。它在_____在人类意识深层，超越人类普遍的理性思维和价值判断，在人类自觉的意志和意识控制之外。受到某种特殊的心理诱因或视听感觉_____、诱发，它会突然出现在意识层，_____人类思维，直接对事物、环境状况做出判断。

填入画横线部分最恰当的一项是：

- A.沉积 推动 引导
- B.潜藏 激活 掌控
- C.蛰伏 刺激 掌管
- D.潜伏 触动 主导

17.在纸本时代，学术传播主要是通过书、报、刊出版发行完成的，三者各有分工，各有渠道，各有_____。图书以编辑出版学术著作为主，期刊以编辑发表学术论文为主，报纸以撰写发布学术信息为主，_____，按照相应体制的规章制度或业界的_____规则独立地运行，从而形成了编辑校对、装帧设计、出版发行、质量检查等一系列学术传播的基本秩序。

填入画横线部分最恰当的一项是：

- A.读者 各行其是 潜移默化
- B.受众 各司其职 约定俗成
- C.对象 各自为阵 不言而喻
- D.用户 各有千秋 不约而同

18.最近几年，网红食品_____。为了买到一杯奶茶、一块蛋糕，人们愿意花上几个小时排队，甚至出高价从“黄牛”手中拿货，拿到美食后，再拍照上传到社交平台“打卡”……这已经成为时下许多年轻人的饮食新时尚。但必须注意到的是，部分商家在追求利益的同时无视食品安全问题。一些网红食品借助网络平台隐蔽销售，_____于监管体系之外，存在较大的安全隐患。

填入画横线部分最恰当的一项是：

- A.方兴未艾 逃逸
- B.炙手可热 隐匿
- C.大行其道 游离
- D.异军突起 飘游

19.“愤怒”是对德国作家格拉斯个人风格的准确概括。然而，在他的盖棺之作《万物归一》里，这种“愤怒”似乎已经不那么_____了。

填入画横线部分最恰当的一项是：

- A.引人注目
- B.显而易见
- C.司空见惯
- D.锋芒毕露

20.有史之初，人类的记载，大多_____，不甚清晰，和史前时代也相差不多。例如他们的战争、迷信、魔术、宗教、婚姻、医药等事，也常见原始的色彩，所谓_____的文明典籍中，尽有野蛮的原料为我们人类所欣赏。

填入画横线部分最恰当的一项是：

- A.天方夜谭 文山书海
- B.天马行空 卷帙浩繁
- C.荒渺难稽 浩如烟海
- D.天花乱坠 左图右史

21.原始森林的主要成分是树木，但如果没有缠绕在树木之间的藤蔓，没有那些_____空间的灌木和杂草，没有那些_____或蹲守于茂密丛林的走兽飞禽，这个原始森林也就_____了。

填入画横线部分最恰当的一项是：

- A.抢夺 飞越 名存实亡
- B.抢占 栖息 徒有虚名
- C.争夺 穿梭 名不副实
- D.争占 寄居 朝不保夕

22.从家庭来说，现在父母大多为职场人士，难以_____同子女沟通交往，就是在有限的交往中，也更在意孩子的学业，包括学习成绩和所谓“素质培养”，而很少_____。

填入画横线部分最恰当的一项是：

- A.保持 亲密无间
- B.有效 畅所欲言
- C.经常 心有灵犀
- D.频繁 推心置腹

23.19世纪批判现实主义文学最卓越的功绩之一就是揭露了资本主义社会人与人之间赤裸裸的金钱关系，而夏洛蒂·勃朗特则在这深入人心的主题上_____，大胆开辟了新的价值观领域，以简·爱对爱情的追求，描绘了不以金钱标价的婚姻，使读者耳目一新。但是作者毕竟无法_____金钱对个人幸福的决定作用，这就使简·爱陷入自相矛盾之中，给读者留下诸多思考。

填入画横线部分最恰当的一项是：

- A.标新立异 回避
- B.别出心裁 动摇
- C.独树一帜 抵消
- D.与众不同 忽视

24.美国爆发金融危机，必然_____欧元国家的金融投资，使欧元区的金融机构蒙受重大损失，并在一段较长的时期逐渐暴露出来，引发一次次的金融_____。

填入画横线部分最恰当的一项是：

- A.打击 风暴
- B.重创 恐慌
- C.影响 危机
- D.波及 动荡

25.毫无疑问，真正的批评家应该拥有的是_____的内心和不带任何偏见的眼睛。除了来自自身灵魂深处和纯粹学术性的_____之外，不该成为任何权势或利益集团的代言人和施惠者的吹鼓手。

填入画横线部分最恰当的一项是：

- A.纯净 判断
- B.平静 结论
- C.强大 分析
- D.成熟 观察

C.共生 困难

D.依赖 脆弱

32.现代文明理念要从纸上口头的宣示,转化为人们_____的行为方式,必须经过训练教育,逐渐让这些观念内化为_____的追求,然后通过制度来矫正。

填入画横线部分最恰当的一项是:

A.常规 自然

B.平常 自发

C.日常 自觉

D.通常 自己

33.农业转型过程中,要让市场发挥决定性作用,切忌_____、揠苗助长,以行政力量_____甚至强推农业规模化。

填入画横线部分最恰当的一项是:

A.李代桃僵 指导

B.大包大揽 引导

C.越俎代庖 主导

D.鞭打快牛 倡导

34.电影《老炮儿》把一个北京俚语_____到大众面前,而且显然“老炮儿”已经从带有贬义的词汇中洗白出来,它由一个专门用来形容市井混混的词,_____为社会精英的身份标签。

填入画横线部分最恰当的一项是:

A.显现 蜕变

B.展现 转变

C.涌现 衍生

D.推送 转化

35.天池经历了漫长的无名时期,后来伴随着天池传说的兴起,天池也开始_____。谈到天池传说,还有一个缘由:人们面对神奇的山水之境时,总爱把神灵的光环罩在山水的头上,使山水之景与神灵之气_____ ,即所谓山不在高,有仙则名。

填入画横线部分最恰当的一项是:

A.声名鹊起 相得益彰

B.门庭若市 相映成趣

C.脱颖而出 相濡以沫

D.广为人知 相视莫逆

36.思维改变行为,观念_____命运,四十年改革开放的历程,就是不断解放思想的过程。新时代改革的全面深化仍然需要更为_____的思想解放。这是因为,相比于不断发展的实践,理论本身总有相对的滞后性,特别是某些传统的思想观念与不合时宜的思维方式_____ ,仍可能作为一种无意识与潜意识支配着人们的头脑。

填入画横线部分最恰当的一项是:

A.左右 深沉 司空见惯

B.造就 深刻 积重难返

C.决定 深入 根深蒂固

D.抉择 深邃 坚不可摧

37.建成小康社会、_____改革精神、_____法治观念、_____从严治党,这一战略布局,统一于民族复兴的伟大梦想,统一于中国特色社会主义伟大事业。

填入画横线部分最恰当的一项是:

- A.焕发 增强 落实
C.创造 坚守 加强
- B.继承 弘扬 保持
D.强化 保持 加快

38.在没有经过实践检验之前，医生的设想只是基于临床观察的理论_____，但完美的理论不代表_____的理想结局。医学史上一些看似完美的理论在临床实践中_____的例子举不胜举。

填入画横线部分最恰当的一项是：

- A.推演 必然 折戟沉沙
B.演绎 预设 一败涂地
C.依托 必定 一事无成
D.支持 预想 不堪一击

39.圆明园废墟是北京城最有历史感的文化遗迹之一，如果把它完全铲平，造一座崭新的圆明园，该是多么_____。大清王朝不见了，熊熊火光不见了，民族的郁忿不见了，历史的感悟不见了，抹去了昨夜的故事，收拾来的只是今日的游戏。

填入画横线部分最恰当的一项是：

- A.天马行空 B.得不偿失 C.耸人听闻 D.不可思议

40.红的、黄的、粉的，各色玫瑰，相继绽放，惹得人眼前一亮一亮，美丽的花朵_____了生活，普通的日子_____了些色彩、滋味和乐趣。

填入画横线部分最恰当的一项是：

- A.装点 平添 B.装修 增加
C.装饰 凭添 D.装扮 添加

41.一个国家的文学能在世界范围内引起关注，必然是因为其_____的特质。这种特质包含两个向度的价值，一是基于民族文化_____的优秀特性，二是给出开放性意义的体系。

填入画横线部分最恰当的一项是：

- A.不可替代 禀赋 B.难以复制 禀性
C.无与伦比 传统 D.独一无二 渊源

42.全球化带来的时空压缩和混杂性极大地消解了传统场所的认同维系功能，使人们的生活_____和不确定，媒介成为_____身份的重要文化机构。

填入画横线部分最恰当的一项是：

- A.变化多端 解构 B.风云变幻 建构
C.变化多端 建构 D.风云变幻 解构

43.在进化心理学理论中，人类的情绪可以指引和_____我们的行为，从而更好地适应周围的环境。早在远古时代，原始人处于_____的环境中，就会产生防卫反应，比如，当有野兽进入自己的领域时，便开始不安和愤怒，并试图用凶狠的表情和咆哮吓走侵入者。

填入画横线部分最恰当的一项是：

一起变更好

金标尺教育

- A.调控 危险
C.影响 动荡

- B.改善 不利
D.支配 陌生

44.如何看待各项指标的起落调整?如何领会稳增长、调结构、促改革的辩证用意?如何贯彻稳中求进的调控指引?_____中国经济的复杂问题,需要_____的专业剖析,更离不开格局宏大的战略思考。

填入画横线部分最恰当的一项是:

- A.破解 具体而微
C.解读 返观内视

- B.反观 一丝不苟
D.反思 条分缕析

45.人们把随地吐痰,践踏草坪归咎于道德问题,其实这些举动也透露出对自然的不敬畏,对环境的_____。正是由于这诸多举手投足的小事,让我们共同的家园变得_____。

填入画横线部分最恰当的一项是:

- A.敌意 今非昔比
C.轻视 面目全非

- B.破坏 今不如昔
D.亵渎 不堪目睹

金标尺教育
职通编制 到金标尺

金标尺教育
职通编制 到金标尺

金标尺教育
职通编制 到金标尺

金标尺教育
职通编制 到金标尺

金标尺教育
职通编制 到金标尺

金标尺教育
职通编制 到金标尺

金标尺教育
职通编制 到金标尺

金标尺教育
职通编制 到金标尺

金标尺教育
职通编制 到金标尺

金标尺教育
职通编制 到金标尺

金标尺教育
职通编制 到

报名热线: 13161685939

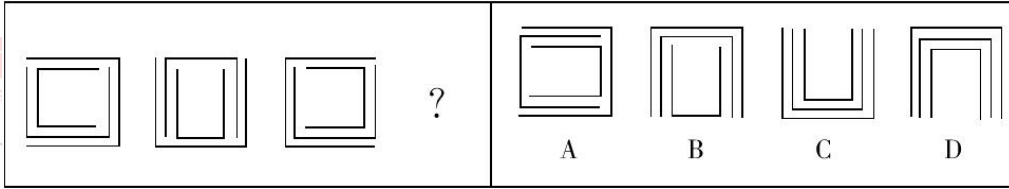
金标尺教育
职通编制 73 到金标尺

金标尺教育
职通编制 到金标尺

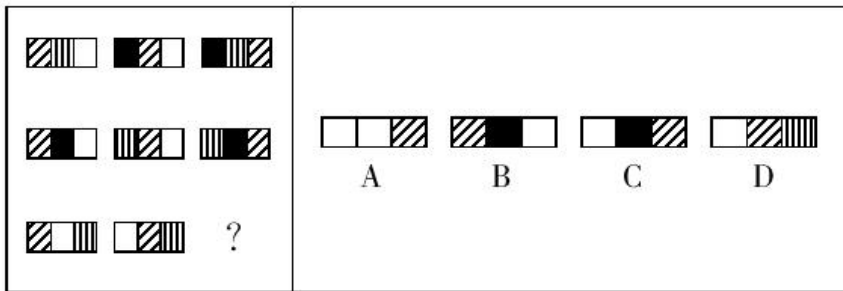
金标尺学员专用资料

图形推理

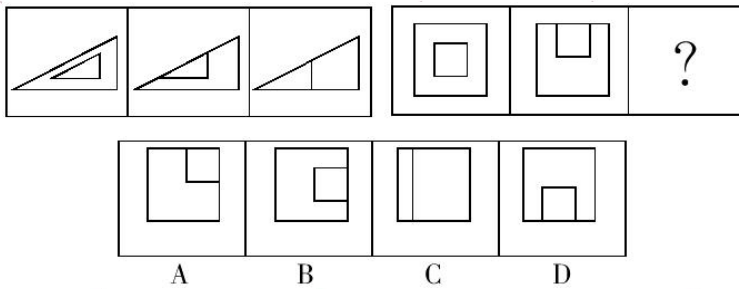
1.根据左图的变化规律，得到的图形是：



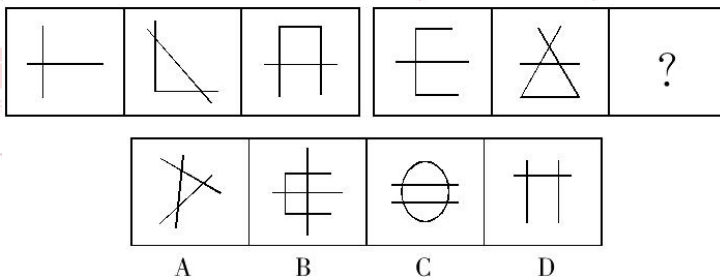
2.下列选项中，符合所给图形的变化规律的是：



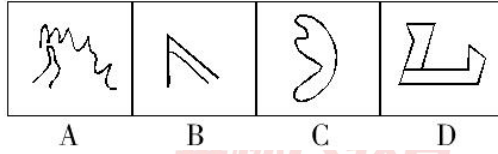
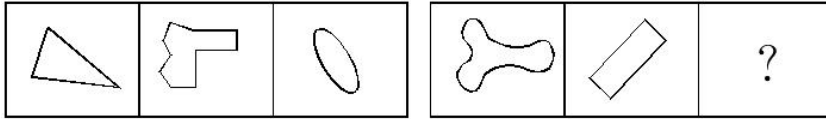
3.从所给的四个选项中，选择最合适的一个填入问号处，使之呈现一定的规律性。



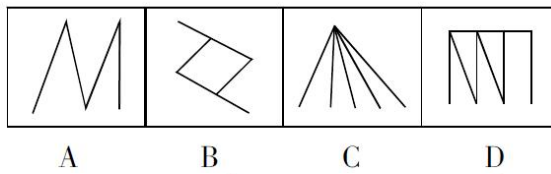
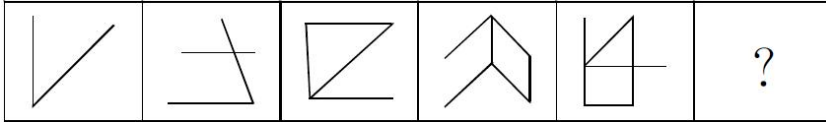
4.从所给的四个选项中，选择最合适的一个填入问号处，使之呈现一定的规律性。




5.从所给的四个选项中，选择最合适的一个填入问号处，使之呈现一定的规律性。



6.从所给的四个选项中, 选出一个填入问号处, 使之呈现一定的规律性。

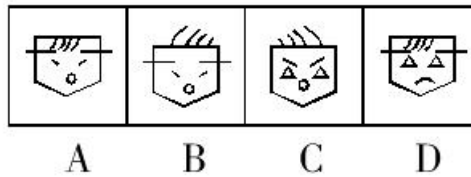



7.从所给的四个选项中, 选择最合适的一个, 使之呈现一定的规律性:

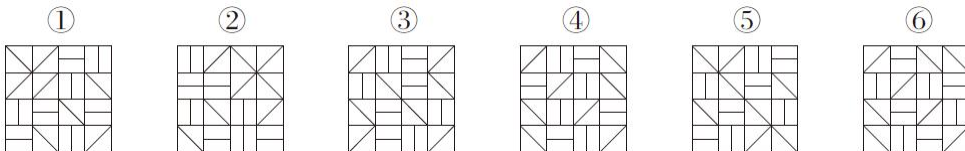


A B C D

8.从所给的四个选项中, 选择最合适的一个填入问号处, 使之呈现一定的规律性:



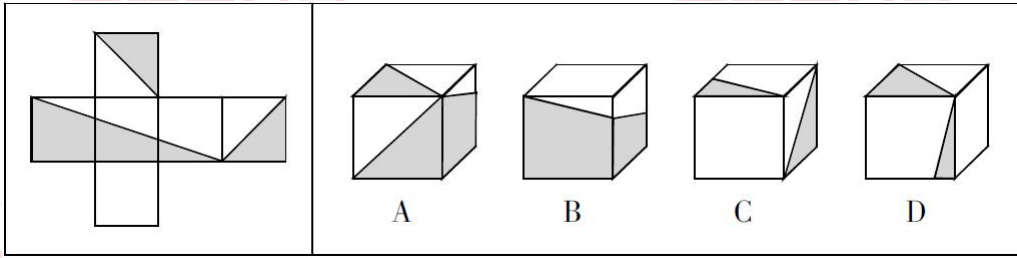
9.把下面的六个图形分为两类, 使每一类图形都有各自的共同特征或规律, 分类正确的一项是:



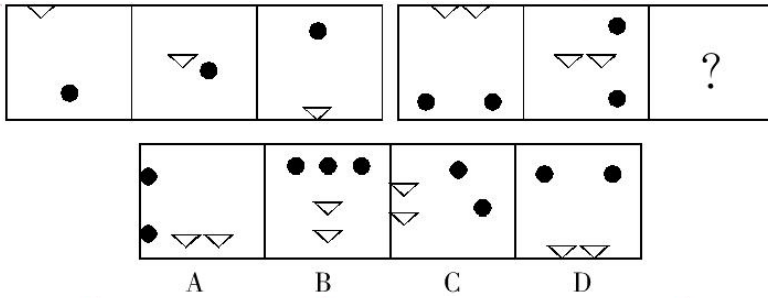
A.①③④, ②⑤⑥
C.①②⑥, ③④⑤

B.①③⑤, ②④⑥
D.①④⑥, ②③⑤

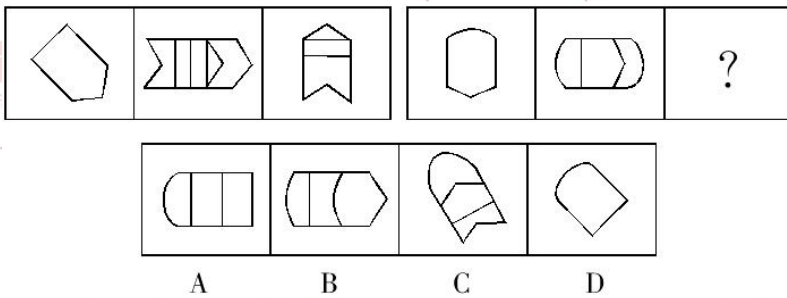
10.左边给定的是纸盒的外表面, 下列哪一项能由它折叠而成?



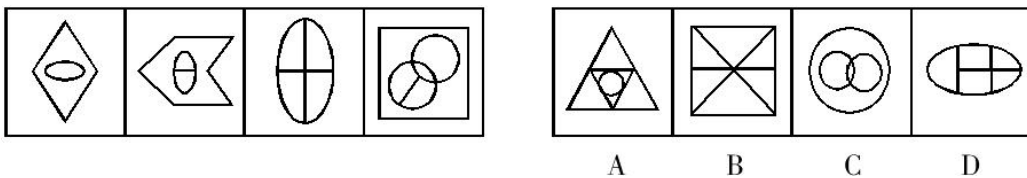
11. 从所给的四个选项中，选择最合适的一个填入问号处，使之呈现一定的规律性。



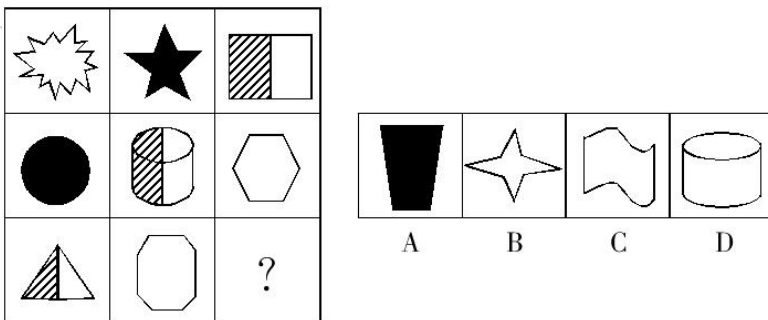
12. 从所给的四个选项中，选择最合适的一个填入问号处，使之呈现一定的规律性。



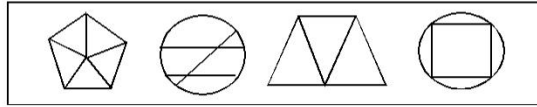
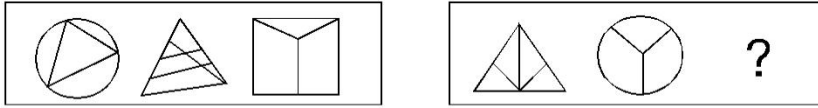
13. 从所给的四个选项中，选择最合适的一个，使之呈现一定的规律性。



14. 从所给的四个选项中，选择最合适的一个填入问号处，使之呈现一定的规律性。

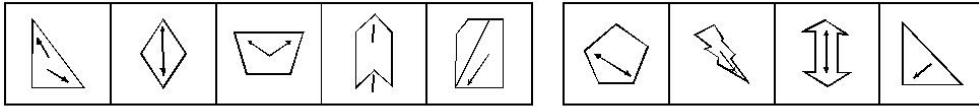


15. 从所给的四个选项中，选择最合适的一个填入问号处，使之呈现一定的规律性。



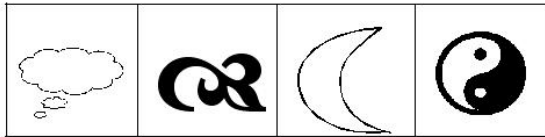
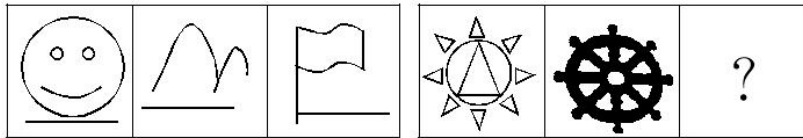
A B C D

16.从所给的四个选项中,选择最合适的一个,使之呈现一定的规律性。



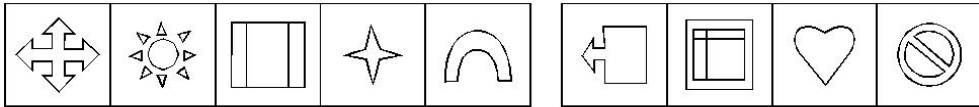
A B C D

17.从所给的四个选项中,选择最合适的一个填入问号处,使之呈现一定的规律性。



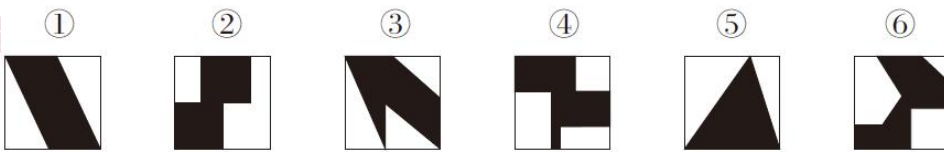
A B C D

18.从所给的四个选项中,选择最合适的一个,使之呈现一定的规律性。



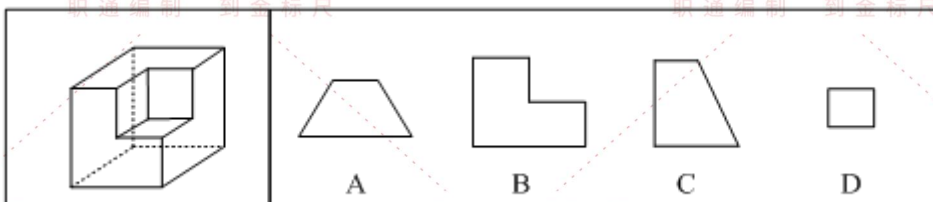
A B C D

19.把下列的六个图形分为两类,使每一类图形都有各自的共同特征或规律,分类正确的一项是:



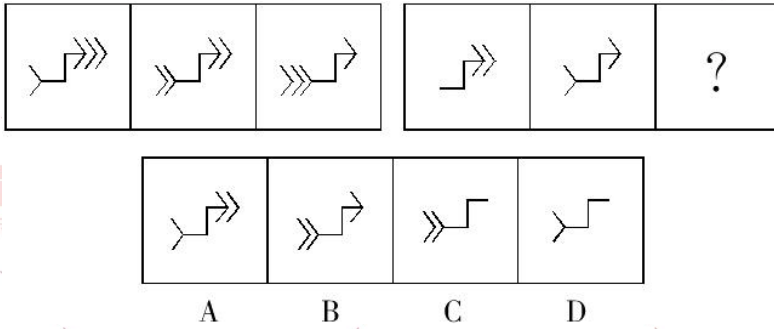
- A.①⑤⑥, ②③④
- B.①④⑤, ②③⑥
- C.①②⑤, ③④⑥
- D.①④⑥, ②③⑤

20.左图是给定的立体图形,将其从任一面剖开,下面哪一项不可能是该立体的截面?

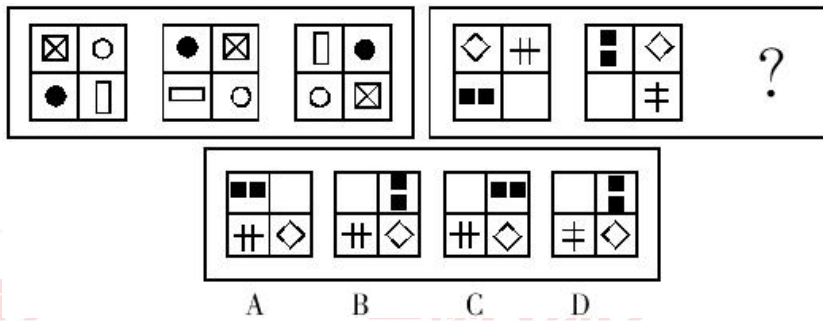


A B C D

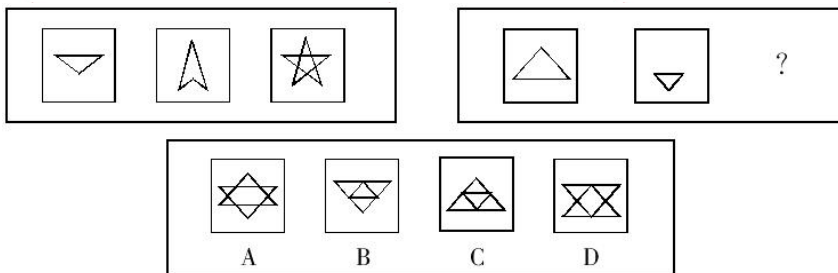
21.从所给的四个选项中，选择最合适的一个填入问号处，使之呈现一定的规律性。




22.请从所给的四个选项中，选择最合适的一个填入问号处，使之呈现一定的规律性：



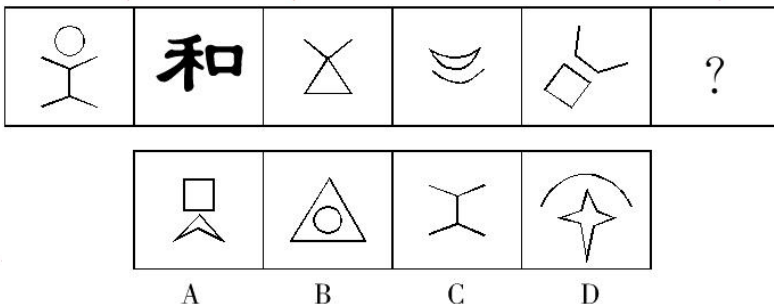
23.下列选项中，符合所给图形的变化规律的是：



24.从所给的四个选项中，选择最合适的一个填入问号处，使之呈现一定的规律性。



25.从所给的选项中，选择最适合的一个填入问号处，使之呈现一定的规律性。



类比推理

- 1.行为规则：法律
A.创新发展：发展
C.文学体裁：小说

- B.社会关系：工会
D.人生理想：目标

- 2.胎生动物：蝴蝶
A.哺乳动物：鸭嘴兽
C.男教师：女青年

- B.实数：正数
D.文科：化学

- 3.勤劳：起早贪黑
A.紧张：分秒必争
C.晴朗：万里无云

- B.朦胧：模模糊糊
D.压抑：日渐消瘦

- 4.郑重：谨慎：慎重
A.自豪：自信：自满
C.认真：细致：刻苦

- B.精美：雅致：精致
D.懒惰：倦怠：消极

- 5.() 对于 大纲 相当于 讽刺 对于 ()
A.简明，漫画
C.摘要，漫画

- B.论文，小说
D.撰写，作品

- 6.小鸟：飞翔：天空
A.大地：种植：高粱
C.蝴蝶：夏荷：飞舞

- B.蟋蟀：欢叫：草丛
D.山坡：爬山：青藤

- 7.堤坝：洪水
A.水：火
C.军人：战争

- B.抑制：情感
D.食物：饥饿

- 8.纸：草
A.火药：硝石
C.树皮：细胞

- B.磁石：石头
D.酱油：蚕豆

- 9.壳：海龟
A.先烈：葬礼
C.追随者：背叛

- B.喝彩者：奴才
D.叶子：芹菜

- 10.恒河 之于 () 相当于 () 之于 金字塔
A.泰姬陵 尼罗河
C.凯旋门 莱茵河

- B.克里姆林宫 亚马孙河
D.科隆大教堂 伏尔加河

- 11.起跑：冲线

11. 点火：添煤
C. 航行：抛锚

- B. 剪彩：典礼
D. 构思：定稿

12. 欧元：美元
A. 公斤：公顷
C. 公里：小时

- B. 小说：散文
D. 阴性：阳性

13. 斯诺克：自由球
A. 网球：持球
C. 乒乓球：一米线

- B. 羽毛球：越位
D. 篮球：罚篮

14. 纸扇：电扇
A. 瓷杯：保温杯
C. 马车：自行车

- B. 扫帚：吸尘器
D. 毛笔：钢笔

15. 李白：床前明月光：思念
A. 王之涣：白日依山尽：境界
C. 苏东坡：卷起千堆雪：壮观

- B. 杜甫：青春作伴好还乡：激情
D. 毛泽东：高峡出平湖：气概

16. 愉快：快活
A. 信任：信息
C. 真诚：诚实

- B. 严肃：严谨
D. 闲聊：休闲

17. 翠鸟：捕鱼：动物
A. 老虎：山林：狐狸
C. 蜘蛛：结网：生物

- B. 水草：生长：海洋
D. 黄鼠狼：鸡：狼

18. 细胞学说：施莱登 施旺
A. 相对论：霍金
C. 镭的发现：居里夫人

- B. 方法论：培根
D. 进化论：达尔文

19. 作战部：司令：参谋
A. 教师：学生：教育
C. 农技站：农民：服务

- B. 人事处：职工：管理
D. 卫生局：研究所：咨询

20. () 之于 计算器 相当于 () 之于 相机
A. 公式，程序
C. 键盘，屏幕

- B. 运算，摄影
D. 数学，风景

21. 阴晴圆缺：月亮
A. 潮涨潮落：海洋
C. 暮鼓晨钟：时光

- B. 天高云淡：金秋
D. 稍纵即逝：机会

22. 电灯：光亮

一起变更好

金标尺教育

22. 电池：电流
C.手机：短信

- B.音箱：音乐
D.电脑：文本

23. 和平：战争
A.小生：老生
C.遗传：变异

- B.油画：素描
D.整齐：凌乱

24. 红色：蓝色：花朵
A.和平：战争：革命
C.土地：阳光：原野

- B.及格：合格：成就
D.物理学：化学：知识

25. 雕塑：绘画
A.政体：民主
C.力学：光学

- B.政治：信仰
D.样本：范例

26. 暖和：炎热
A.微笑：大笑
C.简单：平凡

- B.不规则：规则
D.僻静的：偏僻的

27. 中国：越南：老挝
A.法国：瑞士：意大利
C.美国：加拿大：墨西哥

- B.中国：越南：日本
D.巴西：阿根廷：巴拿马

28. 点唱机：歌曲：歌厅
A.X光机：胸片：病房
C.签到机：考勤：公司

- B.验钞机：钞票：银行
D.幻灯机：影片：影院

29. 郭沫若 对于 () 相当于 () 对于 《管锥编》
A.《女神》，钱钟书
C.《死城》，鲁迅

- B.《炉中煤》，茅盾
D.《人间词话》，周立波

30. () 对于 血液循环 相当于 引擎 对于 ()
A.血管，汽车
C.心脏，汽车

- B.血管，车速
D.心脏，车速

定义判断

1. 单位犯罪，指公司、企业、事业单位、机关、团体实施的危害社会的、依照法律规定应受惩罚的行为。

根据上述定义，下列属于单位犯罪的是：

- A.某医院的院长利用职务之便收受贿赂
B.某事业单位一名员工因对领导不敬，因此被降职
C.某班级的学生认为教师甲的教学能力差，因此集体向学校领导提出开除该老师的建议

D.某公司派一名员工去另一对手公司偷窃商业机密文件以用于自己公司的发展

2.经验科学是指偏重于经验事实的描述和明确具体的实用性的科学。它旨在探究、描述、说明和预言发生在我们所生活的世界上的事件。因此，经验科学的诊断必须由我们经验中的事实来检验，而且仅当它们有经验证据的支持时，它们才是可以接受的。

根据上述定义，下列不属于经验科学的是：

- A.逻辑学
- B.星座学
- C.万有引力定律
- D.自由落体定律

3.内隐社会认知是指在社会认知过程中虽然个体不能回忆某一过去经验，但这一经验对个体的行为和判断依然具有潜在影响的认知现象。

根据上述定义，下列行为符合内隐社会认知的是：

- A.某一品牌幼儿园出现了虐童事件，家长都无法相信这种事件会出现
- B.二十岁的佳佳很怕狗，这是因为她一岁半时被邻居家的狗吓过
- C.小辉学了六年钢琴，后因学习不得不放弃，一次宴会上，他看到钢琴随即演奏一曲
- D.小魏看到某商场在做微波炉的广告，她想到自己家正好缺少微波炉，不如趁便宜买台微波炉

4.粉丝文化：指个人或者群体出于对某一特定对象的追捧心理，所引发的过度崇拜、过度消费、无偿付出等社会文化现象。

下列不属于粉丝文化的是：

- A.某位学者在电视台成功地举办了多次讲座，从此以后，他上课的教室外边常常挤满了慕名而来请求签名、合影的学生、市民
- B.为了让歌手小杨在选秀节目中脱颖而出，许多陌生的年轻人自发组织起来，天天台前幕后地拉选票、拉赞助，忙得不亦乐乎
- C.小张是一家娱乐类刊物的记者，他的主要任务是报道演艺圈的动态消息。有时为了追踪一个明星，甚至连饭都顾不上吃
- D.小丽是《舌尖上的中国》的忠实观众，她把每一期节目都下载到自己的电脑中反复观看，经常到废寝忘食的地步

5.假摔式降费：指企业在外部压力之下采取的一些表面降幅很大，实际上并未惠及广大消费者的调价策略。

下列属于假摔式降费的是：

- A.在“双十一”价格大战中，某知名家电企业大幅调整了多种产品的零售价格，一周内，这些产品在全城各大商场均纷纷售罄
- B.某城市的几家大商场为了抢占节日市场，联手采用打折促销的手段，消费人数呈上升之势
- C.为落实上级有关部门的降费要求，某运营商很快公布了夜间国际漫游降低费用的具体方案
- D.根据上级规定，某旅游景区在其官网上发布了不涨价承诺，游客们很快发现其中的不少景点本来就是免费景点

6.知觉的整体性是指在直接作用于感觉器官的外界刺激不完备的情况下，人们根据自己的经验，对刺激进行加工处理，使知觉保持完备的一种性质。

根据上述定义，下列选项中不属于“知觉的整体性”的是：

- A.在浓雾中，人们看不清前方的物体，但通过对轮廓的大致观察，知道那是一辆自行车
- B.人们在观看有缺口的圆环时，通常会在心里将缺少的部分补足，形成一个整体圆环的形象
- C.小王听到了切瓜果的声音，同时又闻到了香瓜的香味，他觉得隔壁的同事正在切香瓜
- D.一张红纸一半有阳光照射，一半没有阳光照射，从远处看颜色差异很大，人们仍然可以判断出这是一张红纸

7.心理社会能力是个体对需要处理的事项或挑战有一定的预见性和可控性，能够有效地处理日常生活中的各种需要和挑战的能力，是个体保持良好的心理状态，并且在人——己、人——人、人——事、人——物的相互关系中表现出适应和积极的行为能力。

根据上述定义，下列个体事件属于心理社会能力范畴的是：

- A.林某拟参加某地街舞大赛，后因中途发生交通事故受重伤退出
- B.郑某因突然发病不能胜任高原地区工作，被调至平原地区就业
- C.田某前往沿海某岛屿探险，因遭遇火山突然大爆发而被迫终止
- D.李某期末考试多门功课不及格，受到老师批评指责后发奋学习

8.重大突发事件是在紧急状态下发生的严重危机事件。它包括重大突发性自然灾害、重大突发性工业事故及灾难性事故、重大突发性社会骚乱事故和重大突发性政治危机。

根据以上定义，下列情况不属于重大突发性社会骚乱事故的是：

- A.传染病和恶性中毒
- B.恐怖活动、民族冲突、公共场合突发型骚乱
- C.社会动乱、选举危机、政变
- D.球场暴力、春运火车站人员滞留、节假日旅游景区人员拥挤事故

9.“哑巴英语”，是指只注重讲解语法，而忽视对学生实际语言运用能力的培养。过去我们培养了大量只会“哑巴英语”的学生，因为不会说，不会实际运用，学得快，忘得快，没有达到最初学习的真正目的。

根据上述定义，下列哪项措施促进“哑巴英语”问题解决的力度较弱？

- A.西安外国语大学改变教师主动讲和学生被动听的老模式，用精彩的活动形式提高学生的英语听说能力
- B.教育部新闻发言人透露，从上半年起，将正式启动万名英语外教到国内各外语学校任教的十年引进计划
- C.某外语学校召开研讨会，探讨教师职业道德与外语教育的关系问题
- D.某市教育局规定，九年义务教育阶段，在校学生必须接受至少半年以上的口语交际训练

10.新闻侵权：是指新闻单位或者个人利用大众传播媒介以故意捏造事实或者过失报道等形式向观众传播内容违反法律或失实的新闻，从而侵害公民和法人的合法权益的行为。新

闻侵权可分为刑事犯罪和民事违法行为。前者主要是诽谤罪，指“捏造事实诽谤他人，情节严重”的行为，后者主要是指侵害著作权、肖像权、名誉权和隐私权。

以下不属于新闻侵权的是：

- A.某电台为名不副实的增高产品“高尔宝”做广告，欺骗了很多消费者
- B.某出版社经过鲁迅先生家属同意，再次修订出版《鲁迅全集》
- C.某电视台大肆宣传包治百病的某种秘方药物，引来观众的阵阵声讨
- D.某杂志未经刘翔本人允许，擅自将其在奥运会上的跨栏照片当作封面

11.非战争军事行动是指在相对和平环境下，运用军事力量有组织有计划地采取战争以外的军事手段。

根据上述定义，下列属于非战争军事行动的是：

- A.南苏丹武装冲突
- B.2016 中俄联演
- C.美军击毙本·拉登
- D.德军打击 IS 组织

12.国际经济法是调整国家、国际组织、法人、自然人从事跨国经济交往活动所产生的关系的国际法和国内法的总称。

根据上述定义，下面说法错误的是：

- A.国际经济法既包括国际法也包括国内法
- B.跨国婚姻关系不属于国际经济法调整的对象
- C.国际经济法包含了国家之间关于海洋领土划界的协议
- D.跨国经济交往活动的主体有国家、国际组织、法人和自然人

13.质押也称质权，是担保的一种方式，指债权人与债务人提供的第三人以协商订立书面合同的方式，移转债务人或者债务人提供的第三人的动产或权利的占有，在债务人不履行债务时，债权人以该财务价款优先受偿。

按照上述定义，下列哪项不属于质押？

- A.某乙以其存折出质质押
- B.某甲以其所有的别墅出质质押
- C.某丙以其享有的专利权出质质押
- D.某丁以其购买的股票出质质押

14.法律援助是指在国家设立的法律援助机构的指导和协调下，律师、公证人员、基层法律工作者等法律服务人员依法为经济困难或特殊案件的当事人给予减、免收费提供法律帮助的一项法律制度。它有一般对象和特殊对象，前者是要审查其是否是具备援助条件的中国公民；后者是指符合刑事诉讼法和司法部、最高人民法院关于开展刑事法律援助的联合通知规定的刑事被告人。

根据上述定义，下列属于法律援助对象的是：

- A.在中国犯抢劫罪的外国人
- B.确因经济困难，无能力或无完全能力交付法律服务费用的人
- C.因经济困难无能力聘请律师的作为残疾人的刑事嫌疑人
- D.在刑事案件中，委托了辩护人的外国籍被告人

15.长尾理论是网络时代兴起的一种新理论，由美国人克里斯·安德森提出。长尾理论认为，由于成本和效率的因素，过去人们只能关注重要的人或重要的事，如果用正态分布曲线来描绘这些人或事，人们只能关注曲线的“头部”，而将处于曲线“尾部”、需要更多的精力和成本才能关注到的大多数人或事忽略。

以上情况采用长尾理论观点重视“尾部”的是：

- A.尽管现在“大热门”的经济力量已经不如当年，但我们仍然对其绝对的重点关注
- B.商家认为听众对非热门音乐有着无限的需求，市场无比巨大，应加以关注
- C.厂商们把精力放在那些有 80%客户去购买的 20%的主流商品上，着力维护购买其 80%商品的 20%的主流客户
- D.在销售产品时，厂商关注的是少数几个“VIP”客户，“无暇”顾及在人数上居于大多数的普通消费者

16.两个以上的物品环绕一个中心组合在一起，两边平衡、重量或吸引力（包括形状、色彩等方面的吸引力）都有同等的分量，使人产生一种宁静的感觉，这就叫做均衡。

根据上述定义，下列不属于均衡的是：

- A.在儿童公园中，有一种跷跷板，跷跷板两头坐着两个一样重的小孩，两人坐的位置与中心距离相等
- B.人体中线两边各有一只眼睛，一只耳朵，一个鼻孔，一边脸，一手一脚
- C.某模特身上穿着银灰色的套装，脚上穿着一双米黄色的皮鞋，肩上背着绿色的休闲包
- D.达芬奇的名画《最后的晚餐》，画面是一个长方形，以耶稣为中心，门徒在他两边，人数相等，两边的人与耶稣的距离也相等，两边墙上的背景也相同

17.极端制造：指在极端条件下，制造极端尺度或极高功能的器件和功能系统，集中表现在微细制造、超精密制造、巨系统制造等方面。

下列不属于极端制造的是：

- A.无缝钢管、电子秤、折叠自行车等的制造
- B.飞机制造与热连轧机组制造等复杂系统制造
- C.以激光、电子束、离子束刻蚀等强能束制造为代表的激光加工
- D.生物矿石破碎、微生物冶金技术等生物制造

18.“循环经济”本质上是种生态经济，它要求用生态学规律而不是机械论规律来指导人类社会的经济活动，特征是低开采低排放高利用。

下列不属于循环经济做法的是：

- A.退耕还湖，退耕还林
- B.变单程式经济为循环式经济
- C.变消耗型经济为休养生息型经济
- D.变储备型经济为增长型经济

19.E-mail 营销是指在用户事先许可的前提下，通过电子邮件的方式向目标用户传递有价值信息的一种网络营销手段。E-mail 营销有三个基本要素：基于用户许可、通过电子邮件传递信息、信息对用户是有价值的。三个要素缺少一个，都不能称之为有效的 E-mail 营销。

根据上述定义，下列属于有效的 E-mail 营销的一项是：

- A.小王 2002 年成为某品牌产品的会员，该产品定期给他用电子邮件发送电子刊物，入会期满一年后，小王决定退会，但他在网上进行退会操作没有成功，该产品还继续发来信息
- B.小李在某门户网站注册了免费邮箱，注册时注明愿意接收有关医疗保健和体育比赛方面的信息，使用邮箱后，该网站经常向他的邮箱发送包括医疗保健以及商品折扣方面的信息
- C.小赵曾经给某厂商留下地址，希望对方免费邮寄相关资料，后来他收到一份电子邮件，没有发件人姓名、地址、身份，标题是“产品目录”。他恐怕该邮件有病毒，没有打开就将其删除了
- D.小高收到一封邮件，标题为：“免费赠卡，直接消费”。打开后，发现收件人一栏只有一个地址，但却不是自己的邮箱地址，他感到大惑不解

20.受贿：国家工作人员、集体经济组织工作人员或者其他从事公务的人员，利用职务上的便利，索取或者非法收受他人财物，为他人谋取利益的行为。

根据以上定义，下面哪种行为是受贿？

- A.刘某想倒卖彩电，就托人找到电视机厂主管彩电批发的郑某，送去 10000 元人民币，希望郑某按批发价卖给他 100 台彩电。郑某收到钱后交给了领导
- B.甲是某厂财务主管，在给乙报销时，多报销 2000 元，事后与乙平分，二人各得 1000 元
- C.卫某（女）因盗窃金店而被公安机关收审，贾某负责审理这个案子。卫某想让贾某帮助她，即以以身相许，而后贾某便利用自己的职权设法使卫某逃避了法律的制裁
- D.王某主管某单位分房子，李某为了给他在该单位工作的儿子分得一套住房，就给王某送去价值 5000 元的厚礼，王某得到钱后给李某的儿子分了房子

21.失眠症：是一种持续相当长时间的睡眠的质量令人不满意的状况。

根据这一定义，下面哪种情况可以考虑诊断为失眠症？

- A.王奶奶今年 71 岁，她每天只睡 4~5 个小时，早晨天不亮就醒来了，再怎么让她也不睡，她从退休之后就开始了这样已经有 10 多年了
- B.许某是个非常能干的年轻人，他每天晚上埋头苦干，可以只睡 3、4 个小时，还能出色地完成指派的任务
- C.小刘是位年轻的护士，有一天她半夜醒来后就没再睡着，第二天工作差点出错，幸好被同事及时发现。之后她每天睡觉都特别担心，想快点睡着，可却总是难以入睡。她害怕再出现差错就找各种理由请假。现在她已经一个月没去上班了
- D.张某和宋某分手了，分手之后痛苦的张某不吃不喝，谁都不理，整天把自己关在屋子里，晚上也不睡觉，已经有一个多星期了

22.众包，指公司或机构通常由员工承担的工作任务，交由非特定的社会公众完成的做法。

下列不属于众包的是：

- A.某玩具公司一直鼓励和赞助用户参与公司设计工作，从机器人操纵系统到积木套装产品，都收到了比较理想的效果

B.某洗涤用品公司经常把自己的研发项目，发布在各大网站上，征集解决方案定的奖励承诺

C.近三年来，某房地产公司将所有的电脑、网络及外设的日常维护工作，全部交给某电脑公司

D.某美术馆请参观者为馆内展品撰写讲解说明，选出其中的一部分制成标签，共同展出

23.实在判断：判断的最简单的形式，这里是肯定的或否定的表明某一单个的事物的某种一般的性质（肯定判断：玫瑰花是红的；否定判断：玫瑰花不是蓝的；无限判断：玫瑰花不是骆驼）。

下列哪项不是实在判断？

A.地球绕着太阳做圆周运动

B.地球不是恒星

C.地球是圆的

D.地球不是圆的

24.第三者责任险负责赔偿保险车辆因意外事故致使第三者遭受人身伤亡或财产的直接损失，所谓第三者是指被保险人及其财产和保险车上所有人员与财产以外的他人、他物，所谓“所有人员”指车上的驾驶员和所有乘坐人员，但这些人下车后除驾驶员外，均可视为第三者。

根据以上定义，下列属于第三者责任险赔偿范围的是：

A.甲驾驶自己的私人车辆出行，途中车辆发生故障，甲下车修复，车辆突然向后滑行，甲被车辆轧断脚掌，本次事故中甲的医疗费用共计 5000 元

B.甲驾驶卡车向某市运送货物，由于雪天路滑，在避让行人时，发生了翻车事故，经核查本次事故中车辆损毁及货物损毁费用共计 1.9 万元

C.甲为某长途汽车司机，在车辆行驶过程中，车厢内突然起火，乘客乙被烧伤，财物被烧光，乙要求甲赔偿医疗费用及财物损毁费用共计 1 万元

D.甲驾驶大巴车送一批游客去参观名胜古迹，到达旅游地点，甲倒车时将在车后绕行的乘客乙撞伤，后乙向甲索赔 2 万元

25.犯罪的间接故意是指行为人明知自己的行为可能发生危害社会的结果，并且放任这种结果发生的心理态度。

下列属于犯罪的间接故意的是：

A.甲欲毒杀同事乙，于是在大家共同喝水的饮水机中投毒，乙当天并未从饮水机中取水，但却导致其他三位同事中毒

B.甲欲枪杀乙，在乙家门口伏击，只击中了乙的胳膊

C.出租车司机甲与朋友吃饭时多喝了几杯，但是凭借自己多年的驾驶经验，甲认为不会有问题，于是不顾朋友的劝阻执意出车，结果撞死了行人乙

D.某医院护士甲将病人乙和丙服用的药物弄混，到了给乙用药的时间，甲没有仔细核对就拿起应该给丙服用的药物给乙服用，结果因药性不对导致乙死亡

26.财产处分行为是指直接发生财产权移转或消灭效果的行为。财产处分行为的结果是使权利的移转，权利内容的缩小或改变，权利上设定负担以及权利消灭等。

根据上述定义，下述行为中不属于财产处分行为的是：

A.为担保一笔债务，甲公司将自己所有的房产抵押。抵押行为使甲公司对该房产的所有权受到限制

B.乙抛弃自己的电视机。抛弃行为使乙对该电视机的所有权消灭

C.丙与丁订立合同，出卖丙的家传古画，并约定7日后丙交付古画。合同行为使丙负担着7日后移转古画所有权的义务

D.丁免除丙的金钱债务。免除行为使丙不必履行偿还金钱的义务

27.晕轮效应：又称成见效应，根据某人表现出来的特点，观察者对该人做出一种偏见性的（积极或消极的）估价，并把这种估价扩展到其他方面去。

下列各项中属于晕轮效应的是：

A.班主任杨老师很讨厌衣冠不整、蓬头垢面的男学生，因为她总觉得这样的学生智力有问题

B.小杨家买了台海尔冰箱，感觉特别好，之后只要家买电器，比如洗衣机、空调等，就都买海尔牌

C.前苏联心理学家对72人做过一项调查，有9个人认为宽大的前额是憨厚老实的标志

D.临出门时，妈妈告诫晓敏要注意公交车上的扒手，公交车上晓敏觉得每个人都像扒手，因此把自己的包抱得紧紧的

28.服从是个体按照社会要求、团体规范或别人的意志而作出的行为，这种行为是来自外界的影响而被迫发生的。

根据以上定义，下列属于服从的是：

A.一位司机在马路上驾驶汽车时，由于有警察的监督，能听指挥，按规定速度行驶，一旦处于无人管辖的郊外，就超速行驶

B.一位职工口头上表示拥护单位的决定，但在实际上背道而驰

C.一人迫于社会压力或困难压力下表现出来的从众行为

D.在一个犯罪团伙中，有的成员是误上贼船，并不是死心塌地愿意去干坏事，只是被迫而为的

29.新经济：指在经济全球化和信息技术革命的带动下的一种新的经济发展模式和增长方式，其基本特征就是以信息和新技术为基础的高科技产业。

下列属于新经济的一项是：

A.太阳能利用产业

B.纺织业

C.钢铁制造业

D.餐饮业

30.合同诈骗罪，是指以非法占有为目的，在签订、履行合同过程中，以虚构事实或隐瞒真相的方法，骗取对方当事人的财物，数额较大的行为。

下列行为中属于合同诈骗罪的是：

A.位于云南的甲（卖方）工厂与位于上海的乙（买方）公司之间签订了买卖合同。后因甲的产品供不应求，厂领导发布文件要求产品只供应省内客户，而不再履行与乙的合同

B.娄某得知某公司需要木材后，明知自己没有资金及货源，仍与该公司签订了木材购销合同，得到定金3万元后，娄某未去联系任何木材货源

一起变更好

金标尺教育

C.某科研院所与某装潢公司签订技术转让合同,合同规定科研院所将其研制的具有特殊性能的粘合胶生产技术转让给装潢公司,而该公司利用科研院所提供的配方生产后,发现该粘合胶并没有合同中注明的特殊性能

D.某加工厂与原料供应商签订了供货合同,而由于两地间道路塌方,造成原料供应商未能按期履行合同

金标尺教育
职通编制 到金标尺

金标尺教育
职通编制 到金标尺

金标尺教育
职通编制 到金标尺

金标尺教育
职通编制 到金标尺

金标尺教育
职通编制 到金标尺

金标尺教育
职通编制 到金标尺

金标尺教育
职通编制 到金标尺

金标尺教育
职通编制 到金标尺

金标尺教育
职通编制 到金标尺

金标尺教育
职通编制 到金标尺

金标尺教育
职通编制 到金标尺

金标尺教育
职通编制 到金标尺

金标尺教育
职通编制 到金标尺

金标尺教育
职通编制 到金标尺

金标尺教育
职通编制 到金标尺

金标尺教育
职通编制 到

金标尺教育
职通编制 89 到金标尺

金标尺教育
金标尺学员专用资料 编制 到金标尺

报名热线: 13161685939

1.地球环境日益恶化,危及我们的健康,我们每个人都应当提高环境保护意识,应当承担起保护绿化环境的义务。

据此,可以推出:

- A.并非有些人不应当承担起保护环境义务
- B.并非有些人应当有保护环境义务
- C.有些人没有环境保护意识
- D.有些人有环境保护意识

2.甲、乙、丙、丁四个人同时竞争一个就业职位,他们四个人中只能有一个人获得该职位,在面试结束时,他们四个人对该次面试的结果进行了预测:

甲:这次我肯定得不到这个职位

乙:我估计这个职位应该是丁获得

丙:乙的口才最好,乙肯定能得到这个职位

丁:乙的说法没有任何根据

四个人中只有一个说对了,那么到底谁能获得这个职位?

- A.甲
- B.乙
- C.丙
- D.丁

3.所有农村题材的电影都贴近现实生活,所有贴近现实生活的电影都受到农村群众的欢迎,有些农村题材的电影是高成本制作的。

如果上面的陈述是正确的,下列选项中正确的一项是:

- A.农村群众所喜欢的电影大多数是低成本制作的
- B.高成本制作的电影不能吸引农村群众观看
- C.只要是农村题材的电影,农村群众都欢迎
- D.高成本制作的电影很难贴近现实生活

4.只要诊断准确并且救治及时,那么这个病人就不会死亡。现在这个病人不幸死亡了。

如果上述断定是真的,下面哪项也一定是真的?

- A.对这个病人诊断不准确,但救治及时
- B.对这个病人诊断是准确的,但救治不及时
- C.如果这个病人死亡的原因是诊断不准确,那么救治不及时不会是原因
- D.如果这个病人的诊断是准确的,那么,造成死亡的原因一定是救治不及时

5.到游泳池深水区游泳,只需要具备两个条件:一是戴泳帽,二是持有深水游泳证。小王戴着泳帽到深水区游泳,被工作人员阻止。

根据以上条件,下列判断必定为真的是:

- A.小王不会游泳,到深水区游泳较危险
- B.小王是儿童,不适合到深水区游泳
- C.小王没有深水游泳证
- D.小王到达游泳池时,深水区已经暂停开放

6.某实验室一共有3种类型的机器人，C型能识别颜色、S型能识别形状，X型既不能识别颜色也不能识别形状。3类机器人都能根据简单命令拿起实验品。实验室对1号机器人和2号机器人进行实验，当命令它们拿起红球时，1号拿起的是红色方块，2号拿起的是蓝球。

根据上述实验，以下哪项断定一定为真？

- A.1号和2号都是X型
- B.1号和2号都不是X型
- C.1号是C型且2号是S型
- D.1号不是S型且2号不是C型

7.某单位要编排一个歌唱节目，在成员的选择上，要考虑以下原则：A的表演经验丰富，必须入选；B与C配合得最好，要么一起去，要么都不去；D的歌唱技巧需要C的指导，D去了，C一定要去；E与B都是唱高音的，只需要去其中一个。

那么这个节目的成员人数可能是（ ）个。

- A.1或2
- B.1或3
- C.5
- D.2、3或4

8.M大学学生小段突患重病，有一同学暗中捐款相助。小段转危为安后，想知道是谁捐款了。他询问了五位同学，分别得到以下回答：

- (1) 或者甲捐了，或者乙捐了；
- (2) 如果甲捐了，那么丙也捐了；
- (3) 如果乙没捐，那么丁捐了；
- (4) 甲和乙都没有捐；
- (5) 丙和丁都没有捐。

实际上，这五位同学的回答中只有一句是假的。据此，可以推出：

- A.丙捐了
- B.丁捐了
- C.甲捐了
- D.乙捐了

9.乒乓球单打决赛在甲、乙、丙、丁四位选手中进行，赛前，有些人预测比赛的结果，A说：甲第4。B说：乙不是第2，也不是第4。C说：丙的名次在乙的前面。D说：丁将得第1。比赛结果表明，四个人中只有一个人预测错了。

那么，甲、乙、丙、丁四位选手的名次分别为：

- A.2、3、4、1
- B.1、2、4、3
- C.1、3、4、2
- D.4、3、1、2

10.甲、乙、丙均为教师，其中一位是大学教师，一位是中学教师，一位是小学教师。并且大学教师比甲的学历高，乙的学历与小学教师不同，小学教师的学历比丙的低。

由此可以推出：

- A.甲是小学教师，乙是中学教师，丙是大学教师
- B.甲是中学教师，乙是小学教师，丙是大学教师
- C.甲是大学教师，乙是小学教师，丙是中学教师
- D.甲是大学教师，乙是中学教师，丙是小学教师

11.一个老人告诉医生，说他的右腿疼，医生说：“这是上了年纪的缘故。”

以下最能反驳医生说法的是：

- A.老人年轻的时候右腿也疼
- B.比老人年纪小的人腿也疼
- C.比老人年纪大的人腿不疼
- D.老人现在左腿不疼

12.为什么一些灵长类动物的大脑尺寸比其他动物要大？原因通常被认为是社会行为，即灵长类动物生活于更大更复杂的社会群体中，为了更好地处理各种社会关系，它们需要更大的大脑。

以下哪项如果为真，不能质疑上述观点？

- A.通过灵长类动物的饮食特点而非社群复杂性，能够更容易预测其大脑的大小
- B.猩猩等一些灵长类动物通常是独居生活，但它们的大脑也很大
- C.大脑皮层的大小与大脑尺寸没有直接关联，但对于灵长类动物的认知、空间推理能力等非常重要
- D.灵长类动物中，食果类的大脑比食叶类大，这是因为果实在时间和空间上更分散，找到果实是一项更为复杂的任务

13.某地许多消费者投诉某品种的空调质量不好，制冷效果很差。对此，该品牌空调的总工程师回应说，空调之所以运转不正常，是因为当地的空气质量太差。

以下选项如果为真，能够最有效地反驳该工程师的观点的是：

- A.在空气质量良好的地区，该品牌的空调运转非常良好
- B.该品牌空调在其他地区没有出现过大量的质量投诉
- C.不是所有空调的运转状态都受到空气质量的影响
- D.所有的空调都应当保证能够在当地正常运转，才能够出售

14.一位研究人员希望了解他所在社区的人们喜欢的口味是可口可乐还是百事可乐。他找了些喜欢可乐的人，要他们在一杯可口可乐和一杯百事可乐中，通过品尝指出喜好。杯子上不贴标签，以免商标引发明显偏见，只有将可口可乐的杯子标志为“M”，将百事可乐的杯子标志为“Q”。结果显示，超过一半的人更喜欢百事可乐，而非可口可乐。

以下哪项如果为真，最可能削弱上述论证的结论？

- A.参加实验者受到了一定的暗示，觉得自己的回答会被认真对待
- B.参加实验者中很多人从来都没有同时喝过这两种可乐，甚至其中有 30% 的参加实验者只喝过其中一种可乐
- C.多数参加实验者对于可口可乐和百事可乐的市场占有情况是了解的，并且经过研究证明，他们普遍有一种同情弱者的心理
- D.在对参加实验者所进行的另外一个对照实验中，发现了一个有趣的结果：这些参加实验者中的大部分更喜欢英文字母“Q”，而不喜欢“M”

15.食品安全标准不仅关系到食品安全，更关系到国家利益。稀土在土壤中广泛存在，也在现有的各种食物中广泛存在。目前，科学界关于稀土对人类健康影响的研究很欠缺，国际权威机构迄今为止并没有对稀土的危害性做出评估，更没有设立所谓“安全摄入标准”。近年来，我国对稻谷、玉米、小麦、茶叶等食物中的稀土限量标准做出统一标准，均为 2.0 毫克/千克。有专家据此认为，这些标准的制定并非都是合理的。

以下哪项如果为真，最能支持上述专家的观点？

- A. 目前，我国的稻谷、玉米、小麦中的稀土含量一般都低于 2.0 毫克/千克
- B. 茶叶中的稀土只有大约 25% 会进入茶水中，而一个人每天食用的茶叶量要远远小于粮食
- C. 中国先于国际权威机构制定食物中稀土的“安全摄入标准”，具有一定的超前性
- D. 中国是茶叶出口大国，又是世界上唯一制定了茶叶稀土限量标准的国家

16. 我国正处于人均 GDP 从 100 美元到 3000 美元的过渡期，在加快工业化的进程中，人们对物质文化的需求不断提高。但是，目前政府提供公共产品和公共服务不足，这与人民群众日益增长的社会公共需求不适应。

如果下面各项内容是真，不能加强上述论述的选项是：

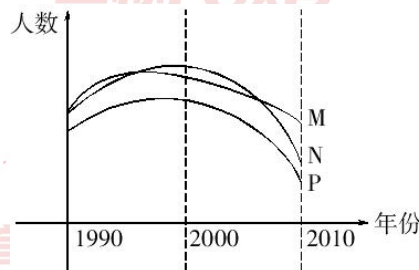
- A. 2004 年底，全国参加基本养老保险、失业保险、医疗保险的人数约占全国就业人员总数 74432 万人的 21.96%、14.22% 和 16.64%
- B. 2004 年，44.8% 的城镇人口和 79.1% 的农村人口没有任何医疗保障
- C. 2004 年，公共卫生保健支出占 GDP 的比重，中低收入国家的平均水平为 2.6%，而我国为 1.9%
- D. 2004 年，中央政府财政收入占财政总收入的 54.9%，地方政府财政收入占财政总收入的 45.1%；中央财政支出占财政总支出的 27.8%，地方政府财政支出占总支出的 72.2%

17. 下班骑自行车回来的妻子在门口对丈夫说：“已经是春天了，可是外面还是蛮冷的。”丈夫答道：“今天温度已经不是零下了，怎么还冷呢？”妻子说：“反正感觉比较冻脸。”

以下哪项是上述对话中丈夫所假设的？

- A. 春天里人不应该感觉冷
- B. 人的感觉是靠不住的，只有温度计是客观的
- C. 春天到了，气温不应该在零度以下
- D. 人是否感觉到冷是以零度为界限的

18. S 市规定，适龄儿童须接种麻疹疫苗，适龄儿童必须接受义务教育。下图表示 1990 年至 2010 年间 S 市儿童数量的一些统计。其中 M 表示接受义务教育的儿童总数，N 表示新生儿总数，P 表示接种麻疹疫苗的儿童总数。



下面哪一项最能解释 2000 年至 2010 年间 S 市接受义务教育的儿童总数与接种麻疹疫苗的儿童总数下降程度的不同？

- A. 2000 年至 2010 年间，约有 20% 的父母没有按照 S 市的规定让他们的孩子接种麻疹疫苗

- B.2000 年至 2010 年间，有部分在 S 市接种麻疹疫苗的儿童没有在 S 市入学
- C.2000 年至 2010 年间，S 市新生儿总数下降，因此入学儿童总数和接种麻疹疫苗的儿童总数也随之下降
- D.2000 年至 2010 年间，每年都有不在 S 市出生但已接种了麻疹疫苗的儿童在 S 市入学

19.有研究表明，植物叶片边缘部位导水功能和气体交换功能不及叶片中间部位。以某种露天生长的热带植物海芋为例，其叶片直径可达 1 米，晴天下午其叶片边缘附近比叶片中部温度高 8.8 摄氏度，导致一些叶片边缘出现高温灼伤而“干枯”。因此，科学家认为，这种现象限制了叶片面积的继续扩大，自然界中巨叶植物当然就比较少。

由此可以推出：

- A.寒带植物叶片不如热带植物叶片大
- B.在温室长大的海芋叶片比热带露天生长的大
- C.植物叶片导水和气体交换功能减低会抑制散热
- D.热带地区冬季常常下雨时植物的叶片会比不下雨时小一些

20.韩国人爱吃酸菜，罗艺爱吃酸菜，所以，罗艺是韩国人。

能证明上述推理荒谬的是：

- A.所有的阿肯特的人都说谎，汤姆是阿肯特人，所以汤姆说谎
- B.会走路的动物都有腿，桌子有腿，所以，桌子是会走路的
- C.雪村爱翠花，翠花爱吃酸菜，所以，雪村爱吃酸菜
- D.所有的金子都闪光，所以，有些闪光的是金子

21.近年来，有个别地方出现孩子辍学现象，这与某些家长的认识有关系。有些农村家长认为，反正孩子今后长大要外出打工，现在根本没必要上学读书。显然，这种认识是错误的。

据此，可以推出：

- A.有些长大不要外出打工的孩子现在有必要读书
- B.有些长大要外出打工的孩子现在有必要上学读书
- C.所有长大要外出打工的孩子现在都没必要上学读书
- D.有些长大要外出打工的孩子现在没有必要上学读书

22.如果小李乘坐火车或飞机去云南旅行，小张就会跟他一起去。只要小李不乘坐火车去云南，小王就会跟他一起旅行。实际上，小张最近一直躲在江南某小镇写作，闭门不出也不想外出。

根据以上陈述，可以得出以下哪项？

- A.小李跟小张一起旅行
- B.小李跟小王一起旅行
- C.小李乘坐火车去云南
- D.小李乘坐飞机去云南

23.世界粮食年产量略微超过粮食需求量，可以提供世界人口所需要的最低限度的食物。那种预计粮食产量不足必将导致世界粮食饥荒的言论全是危言耸听。与其说饥荒是由于粮食产量不足引起的，毋宁说是由于分配不公造成的。

以下哪种情形是作者所设想的？

丙说：“这些小演员中有些不是北京人。”

事实上，甲乙丙三人的话只有一句为真。

请问，下面哪个选项为真？

- A.45 名小演员都不是北京人
- B.有些小演员不是北京人
- C.李欣欣不是北京人
- D.45 名小演员都是北京人

32.如果丽丽参加同学聚会，那么小强、大壮和李铁也将一起参加同学聚会。

如果上述断定是真的，则以下哪项也一定是真的？

- A.如果丽丽不参加同学聚会，那么小强也不参加
- B.如果小强、大壮和李铁在一起参加同学聚会，那么丽丽也参加
- C.如果丽丽和小强参加同学聚会，那么大壮和李铁不会参加
- D.如果李铁不参加同学聚会，那么丽丽也不参加

33.心理学家认为，人一般都有沟通交流的渴望，都有对真情的需要。部分厌倦了群发祝福的现代人开始重新定位节日祝福，抵制祝福群发。细心的人会发现，与前两年全是雷同短信相比，今年的原创短信明显增多，而沉寂多年的拜年贺卡也悄然而至。

上述论证所依据的假设是：

- A.由于节日祝福短信内容多是“克隆”而来，大面积群发自然不可避免地出现重复
- B.祝福群发冲淡了真情，甚至会让人产生不被重视或尊重的感觉
- C.据估算，春节 7 天长假全国手机短信发送量预计为 120 亿条左右，上一年春节假期这一数字为 110 亿条
- D.现代人在发送节日祝福短信时缺乏创新性，读多了难免让人产生厌倦情绪

34.经过实验室实验和临床试用观察表明，现在有些常用的抗菌类药物，应该空腹服用。因为饭后服用，食物可能影响药物的吸收，或使药物利用率明显降低。

下列最能支持上述论断的是：

- A.抗菌类药，对胃肠的刺激性不大，可以空腹服用
- B.空腹服用的抗菌类药物只是所有抗菌类药物中的一小部分
- C.人们服用药物时都想增加药物的疗效
- D.以往人们对抗菌类药物的使用存在明显不合理

35.只有在统治者不能照旧统治下去，人民群众也不能照旧生活下去的时候，革命才会发生。就个人而言，选择革命或者接受革命，也往往是别的路走不通之后，才“逼上梁山”的。

由此可见：

- A.革命不需要动员，人民群众会自发的参与
- B.任何一次革命，都不是人为制造的结果
- C.所有在个人生活中遇到挫折的人，都会参与革命或支持革命
- D.革命不需要领导力量也会造成很大的声势

36.被誉为中华民族文化符号的杨柳青年画，诞生于千年古镇杨柳青。杨柳青年画取材广泛，世俗生活无所不包，仕女、娃娃、戏曲、山水花鸟、吉祥图样、神话故事、历史典故

皆能入画，深刻影响了国内的近百种年画。杨柳青年画作为民族民间艺术走向世界，成为中华民族文化的名片。有人说，杨柳青年画历来被人推崇是因为其雕刻的形象异常生动，也因此被认为是中国木版年画之首。

以下哪项如果为真，能够反驳上述观点？

- A. 杨柳青年画主题中所蕴含的神韵是其生动形象的生命力
- B. 杨柳青年画的历史可以追溯到宋代，清代康雍乾至嘉庆时期达到鼎盛
- C. 杨柳青年画从发轫之初就流动着典雅和雍容气质，烙上浓重的宫廷画印记
- D. 杨柳青年画因色彩艳丽、表现力夸张、画面热闹喜庆而深受人们的喜爱

37. 某市教育专家建议，可以采取按照年龄、教授科目和职称等级将教师平均分配的办法来配置教育资源，这样就能实现教育公平，解决目前因上重点中学引起的社会问题。

以下哪项如果为真，最能削弱上述专家观点？

- A. 很多原来重点中学的教师对此表示支持
- B. 普通中学纷纷要求增加拨款加强学校硬件建设
- C. 一些重点中学教师要求到该市以外中学任教
- D. 绝大多数学生和家長表示反对

38. 在某次选举过程中，一位候选人被揭露出篡改个人简历，这导致一些选民对他的个人诚信度产生质疑。但该候选人的民意支持率仍节节上升，甚至已远远超过其他候选人。

以下情况有助于解释上述矛盾现象的是：

- ① 该候选人在工作中较强的执行能力博得了许多选民的支持
- ② 大多数候选人均存在或多或少的个人简历自我美化的情况
- ③ 个人以往的错误不代表他今后的工作表现
- ④ 该候选人以往的民意支持率一向很高

A. ②④

B. ①②

C. ③④

D. ①④

39. 《孙子兵法》曰：“兵贵胜，不贵久。”意思是说用兵的战术贵能取胜，贵在速战速决。然而，毛泽东的《论持久战》主张的却是持久战，中国军队靠持久战取得了抗日战争的胜利。可见，《论持久战》与《孙子兵法》在“兵不贵久”的观点上是不一致的。

如果以下哪项陈述为真，能最有力地削弱上述论证？

A. 在二战期间，德国军队靠闪电战取得了一连串的胜利，打进苏联后被拖入持久战，结果希特勒重蹈拿破仑的覆辙

B. 日本侵略者客场作战贵在速决，毛泽东的持久战是针对敌方速决战的反制之计，他讲的是战略持久，不是战术持久

C. 目前在世界范围内进行的反恐战争，从局部或短期上看是速决战，从整体或长远上看是持久战

D. 毛泽东的军事著作与《孙子兵法》在“知彼知己，百战不殆”和“攻其不备，出其不意”的观点上，具有高度的一致性

一起变更好

金标尺教育

40.某科学家用四种原料制造一种新药，他可以在稳定性化学成分 A、B、C、D 和不稳定性化学成分 W、X、Y、Z 中选择。为了防止发生剧烈反应，必须在配方中使用两种稳定性成分，同时下列一些成分由于互相之间有剧烈反应而不能合在一起使用：

- ①B 不能和 W 合用
- ②C 不能和 Y 合用
- ③Y 不能和 Z 合用

假如因 B 可能产生较大的副作用而决定不用，且配方中必须含有 Z，则下面哪组合是可能的配方。

- A.A+W+X+Z
- C.A+W+Y+Z

- B.A+X+Y+Z
- D.A+C+W+Z

金标尺教育
职通编制 到金标尺

金标尺教育
职通编制 到金标尺

金标尺教育
职通编制 到金标尺

金标尺教育
职通编制 到金标尺

金标尺教育
职通编制 到金标尺

金标尺教育
职通编制 到金标尺

金标尺教育
职通编制 到金标尺

金标尺教育
职通编制 到金标尺

金标尺教育
职通编制 到金标尺

金标尺教育
职通编制 到金标尺

金标尺教育
职通编制 到金标尺

金标尺教育
职通编制 到金标尺

金标尺教育
职通编制 到

报名热线：13161685939

金标尺教育
职通编制 99 到金标尺

金标尺教育
职通编制 到金标尺

金标尺学员专用资料